

Adı:  
Soyadı:  
Sınıfı/No:

## MATEMATİK PROBLEMLER TEST - 1

1.SINIF

1- 1 onluk 6 birlikten oluşan sayının 9 birlik eksiği kaç eder?

- a) 7                      b) 8                      c) 9

2- Duru 12 yaşındadır. Mete ise Duru'dan 3 yaş küçüktür. Mete kaç yaşındadır?

- a) 10                      b) 9                      c) 8

3- Mert, 17 fidanın 12 tanesini suladı. Mert'in sulamadığı kaç fidan kaldı?

- a) 5                      b) 7                      c) 9

4- 1 kedi ile 2 tavuğun ayak sayıları toplamı kaç eder?

- a) 7                      b) 8                      c) 9

5- 12 yaşında olan Ceyda ,6 yıl sonra kaç yaşında olur?

- a) 16                      b) 17                      c) 18

6- Esmâ'nın 13 tane tokası vardır. 6 tanesini Ayşe'ye verdi. Sonra annesi Esmâ'ya marketten 4 tane daha toka aldı. Esmâ'nın kaç tokası oldu?

- a) 9                      b) 10                      c) 11

7- Dolaptaki 17 yumurtanın 4 tanesi ile kek yaptık. 5 tanesi de kırıldı. Dolapta kaç yumurta kaldı?

- a) 7                      b) 8                      c) 9

8- Sınıfımızda 9 kız öğrenci vardır. Sınıfımızdaki öğrenci sayısı 19 olduğuna göre erkek öğrenci sayısı kaçtır?

- a) 10                      b) 19                      c) 28

9- Bir otobüste 18 yolcu vardır. Bu yolculardan 1.durakta 3 kişi, 2.durakta 4 kişi, 3.durakta ise 5 kişi inmiştir. Otobüsten toplam kaç yolcu inmiştir?

- a) 6                      b) 12                      c) 30

10- Ağaçta 8 kuş vardır. Ağaçtan 7 kuş uçtu. Sonra ağaca 15 kuş kondu. Ağaçta kaç kuş oldu ?

- a) 10                      b) 15                      c) 16

11- Ali 6 yaşındadır. Ablası Ali'den 3 yaş büyük olduğuna göre Ali ve ablasının yaşları toplamı kaçtır?

- a) 9                      b) 12                      c) 15

Adı:  
Soyadı:  
Sınıfı/No:

## MATEMATİK PROBLEMLER TEST - 1

1.SINIF

**12-** Sabah 9, akşam 6 problem çözdüm. Toplam kaç problem çözmüş oldüm?

- a) 15                      b) 12                      c) 11

**13-** 9 sayısından bir önce ve bir sonra gelen sayıların toplamı kaçtır?

- a) 10                      b) 18                      c) 28

**14-** Canan'ın 7, Mert'in 8 ve Can'ın 3 cevizi vardır. Üçünün cevizleri toplamı kaçtır?








- a) 14                      b) 16                      c) 18

**15-** Cemil'in 19 fıncığı vardır. Arkadaşına kaç fıncık verirse 9 fıncığı kalır?

- a) 10                      b) 9                      c) 8

**16-** 8 tane kırmızı balon, 9 tane de beyaz balon aldım. Şişirirken 5 tanesi patladı. Geriye kaç tane balon kaldı?

- a) 12                      b) 17                      c) 22

Günler	Hava Olayı
Pazartesi	
Salı	
Çarşamba	
Perşembe	
Cuma	
Cumartesi	
Pazar	

Bir Haftalık Hava Durumu Tablosu

**17-** Tabloda hava kaç gün güneşlidir?

- a) 1                      b) 2                      c) 3

**18-** Tabloda kaç gün yağmurlu değildir?

- a) 4                      b) 5                      c) 6

**19-** Tabloda hangi gün bulutludur?

- a) 1                      b) 3                      c) 5

**20-** Tabloya göre hangi bilgi yanlıştır?

- a) Hafta sonu yağmurludur.  
b) Cuma günü güneşlidir.  
c) Perşembe günü parçalı bulutludur.