
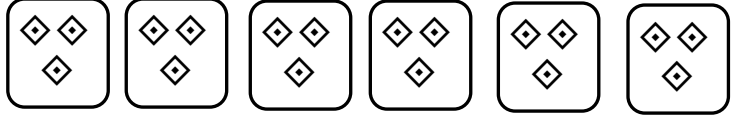




ÇARPMA İŞLEMİ

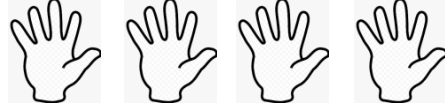
1. Etkinlik: Aşağıdaki nesne sayılarını örnekteki gibi önce toplama işlemiyle bulunuz. Sonra çarpma işlemiyle ifade ediniz.

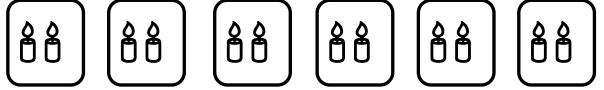
a) 
 $2 + 2 = 4$
 $2 \times 2 = 4$

b) 
 $\dots + \dots + \dots + \dots + \dots + \dots = \dots$
 $\dots \times \dots = \dots$

c) 
 $\dots + \dots = \dots$
 $\dots \times \dots = \dots$

c) 
 $\dots + \dots + \dots + \dots + \dots = \dots$
 $\dots \times \dots = \dots$

d) 
 $\dots + \dots + \dots + \dots = \dots$
 $\dots \times \dots = \dots$

e) 
 $\dots + \dots + \dots + \dots + \dots + \dots = \dots$
 $\dots \times \dots = \dots$

2. Etkinlik: Aşağıdaki cümlelerdeki ve işlemlerdeki noktalı yerleri doldurunuz.

$2 + 2 + 2 = \dots$

2

$3 \times 2 = \dots$

x3

... tane 2 , ... eder.

... defa 2 , ... 'ya eşittir.

... kere 2 , ... eder.

... çarpı 2 , ... 'ya eşittir.

....

$3 + 3 + 3 + 3 = \dots$

3

$4 \times 3 = \dots$

x4

4 3 , ... eder.

4 3 , ... 'ye eşittir.

4 3 , ... eder.

4 3 , ... 'ye eşittir.

....

$4 + 4 + 4 + 4 = \dots$

4

$4 \times 4 = \dots$

x4

... tane 4 , ... eder.

... defa 4 , ... 'ya eşittir.

... kere 4 , ... eder.

... çarpı 4 , ... 'ya eşittir.

....

$5 + 5 + 5 = \dots$

5

$3 \times 5 = \dots$

x3

3 5 , ... eder.

3 5 , ... 'e eşittir.

3 5 , ... eder.

3 5 , ... 'e eşittir.

....