


2. SINIF

MATEMATİK

SIVILARI ÖLÇME



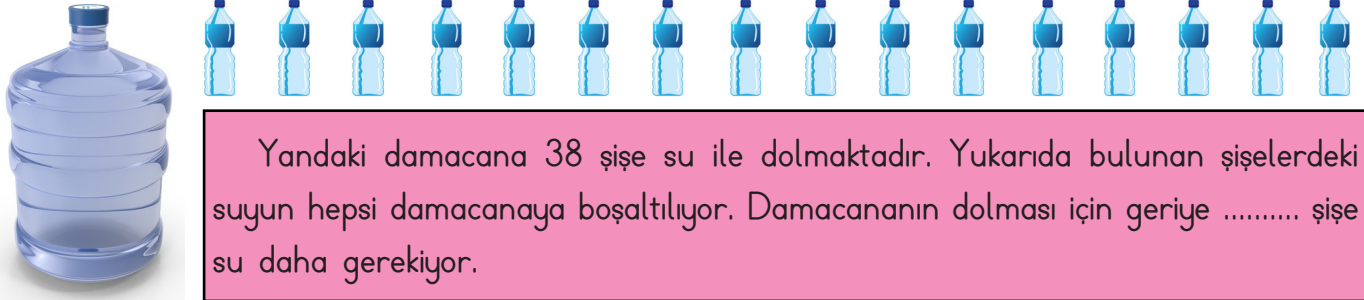
Aşağıdaki malzemelerin hangisiyle sürahi daha çabuk doldurulur.



Aşağıdaki malzemelerin hangisiyle damacana daha geç doldurulur.



Aşağıdaki soruyu verilen görsellere göre noktalı yerleri doldurunuz.




Yukarıdaki kovaların bir tanesi 8 sürahi su ile dolmaktadır. Yukarıda bulunan sürahideki suların hepsi kovalara boşaltılıyor. 2 kovanın da dolması için geriye sürahi su daha gerekiyor.

Aşağıda belirtilen çizgiye kadar kapların hepsinde sıvı vardır. Buna göre hangi kaptan daha çok sıvı vardır?



Aşağıdaki bardakların hangisini doldurmak için daha çok su gerekir?



2. SINIF

MATEMATİK

SIVILARI ÖLÇME



1. Bir kova 4 sürahi su almaktadır. Bu sürahilerden 1 tanesi ise 5 bardak su almaktadır. Buna göre kova kaç bardak su ile dolar?

2. Doktor Eren'e 2 şişe şurup vermiştir. Bu şişlerden 1 tanesi 20 kaşık şurup aldığına göre; Eren kaç kaşık şurup içecektir?

3. Adil bahçelerindeki ağacı sulamak için 2 kova su kullanmaktadır. Bu kovalardan biri 6 sürahi su almaktadır. Sürahilerden biri ise 4 bardak su almaktadır. Buna göre Adil; Bahçedeki ağacı kaç bardak su ile sulamaktadır?

4. Özlem 2 günde bir paket sütü bitirmektedir. Bu paket 3 bardak süt almaktadır. Buna göre; Özlem 4 günde kaç bardak süt içmektedir?

5. Annem tencerede süt kaynatmaktadır. Bu tencere 5 paket süt almaktadır. Süt paketinin bir tanesinde ise 5 bardak süt vardır. Annem tencerede kaç bardak süt kaynatmaktadır?