

Adı :

Soyadı:

MATEMATİK

Doğru Sayısı :




Yanlış sayısı:



1. Aşağıdakilerden hangisini gerçek boyutu-
nu santimetre olarak ölçemeyiz ?

A)



B)



C)



2. Aşağıdakilerden hangisi standart olmayan
ölçüm araçlarından biri değildir ?

A)



B)



C)



3. Yandaki ölçüm aracının ismi
nedir?



A) karış

B) adım

C) kulaç

4. Aşağıdakilerden hangisi standart ölçüm
araçlarından değildir ?


A)




B)



C)



5.



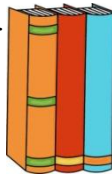
Yukarıdaki sayı doğrusu cetvelle aynıdır.
Buna göre mandalın boyu kaç cm'dir ?

A) 7

B) 6

C) 5

6. Yandaki kitaplarının her birinin ka-
lınlığı 6 cm'dir. 3 kitabı yan yana ko-
yunca toplam kalınlık kaç cm olur ?



A) 12

B) 18

C) 21

7. Kırmızı kurdele 70 cm , mavi kurdele 48
cm'dir. Kırmızı kurdele mavi kurdelede kaç cm
uzundur ?

A) 22

B) 32

C) 23

8.



Yukarıdaki ölçüme göre 4 ataç toplam
kaç cm'dir ?

A) 10

B) 9

C) 8

9.



Yukarıdaki tırtılın boyu kaç cm'dir ?

A) 7

B) 4

C) 3

10. 24 m uzunluğundaki kurdeleji 4 arka-
daş paylaşmışlar. Her birine kaç m kurdele
düşmüştür ?

A) 8

B) 6

C) 7

11. Vedat ile ağacın arası
17 m'dir. Vedat ağaca
kadar gidip tekrar bulunduğu noktaya ge-
lirse kaç m yürümüş olur?



A) 34

B) 24

C) 35

12. Annem 62 m'lik ipin önce 19 , sonra
28 m'sini kullandı. Geriye kaç m ip kal-
mıştır ?

A) 25

B) 15

C) 34

13. Benim bir karışım 10 cm'dir. Yastığımın
boyu ise 5 karıştan 6 cm daha kısadır. Yas-
tığımın boyu kaç cm'dir ?

A) 50

B) 43

C) 44