



2. SINIF DENEME SINAVI 20 MAYIS 2020



Sınavda toplam 45 soru bulunmaktadır.



HALİL OĞUZ
Mr. Poopybutt
Mr. Poopybutt



2. SINIF DENEME SINAVI



TÜRKÇE TESTİ



Bu bölümde 15 soru bulunmaktadır.

İlk 3 soruyu aşağıdaki videoyu izledikten sonra izlediğiniz animasyona göre cevaplandıralım. (Animasyonu izlemek için resmin üzerine tıklayalım)



1

Animasyondaki çocuğun gördüğü zaman mutlu olduğu adam hangi müzik aletini çalmaktadır?

A)



B)



C)



2

Animasyonda renklerini yitiren insanların ortak rengi hangisidir?

A) Mavi

B) Yeşil

C) Gri

3

Aşağıdakilerden hangisi izlediğiniz animasyonun ana fikri olamaz?

A) Her insanın yapmaktan keyif aldığı şeyler, onun için hayatın renkleridir.

B) Herkesin birbirine benzemesi kötü değildir.

C) Renklerimizden yitirmemek adına farklı olmaktan asla vazgeçmemeliyiz.

4



yorganına



uzat



ayağını



göre

Yukarıdaki kelimelerle anlamlı bir cümle oluşturulduğunda baştaki ve sondaki kelimelere ait semboller hangi seçenekte doğru verilmiştir?

Baştaki Kelime

Sondaki Kelime

A)



B)



C)



5

ankara - serçe - telefon

marul - gitar - türkçe

Yukarıdaki sözcüklerden kaç tanesini yazarken cümle içinde de ilk harfini büyük yazarız?

A) 1

B) 2

C) 3



2. SINIF DENEME SINAVI



6

Annemler perşembe günü İstanbul'a gidecekler.



Semih kurduğu cümledeki kelimelerden bazılarını yanlış söylemiştir.

Semih'in kurduğu cümledeki sözcüklerin kaç tanesi yanlıştır?

- A) 1 B) 3 C) 2

7

1. Parkta oynamayı ve salıncakta sallanmayı severim.
2. Arkadaşlarımla da parkta olmaları beni mutlu eder.
3. Onlarla vakit geçirmekten zevk alıyorum.

Kaç numaralı cümlede satır sonuna sığmayan sözcük doğru biçimde hecelerine ayrılmıştır?

- A) 3 B) 2 C) 1

8

papatya	perde
pipet	perişan

Yukarıdaki sözcükler alfabetik sıraya konulduğunda baştan ikinci sırada hangi sözcük yer alır?

- A) perde B) pipet
- C) perişan

9

Beyzanın doğum günü hangi gün






Yukarıda Ceren'in kurduğu cümlelerin doğru yazılabilmesi için aşağıdaki noktalama işaretlerinden hangisine ihtiyaç yoktur?

- A) ? soru işareti
- B) . nokta
- C) / kesme işareti

10



Aşağıdaki varlıklardan hangisinin adının ilk hecesi yukarıdaki görselde yer alanın son hecesiyle başlar?

- A) 
- B) 
- C) 



2. SINIF DENEME SINAVI



11



Yukarıdaki sözcüklerden eş anlamlı olanlar eşleştirilecektir.

Buna göre hangi eşleştirme doğrudur?

- A) - B) -
- C) -

12

Aslan ve arkadaşları

özel ad

çoğul ad

ormanda toplandılar.

topluluk adı

Yukarıdaki altı çizili olarak verilen kelimelerle ilgili bilgilerden hangisi yanlıştır?

- A) B)
- C)

13

"**kalabalık - تنها**" sözcükleri arasındaki anlam ilişkisi aşağıdakilerin hangisinde yoktur?

- A) zengin-fakir B) sert-yumuşak
- C) kara-siyah

14



Tohumlar fidana
Fidanlar ağaca
Ağaçlar ormana
Dönmeli yurdumda

Yuvadır kuşlara
Örtüdür toprağa
Can verir doğaya
Ormanlar yurdumda

Yukarıdaki şiir için en uygun başlık hangisi olabilir?

- A) Dünyamız B) Ağaç Sevgisi
- C) Ormanlar Yurdumda

15

Aşağıdaki kahramanlardan hangisi hayal ürünü değildir?

A)



B)



C)



Türkçe testi sona erdi.
Matematik testine geçiniz.



2. SINIF DENEME SINAVI



MATEMATİK TESTİ



Bu bölümde 15 soru bulunmaktadır.

Tablo : Sınıf Kitaplığındaki Kitaplar

Kitap Türleri	Kitap Sayısı
Masal	HHH HHH HHH HHH IIII
Şiir	HHH III
Hikaye	HHH HHH HHH IIII
Fıkra	HHH

Yukarıdaki çetele tablosu bir sınıf kitaplığında yer alan kitap türlerini ve sayılarını göstermektedir.

Bu tabloya göre 1, 2 ve 3. Soruları yanıtlayalım.

1

Sınıf kitaplığında kaç kitap vardır?

- A) 56 B) 24 C) 4

2

Şiir ve hikaye kitaplarının sayısının eşit olması için sınıf kitaplığına kaç şiir kitabı daha alınmalıdır?

- A) 10 B) 11 C) 12

3

Hikaye kitapları ile şiir kitaplarının toplam sayısı masal kitaplarının sayısından kaç fazladır?

- A) 3 B) 4 C) 5


4



Yukarıdaki kedilerin sayısının 2 düzineye tamamlanması için kaç kedi daha olmalıdır?

- A) 10 B) 11 C) 12

5



Yukarıda dörder ve beşer ritmik sayarken söylediğimiz bazı sayılar sıralanmıştır.

Bu sayılardan hem dörder hem de beşer sayarken ortak söylediğimiz sayıların toplamı kaçtır?

- A) 20 B) 40 C) 60



2. SINIF DENEME SINAVI



6



10 ₺

18 ₺



AYDIN

Cebimde 40 lira var.

Yukarıdaki oyuncaklardan birer tane kendime, birer tane de arkadaşşıma almak istiyorum.

Aydın'ın söylediđi oyuncakları alabilmek için kaç TL'ye daha ihtiyacı vardır?

- A) 16 B) 28 C) 56

7



Aylin akşam dokuz buçukta uyumak için yatađına yattıđını söylemektedir.

Aşğıdaki dijital saatlerden hangisi Aylin'in uyuduđu saati göstermektedir?

- A) B)
- C)

8



Marketten aldıđım sütün üzerinde Nisan ayının başında üretildiđi ve 6 ay raf ömrü olduđu yazmaktadır.

Sütün son kullanım tarihi hangi aydadır?

- A) Temmuz B) Ağustos C) Eylül

9




Zeynep arkadaşlarıyla oynamak için öğleden sonra iki buçukta dışarı çıkmıştır. Dışarıda bir buçuk saat kaldıktan sonra eve dönmüştür.

Buna göre Zeynep'in eve döndüđu saat aşağıdakilerden hangisidir?

- A)
- B)
- C)

2. SINIF DENEME SINAVI

10



Kenan ve ablası frizbi oynamaktadırlar. Ablası frizbiyi Kenan'a fırlatmaktadır. Frizbinin yaptığı hareket aşağıdakilerden hangisidir?

- A) Sağdan sola doğru hareket
- B) Soldan sağa doğru hareket
- C) Aşağıdan yukarıya doğru hareket

11

$$16 \div 2 = \text{🌸}$$

$$20 \div 4 = \text{🐛}$$

Yukarıdaki işlemlere göre 🌸 X 🐛 işleminin sonucu kaçtır?

- A) 13
- B) 40
- C) 30

12



Feride ve Şule yukarıdaki pizzaların her birini dört eş parçaya ayırıyor. Feride eş parçalardan 5'ini, Şule 3'ünü yiyor.

Buna göre pizzalardan geriye kaç eş parça kalır?

- A) 4
- B) 8
- C) 12

13

Kumbaramdan 3 tane 20 TL , 1 tane 10 TL ve 2 tane 5 TL çıktı



Yasemin kumbarasından çıkan paralarla doğum günü için 45 TL'ye pasta alıyor.

Geriye kaç TL'si kalmıştır?

- A)
- B)
- C)

Bahçeye Dikilen Meyve Ağaçları Grafiği

Ağaç Türleri	Ağaç Sayıları
Elma ağacı	
Kiraz ağacı	
Portakal ağacı	

Her şekil 5 ağacı göstermektedir.

14. ve 15. Soruları grafiğe göre cevaplandırınız.

14

Bahçeye kaç meyve ağacı dikilmiştir?

- A) 14
- B) 70
- C) 75

15

En fazla dikilen ve en az dikilen meyve ağaçlarının sayıları arasındaki fark kaçtır?

- A) 3
- B) 10
- C) 15

Matematik testi sona erdi.

Hayat Bilgisi testine geçiniz.

HAYAT BİLGİSİ TESTİ

Bu bölümde 10 soru bulunmaktadır.

1

Aşağıda verilen canlılar ve yaşadıkları yerlerle ilgili eşleştirmelerden hangisi doğrudur?

A)



B)



C)



2

Saksıda domates yetiştirmek isteyen Kamile aşağıdaki işlemleri hangi sırayla yapmalıdır?



Domates fidelerini sulamak



Saksıya toprak koymak ve fideleri dikmek



Saksıyı güneşe çıkarmak

- A) - - B) - -
C) - -

3

Toprakların verimli olduğu ve su kaynaklarının yeterli olduğu bölgelerde aşağıdaki üretim faaliyetlerinin hangisi daha çok yapılır?

- A) Tarım B) Hayvancılık C) Sanayi

4

Aşağıdaki çocuklardan hangisi dini bayramlarımızı doğru söylemiştir?

- A) Cumhuriyet Bayramı ve Ramazan Bayramı

- B) Kurban Bayramı ve Zafer Bayramı

- C) Ramazan Bayramı ve Kurban Bayramı

* Atık maddelerin belirli işlemlerden geçirilerek yeniden üretime kazandırılmasına denir.

5

Yukarıdaki cümlede boş bırakılan yere hangi ifade getirilmelidir?

- A) Hammadde B) Geri dönüşüm
C) Tüketim



2. SINIF DENEME SINAVI



6

Aşağıdaki görsellerden hangisi kültürel miraslarımızdan birisine ait değildir?

A)



B)



C)



7

Akşam yemeğinde sağlıklı ve dengeli beslenmek isteyen birisi hangi seçenekteki besinleri tüketmelidir?

A)



B)



C)



8

Aşağıda görselde verilen durumla karşılaştığımızda arayacağımız numara hangisidir?



A) 155

B) 110

C) 112

9

Aşağıdaki ifadelerden hangileri doğrudur?

Su kaynakları insanların yaşamlarını doğrudan etkiler.

Düz araziler, verimli topraklar insanların yaptıkları üretim faaliyetlerini olumlu yönde etkiler.

Yağışın azlığı veya çokluğu üretim faaliyetlerini etkiler.

A)

B) ve

C) ve

10

Aşağıdaki çocuklardan hangisinin davranışı yanlıştır?

A)



B)



C)



Hayat Bilgisi testi sona erdi.

İngilizce testine geçiniz.



2. SINIF DENEME SINAVI



İNGİLİZCE TESTİ



Bu bölümde 5 soru bulunmaktadır.

1



Yukarıdaki diyalogda boşluğa gelebilecek uygun ifade hangisidir?

- A) What is this
- B) What colour is this
- C) How many hands are there

2



Boşluğa uygun ifade hangisidir?

- A) dog
- B) horse
- C) lion

3



There is a under the table.

- A) dog
- B) cat
- C) rabbit

4





Yukarıdaki resme göre hangi ifade doğrudur?

- A) The birds are on the tree.
- B) The birds are in the tree.
- C) The birds are under the tree.

5

Hello, I'm a donkey.

Yukarıdaki ifadeyi hangisi söylemiş olabilir?



Tebrikler !

Sınav sona erdi.