

16 NİSAN 2020

**ÖĞRENCİ
GÖREVLERİ**



nihalkaralikorkmaz

HAYAT BİLGİSİ ÇALIŞMAMIZ

Aşağıdaki bilgileri en güzel yazınızla hayat bilgisi defterinize yazın 😊

BİRLİKTE YAŞIYORUZ

Ülkemize, başka ülkelerden zorunlu ya da isteyerek göç etmiş kişilerde vardır. Bu kişilerin kültürleri bizimkilerden farklı olabilir. Bu nedenle bu kişilerin yaşam şekillerine ve alışkanlıklarına saygı duymamız gerekir.

Savaş, kıtlık, eğitim, iş gibi çeşitli nedenlerle bizlerle birlikte ülkemizde yaşayan bu kişilerin sorunlarına karşı duyarlı olmaya özen göstermeliyiz. Karşılaştıkların zorlukların çözümünde ve ülkemize uyum sağlamalarında onlara yardımcı olmalıyız.

Unutmayalım ki hiç kimse zorunlu olmadıkça doğduğu toprakları terk etmek istemez.



SIZE BİR SORUM VAR

Büyüdüğünüzde çok uzak bir ülkede çalışmak zorunda kalsanız size nasıl davranılmasını istersiniz?

Aşağıdaki ifadeler doğru ise başına «D» yanlış ise başına «Y» yazalım.

- () Farklı kültürlerden insanlara saygı duymamız gerekir.
- () Ülkemizde sadece Türk vatandaşları yaşar.
- () Farklılıkları bir kültürel zenginlik olarak görmeliyiz.
- () Gelenek ve göreneklerimiz kültürel mirasımızı oluşturur.
- () Ülkemizde herkes aynı kıyafeti giyer, aynı yemeği yer.
- () Ülkemizde herkes aynı dili konuşur.
- () Bir ülkede yaşayan insanların yaşam şekilleri farklı olabilir.
- () Ülkemizde yaşayan farklı kültürdeki insanlara karşı hoşgörülü olmalıyız.
- () Gelenek ve göreneklerimizi devam ettirmek için çabalamalıyız.
- () Hamburger bizim kültürümüze ait bir yiyecektir.

KURALLI CÜMLE YAPMA

Aşağıdaki cümlelerin kelime sayılarını örnekteki gibi arttırarak yazalım.

ÖRNEK

tuttu
elinden
arkadaşının
Yeliz

1. Tuttur.
2. Elinden tuttu.
3. Arkadaşının elinden tuttu.
4. Yeliz arkadaşının elinden tuttu.

beyazladı
saçları
üzüntüden
annemin

1.
2.
3.
4.

topladık
gülleri
kırmızı
bahçedeki

1.
2.
3.
4.

yerleştirdi
dolaba
çamaşırları
katladığı

1.
2.
3.
4.

ağladı
hıçkırarak
odasında
bugün

1.
2.
3.
4.






SAAT KAÇ?

Dijital saatlerde verilen saati analog saatlerde gösterelim. Daha sonra saatlerin okunuşlarını yazalım.

ÖRNEK


05:45



Saat 6'ya çeyrek var.

1-


01:15



Saat

2-


11:30



Saat

3-



08:45



Saat

4-



10:00



Saat

5-

02:45



Saat

Okunuşları verilen saatleri dijital saat olarak yazın.

Analog saat çizerek üzerinde gösteriniz..

1- Saat 9 buçuk.

2- Saat 8'i çeyrek geçiyor.

3- Saat 12.

2- Saat 12'ye çeyrek var.



nihalkaralickorkmaz