






## KUVVETİ TANIYALIM - TEST 1

1. Yandaki resimdeki çocuk aşağıdaki hareketlerden hangisini yapmaktadır ?




- A) Yavaşlama B) Sallanma  
C) Dönme



2. Aşağıdakilerden hangisi kendiliğinden hareket eder ?

- A)  B)  C) 

3. Aşağıdaki hayvanlardan hangisi diğerlerinden daha hızlı hareket eder?

- A)  B)  C) 

4. Yandaki oyuncak aşağıdaki Hareketlerden hangisini yapar ?

- A) Sallanma B) Dönme  
C) Yön değiştirme



5. Yavuz: Tilki, tavuktan hızlıdır.  
Oya: Fil, aslandan hızlıdır.  
Utku: İnek, köpekten yavaşır.  
Yukarıda hangi çocuğun yaptığı yorum yanlıştır?

- A) Yavuz B) Utku C) Oya

6. Duvara çarpıp geri dönen topun yaptığı hareket aşağıdakilerden hangisidir ?

- A) Yön değiştirme B) Sallanma  
C) Hızlanma

7. Hava alanına inişe geçen uçağın yaptığı hareket aşağıdakilerden hangisidir ?

- A) Hızlanma B) Yavaşlama  
C) Dönme

8. I. Duran bir cismi hareket ettirebilir.  
II. Hareketli bir cismin hızını yavaşlatabilir.  
III. Hareketli bir cismi durdurabilir.  
Yukarıdakilerden hangileri kuvvet için doğru söylemlerdir ?

- A) I ve III B) I ve II C) I, II ve III

9.



Yavaşlama






Sallanma



Dönme

Resimlerle hareketler eşleştirildiğinde aşağıdaki şekillerden hangisi ortaya çıkar ?

- A)  B)  C) 

10. Yokuş yukarı giden bisiklet aşağıdaki hareketlerden hangisini yapar ?

- A) Hızlanma B) Yavaşlama  
C) Sallanma

11. Onuncu kattan aşağı bırakılan top aşağıdaki hareketlerden hangisini yapar ?

- A) Hızlanma B) Yavaşlama  
C) Sallanma