
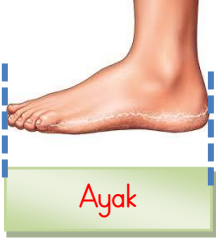


1.SINIF

UZUNLUK ÖLÇÜLERİ (STANDART OLMAYAN ÖLÇMELER)



	PARMAK	KARIŞ	AYAK	ADIM	KULAÇ
Halı					
Defter					
Balkon					
Masa					
Mutfağın boyu					
Yatağımın boyu					
Televizyon					
Koltuk					
Kapı					

Yukarıya sizde evinizde veya çevrenizde bulunan eşyalar yazarak standart olmayan ölçülerle ölçünüz ve sonucunu karşısına yazınız. Küçük eşyaları parmak ve karış ile büyük eşyaları adım, kulaç ve ayak ile ölçelim. Ölçülemeyenlere kısa çizgi (-) koyunuz.

STANDART OLMAYAN ÖLÇÜ BİRİMLERİYLE ÖLÇME ÇALIŞMASI

Odamın boyunu ölçtüm.....kulaç geldi.

Odamın enini ölçtüm.....kulaç geldi.

Odamın boyu, odamın enindenkulaçdır.

Çalışma masamın boyu.....karış geldi.

Çalışma masamın eni.....karış geldi.

Çalışma masamın boyu, enindenkarış.....dır.

Matematik kitabımın boyu.....parmak geldi.

Matematik kitabımın eniparmak geldi.

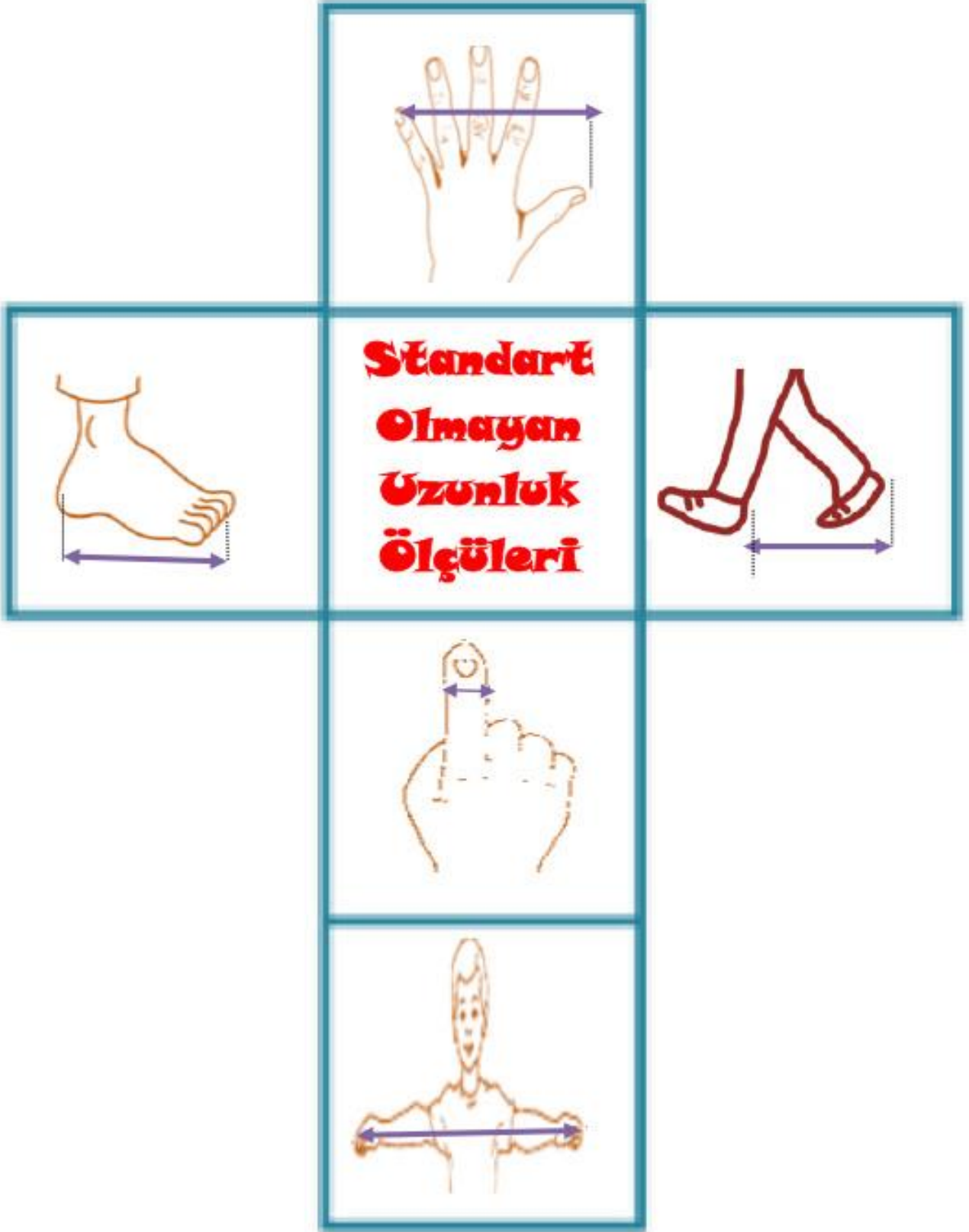
Kitabın boyu, enindenparmakdır.

Misafir odamızın enini ve boyunu ölçtüm. Odamızın boyu adım, eniadım geldi. Daha sonra babam ölçtü. Babam, odanın boyunu..... adım, enini adım ölçtü. Benim adım sayım babamın adım sayısından fazla oldu. Çünkü.....

Aşağıda verilen uzunlukları, parmak, karış, adım, ayak, kulaçtan hangi ile ölçmek daha uygun olur.

Evimiz ile okul arası	
Elbise dolabımızın boyu	
Sıramın eni ve boyu	
Kalemimin boyu	
Okul bahçesinin uzunluğu	
Defterimin eni ve boyu	
Cep telefonunu boyu	
Kravatın boyu	

Sayın veli: bu çalışmayı yaparken öğrencime yardımcı olalım.
Unutmayalım ki yaşayarak-yaparak öğrenme daha kalıcı olur.



Başlığın olduğu kareden yapıştırır ve arkalarına isimlerini yazar mısın ?

ÖLÇÜM YAPALIM

Kulaç

Adım

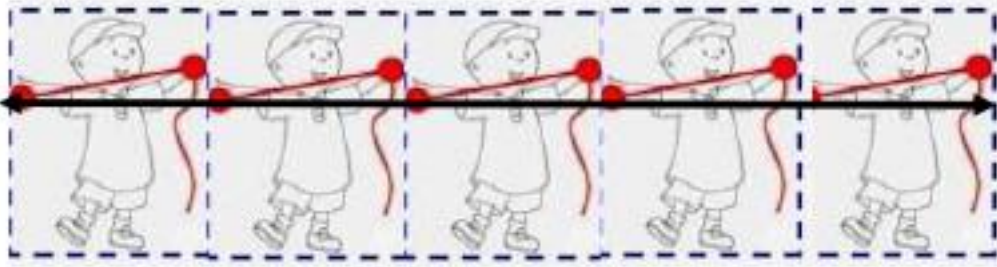
Ayak

Karış

Parmak



Egemen kaç kulaç ip ölçtü ?



.... Kulaç

Talha yollukta kaç adım attı?



... adım

Betül kaç karış zincir ölçtü ?



.... karış

Beril kaç ayak hortum ölçtü?



..... ayak

Efe silgiyi kaç parmak ölçtü?



..... parmak