



SAYI ÖRÜNTÜLERİ



Aşağıda verilen sayı örüntülerinin kuralını yazınız. Sayı örüntüsüne uygun sayıyı yazınız.




Örüntünün Kuralı:



Örüntünün Kuralı:



Örüntünün Kuralı:



Örüntünün Kuralı:



Örüntünün Kuralı:



Örüntünün Kuralı:



Örüntünün Kuralı:



Örüntünün Kuralı:



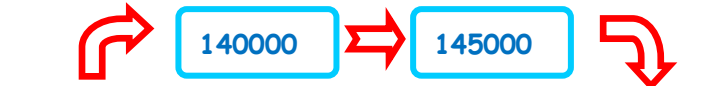

Örüntünün Kuralı:



Örüntünün Kuralı:

İskender07

Aşağıda verilen sayı örüntülerinin kuralına göre uygun sayıları yazınız.



İskender07