

2. SINIFLAR SENE SONU KAZANIM DEĞERLENDİRME SINAVI



ADINIZ SOYADINIZ:



TÜRKÇE TESTİ



Türkçe testinde toplam 15 soru bulunmaktadır. Lütfen soruları dikkatlice okuyup cevaplandırınız.

YA ÜSTÜNDE OLSAYDIM

Nasrettin Hoca bir gün çarşı pazar dolaşırken dalgınlığı sonucunda eşeğini kaybetmiş. Aramadık yer bırakmamış. Sonunda komşuları da dahil olmuşlar ve birlikte koyulmuşlar eşeği aramaya. Eşek yer yarılmış da içine girmiş sanki. Ne yaptılarsa bulamamışlar.

Bu esnada Nasrettin Hoca'yı derdine yanmak yerine haline şükrederken gören komşuları:

- Hocam sonuçta eşeğini kaybettin. Şükredecek ne var bunda? Hoca cevap vermiş:
- Elbette şükrederim halime. Ben etmeyim de kim etsin? Ya ben de eşeğin üzerinde olsaydım, demiş.



İlk üç soruyu okuduğumuz fıkraya göre cevaplandırınız.

1 Nasrettin Hoca eşeğini kaybettiği halde neden şükretmiş?


- A) Üzerinde kendisi de olmadığı için.
- B) Eşekten kurtulduğuna sevindiği için.
- C) Eşeği ararken kendisi kaybolmadığı için.

2 Aşağıdaki görsellerden hangisinin fıkrada anlatılanlarla doğrudan ilgisi yoktur?

A)



B)



C)



3 Hangi atasözü taşıdığı anlam bakımından fıkrada konu edilen olaylarla ilgili sayılabilir?

- A) Eşeğe altın semer vursalar, yine eşektir.
- B) Önce can, sonra canan.
- C) Ne ekersen onu biçersin.

4 Aşağıdaki varlıklardan hangisinin adındaki sesli harf sayısı 'televizyon' sözcüğünün sesli harf sayısına eşittir?

A)



B)



C)





TÜRKÇE TESTİ



5

'run-tu-cu' hecelerini kullanarak hangi balonun bir özelliğini söyleyebiliriz?

A)



B)



C)



6

Dışarı çıkmana izin veririm ama önce ödevini bitirmelisin.



Annesinin Can'a söylediği cümlede altı çizili sözcüklerden hangisinin tek başına bir anlamı yoktur?

A) dışarı

B) önce

C) ama

7

S	A	Ğ	L	I	K	Z
E	T	E	D	B	İ	R
P	V	A	Z	İ	F	E

Yukarıdaki bulmacada aşağıdaki sözcüklerden hangisinin eş anlamlısı yoktur?

A) Sihat

B) Önlem

C) Sorumluluk

8

"evin boyadık dün duvarlarını"
▲ ◉ ♥ ★

Yukarıdaki sözcüklerle anlamlı ve kurallı bir cümle oluşturduğumuzda sembollere ait sıralama nasıl olur?

- A) ▲ ★ ♥ ◉
B) ▲ ♥ ◉ ★
C) ♥ ◉ ★ ▲

9

Aşağıdaki cümlelerin hangisinde özel adların yazımı ile ilgili yanlışlık yapılmamıştır?

A) Akşamki davete Ali'ler de gelecek mi?

B) Mine'nin kalemi çok güzel.

C) Gördüğüm en güzel gözler Şeymanın gözleri.



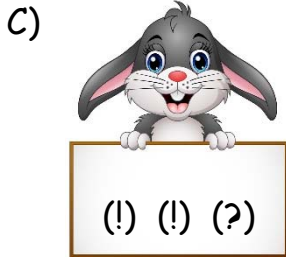
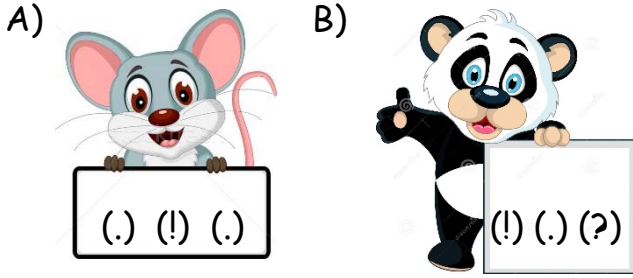


TÜRKÇE TESTİ



- 10 - Of() Çok karasız kaldım()
- Peki sana bu konuda nasıl yardımcı olabilirim()

Yukarıdaki konuşmada yay ayrıç () ile gösterilen yerlere sırasıyla hangi noktalama işaretleri getirilmelidir?



11



Gül

Anneciğim

.....
bulamıyorum.

Gül'ün kurduğu cümlede noktalı yere hangi sözcük eklenirse konuşmasında çoğul bir ad kullanmış olur?

- A) gözlüğümü B) tokamı
C) kalemlerimi

12



Yukarıdaki görselin verildiği bir metnin konusu aşağıdakilerden hangisi olamaz?

- A) İnsanların doğaya verdiği zararlar
B) Göl kenarında yapılan piknik
C) Çevre kirliliğine neden olan şeyler

1. Canı karpuz yemek istedi.
2. Koltuğundan kalkıp mutfağa gitti.
3. Buzdolabını açıp karpuzu aldı.
4. Dolapta karpuz yoktu.
5. Güzelce dilimleyip tabağa koydu ve yedi.

13

Yukarıdaki cümlelerin anlamlı biçimde sıralanabilmesi için kaç numaralı cümle çıkarılmalıdır?

- A) 2 B) 4 C) 5





TÜRKÇE TESTİ



14 Umut adı doğru yazılan meyveyi yiyecektir.

Umut hangi meyveyi yemelidir?

A)



Ahududu

B)



Mandelina

C)



Armut


15

"Ailemle birlikte hafta sonu arabamızla Kırşehir'e gittik. Harika bir bahar sabahıydı. Güneş yol boyunca bize eşlik etti. Kırşehir'de dedemi ziyaret ettik. Dedemin bahçesindeki meyvelerden topladık ve yedik. Çok güzel bir hafta sonu geçirdik."

Yukarıdaki parçaya göre verilen bilgilerden yola çıkarak tabloda yer ve zamanla ilgili olarak verilen bilgilerden hangisi doğrudur?

	YER	ZAMAN
A)	Otomobil	Bahar
B)	Kırşehir	Bahar
C)	Kırşehir	Yaz

Türkçe testi sona erdi. Lütfen Matematik testine geçiniz.





MATEMATİK TESTİ



Matematik testinde toplam 15 soru bulunmaktadır. Lütfen soruları dikkatlice okuyup cevaplandırınız.

1



Ayça, 24 kg



Ayberk, 47 kg

Yukarıda verilen bilgilere göre, Ayça ve Ayberk'in ağırlıklarına ait sayılar en yakın onluklara yuvarlandığında iki sayı arasındaki fark kaç olur?

- A) 30 B) 20 C) 23

2




Tembel arıdan 2 düzine bal peteği yapması istenmiş. Fakat o yukarıdaki kadar sayıda petek yapıp dinlenmeye koyulmuş.

Tembel arının kaç tane daha petek yapması gerekir?

- A) 5 B) 10 C) 20

3



Yukarıda modellenen sayı ile ilgili aşağıdaki çocuklardan hangisinin ifadesi doğru değildir?

- A) Sayı "yetmiş beş" şeklinde okunur.
- B) Sayının birler basamağındaki rakam 5'tir.
- C) Sayı 5 onluk, 7 birlikten oluşmaktadır.



1.	19	23	27	31	35
2.	17	22	27	32	37
3.	41	38	35	32	29



4 Ritmik sayma sevdalısı tavuğumuz kümesine dörder ritmik saymanın olduğu yoldan gitmek istemektedir. Tavuğumuz kaç numaralı yolu takip ederse bu isteğine uygun davranmış olur?

- A) 1. B) 2. C) 3.







MATEMATİK TESTİ



5

$$\text{Elma} + 24 = 57$$

$$\text{Elma} - 17 = 19$$

Yukarıdaki işlemlere göre  ve  yerine yazılabilecek sayıların toplamı kaçtır?

- A) 36 B) 69 C) 81

6



Serpil öğretmen beraberinde sınıfa getirdiği kova, pet şişe ve sürahiyi öğrencilerine gösterdi. Bu üçüne de 4 bardak su koyduğu zaman hangi kaptaki su seviyesinin daha yüksek olacağını sordu.

Hangi öğrenci öğretmenin sorusunu doğru cevaplamıştır?

A)



B)

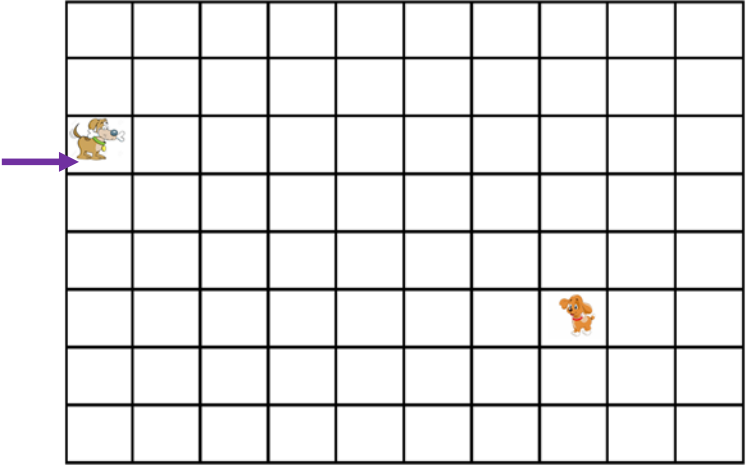


C)



7

Köpek dostumuzun ağızındaki yiyeceği yavrusuna ulaştırabilmesi için önce ok yönünde kare doğru, sonra kare yönde ilerlemesi gerekir.



Bu cümledeki boşluklar yukarıdaki görsele tamamlandığında sırasıyla hangi sözcükler yazılmalıdır?

- A) 3 - aşağı - 7 - sağ
B) 7 - sağa - 3 - aşağı
C) 7 - sola - 3 - yukarı

8

8 koyunun ayak sayısı
9 tavuğun ayak sayısından
kaç fazladır?



- A) 32 B) 36 C) 14





MATEMATİK TESTİ



9

Yandaki bölme işlemi aşağıda verilen problemlerden hangisinin çözümü olamaz?

$$\begin{array}{r} 21 \overline{) 3} \\ -21 \\ \hline 00 \end{array}$$

- A) Her birinde 21 kalem olan 3 kutuda toplam kaç kalem vardır?
- B) 21 kiraz 3 tabağa eşit biçimde paylaştırıldığında her tabakta kaç kiraz olur?
- C) 21 TL'yi ben ve iki kardeşim eşit olarak paylaştık. Her birimize kaç TL düşer?

10



Kahve içmek için saat 12:15'te evden çıkan ablam 3 saat 30 dakika sonra eve dönmüştür.

Ablamın eve döndüğü zamanı gösteren saat hangi seçenekte verilmiştir?

- A) **14:45** B) **15:15**
- C) **15:45**

11



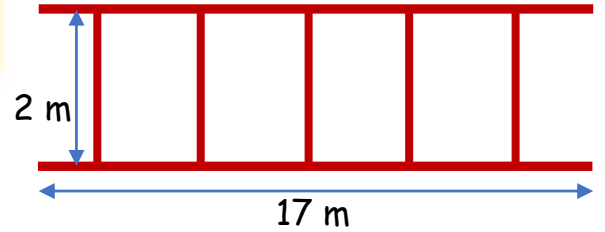
Burak kumbarasından çıkardığı yukarıdaki paralarla yandaki ayakkabıyı aldı. Kalan parasının yarısı ile de arkadaşlarına dondurma ısmarladı. Ve geri kalan parasını da tekrar kumbarasına koydu.



Burak kumbarasına tekrar kaç TL koymuştur?

- A)
- B)
- C)

12



Babam yukarıdaki merdiveni yapmak için kaç metrelik tahta kullanmıştır?

- A) 44 m B) 36 m C) 19 m





MATEMATİK TESTİ



Bahçemizde yetişen meyve miktarlarının nesne grafiği

Elma	
Armut	
Çilek	
Üzüm	

Her şekil 2 kg meyveyi göstermektedir.

13

Bahçemizde yetişen meyvelerden en çok ve en az yetişenleri pazarda sattık. En çok yetişen meyveyi kilogramı 4 TL'den, en az yetişeni 5 TL'den sattığımızı göre bu satışlardan kaç TL kazandık?

- A) 20 TL B) 40 TL C) 60 TL

14



Yukarıdaki el arabasındaki eş kutulardan her birinin ağırlığı 10 kg'dır. Kutularla birlikte el arabası tartıldığında ağırlığı 49 kg gelmektedir.

Buna göre el arabasının boş ağırlığı kaç kilogramdır?

- A) 9 kg B) 39 C) 59

15



9 m

18 m




Anne tavşan her zıpladığında 3 m yol alabilmektedir. Anne tavşan zıplayarak gidip havucu alıp yavrusuna götürecektir.

Buna göre anne tavşan havucu alıp yavrusuna götürürken kaç kez zıplamalıdır?

- A) 3 B) 6 C) 9

Matematik testi sona erdi.

Lütfen Hayat Bilgisi testine geçin.





HAYAT BİLGİSİ TESTİ



1

"Kıvrıkcık saçlı, uzun boylu ve esmerim. Bilin bakalım ben kimim?"

Bu ifadeleri aşağıdaki çocuklardan hangisi kullanmış olabilir?

A)



B)



C)



2



Sağlıklı ve dengeli beslenmeye özen gösteren birisi sabah kahvaltısında hangilerini tüketmelidir?

A) ★ ▲ ☀ B) 🌿 ▲ ★

C) 🌿 ☀ ▲

3

Annemizin erkek kardeşi bizim dayımızdır.

Babamızın kız kardeşine hala deriz.

Kuzenlerimiz babaannemizin kız ve erkek kardeşleridir.

Tabloda verilen bilgiler doğru veya yanlış oluşlarına göre değerlendirildiğinde baştaki kutuların görünümünü nasıl olur?


A)



B)



C)



4



Çocuklar! Hangi oyunu oynarken bir ebe seçmeyiz?

Murat öğretmenin sorduğu soruya uygun cevap aşağıdakilerden hangisidir?

A) Seksek

B) Saklambaç

C) Körebe

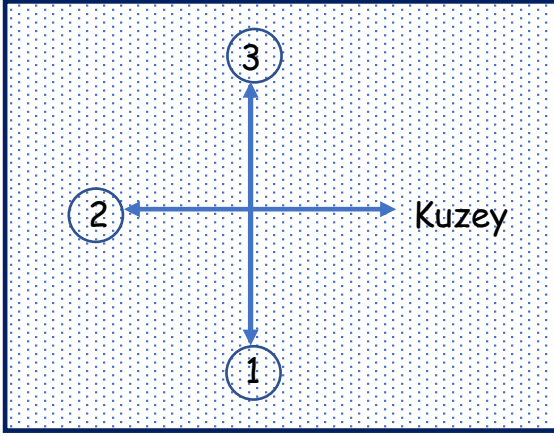




HAYAT BİLGİSİ TESTİ



5



Yukarıdaki yön pusulasına göre Güney yönü kaç numaralı okla gösterilmiştir?

- A) ① B) ② C) ③

6



Atatürk'ün Samsun'a çıkarak başlattığı, Milli Mücadele'nin yıl dönümünde aşağıdaki bayramlardan hangisini kutlarız?

- A) Zafer Bayramı
B) Atatürk'ü Anma, Gençlik ve Spor Bayramı
C) Cumhuriyet Bayramı

Paramı biriktirdikten sonra, önce ihtiyacım olan ayakkabıyı aldım. Kalan paramla da kendime ve kardeşime çikolata aldım.



Silgimi kaybetmiştim. Kırtasiyeye silgi almak için gittim. Sonra oyun kartlarını görünce silgiyi daha sonra almaya karar verdim. Oyun kartlarını aldım, çok mutluyum.



Uzun zamandır almayı istediğim kitabı görünce babama kitabı alıp alamayacağımızı sordum. Maaşını aldığımda alabileceğimizi söyledi. Dün kitabımla birlikte geldi babam. Kitabı görünce çok mutlu oldum.



7

Yukarıdaki çocuklardan hangisi istek ve ihtiyaçlarını göz önünde bulundurarak doğru bir davranış sergilememiştir?

- A)  B)  C) 



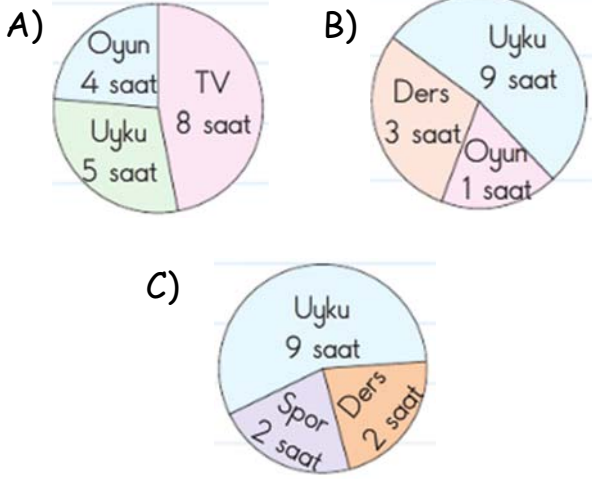


HAYAT BİLGİSİ TESTİ



8

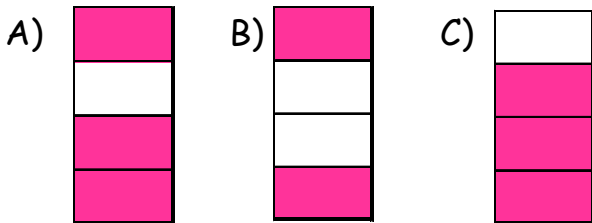
Aşağıdaki günlük planlardan hangisini uygulamamız durumunda kişisel gelişimimiz adına yanlış davranmış oluruz?



- Ülkemizin dört tarafı denizlerle çevrilidir.
- Ülkemizin başkenti Ankara'dır.
- Karadeniz ülkemizin kuzeyinde yer alan denizdir.
- İran bizim doğu komşumuzdur.

9

Yukarıdaki doğru bilgilerin kutusu pembeye boyandığından kutuların görünümünü nasıl olur?




10

Aşağıdaki öğrencilerden hangisi yanda gösterilen doğal afetin tanımını doğru biçimde yapmıştır?



- A) Yağmur ve kar sularının yıkıcı biçimde şiddetle akması.
- B) Kar kümelerinin kopup yuvarlanması ve büyüyerek ilerlemesi.
- C) Eğimli arazilerde yer kabuğunun ve toprağın başka bir yere taşınması.

Hayat Bilgisi testi sona erdi.
Lütfen İngilizce testine geçin.





İNGİLİZCE TESTİ



İngilizce testinde toplam 5 soru bulunmaktadır. Lütfen soruları dikkatlice okuyup cevaplandırınız.

1

I can walk.
I jump.



- A) isn't B) aren't C) can't

2



"The is red."

- A) banana B) apple C) lemon

3



"....."

Çocuk hangi ifadeyi kullanmış olabilir?

- A) Let's play football.
B) Let's jump.
C) Let's skip rope.

4




Aşağıda karışık halde verilen kelimeleri görsele göre sıraya koyduğumuzda hangi cümle ortaya çıkar?

me the give banana

- A) The banana me give.
B) Give the banana me.
C) Give me the banana.

5

Konuşma balonunda boş bırakılan yere hangi ifade gelmelidir?



- A) Yes, I do. B) No, I don't.

C) I like grapes.

Kazanım değerlendirme sınavı sona erdi. Tebrikler.

