



# Dört İşlem Problemleri





hasanogretmenim

## Dört İşlem Problemleri

1

Ziya 68 sorunun, 8 tanesini yanlış yaptı. 10 soruyu boş bıraktı. Ziya kaç soruyu doğru yapmıştır?

A) 50

B) 40

C) 60

Haydi  
Çocuklar





hasanogretmenim

## Dört İşlem Problemleri

1


Ziya'nın kumbarasında 4 tane 5 TL, 4 tane 10 TL, 4 tane 1 TL vardır. Ziya kumbarasındaki parasıyla tanesi 10 TL olan kitaplardan 5 tane alırsa, kumbarasında geriye kaç TL parası kalır?

A) 12

B) 13

C) 14

Haydi  
Çocuklar





hasanogretmenim

## Dört İşlem Problemleri

1


3 ve 2 rakamları ile yazılabilecek iki basamaklı en büyük sayı ile, yazılabilecek iki basamaklı en küçük sayının farkı kaçtır?

A) 8

B) 9

C) 10

Haydi  
Çocuklar






hasanogretmenim

## Dört İşlem Problemleri

1

Tuğtekin, her gün düzenli olarak sabah, öğle ve akşam bir kaşık soğuk algınlığı için şurup içmektedir. Tuğtekin, bir haftada kaç kaşık şurup içer?

Haydi  
Çocuklar



- A) 10      B) 21      C) 22



hasanogretmenim


## Dört İşlem Problemleri

1

Bir çıkarma işleminde çıkan 40, fark 80'dir. Bu işlemde eksilen kaçtır?

- A) 40      B) 120      C) 80

Haydi  
Çocuklar





hasanogretmenim


## Dört İşlem Problemleri

1

Talha 2 düzine kitabı 3 rafa eşit olarak paylaşmak istiyor. Her rafa kaç kitap düşer?

- A) 5      B) 6      C) 8

Haydi  
Çocuklar





hasanogretmenim

# Dört İşlem Problemleri

1



Yukarıdaki sayı hangi onluğa daha yakındır?

- A) 50      B) 40      C) 60

Haydi  
Çocuklar

