

2020 - 2021 EĞİTİM - ÖĞRETİM YILI GAZİ İLKOKULU 2/A SINIFI 2.SINIF GENEL TEKRAR  
DENEMESİ 9 DERSİ I. DÖNEM I. ÇOKTAN SEÇMELİ SINAV SORULARI

AD-SOYAD:

PUAN:

NUMARA:

1.

OKUL TÜRKÜSÜ

*Çok severiz biz okulu  
Kitabımız bilgi dolu  
Okur yazar her Türk oğlu  
Yükselmenin budur yolu.*

*Biz okullu çocuklarız  
Hem çalışır, hem oynarız  
Kâğıt, kalem, kitap, defter  
Bizi bunlar adam eder.*

H. Ali YÜCEL

Aşağıdaki ilk altı soruyu yukarıdaki şiire göre cevaplayınız.

1. Şiirde "bilgi dolu" olarak tanımlanan nedir?  
A) okullar  
B) kitaplar  
C) çocuklar

2. Şiire göre "yükselmenin yolu" nedir?  
A) çocukları sevmek  
B) kitapları sevmek  
C) okur yazar olmak

3. Şiire göre, bizi adam eden araçlardan sayılmayan hangisidir?  
A) kâğıt  
B) defter  
C) tebeşir

4. Şiirin birinci dördlüğünde kaç tane tek heceli kelime vardır?  
A) Üç tane  
B) Dört tane  
C) Beş tane

5. Şiirde kaç tane özel isim vardır?  
A) Üç tane  
B) Bir tane  
C) İki tane

6. "Bizi bunlar adam eder." mısrasında "adam" yerine hangi kelimeyi kullanırsak anlam değişmez?  
A) insan  
B) öğrenci  
C) erkek



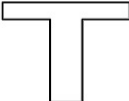
7. Aşağıdaki sözcüklerden hangisinin heceleri yanlış ayrılmıştır?  
A) bağ - ım - sız - lık  
B) öz - gür - lük  
C) cum - hu - ri - yet

8. **8.** Hangi cümlenin sonundaki noktalama işareti **yanlış** konulmuştur?  
A) Yaşasın, bu sorular çok kolaymış!  
B) Bugün hangi filmi seyredeceğiz?  
C) Öğretmen, her öğrenciye soru sordu?

9. **9.** Hangi seçenekteki doğal sayılar **küçükten büyüğe** doğru sıralanmıştır?  
A) 16 – 14 – 12 – 10  
B) 36 – 39 – 42 – 45  
C) 70 – 80 – 75 – 60

10. **10.** Üçer ritmik saymalardan hangisi **yanlış** yapılmıştır?  
A) 69 – 72 – 75 – 78 – 81 – 84  
B) 9 – 12 – 15 – 18 – 21 – 24  
C) 45 – 48 – 52 – 54 – 57 – 61

11. **11.** İkişer ikişer ritmik sayarken de üçer üçer ritmik sayarken de hangi sayıyı **söyleriz**?  
A) 12                      B) 15                      C) 20

12. **12.** Aşağıdaki harflerden hangisi simetrik **değildir**?  
A)  B)  C) 

13. **13.** Hangi seçenekteki toplama işleminin sonucu **yanlıştır**?

A)	$\begin{array}{r} 42 \\ + 51 \\ \hline 93 \end{array}$	B)	$\begin{array}{r} 15 \\ + 73 \\ \hline 89 \end{array}$	C)	$\begin{array}{r} 60 \\ + 27 \\ \hline 87 \end{array}$
----	--	----	--	----	--

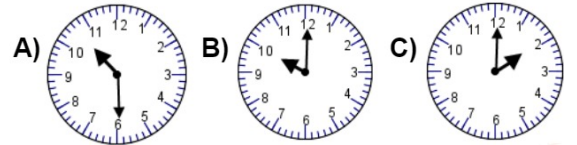
14. **14.** Öğretmenimiz geçen ay sınıfımıza 1 **düzine** hikâye kitabı aldı. Bu ay da 2 **deste** hikâye kitabı aldı. Sınıf kitaplığımızda kaç hikâye kitabı oldu?  
A) 20                      B) 23                      C) 32

15. **15.** Aşağıdaki çizgi yaklaşık kaç **cm**.dir?

A) 14 cm                      B) 5 cm                      C) 9 cm

16. **16.** Annem evdeki kanepenin ölçüsünü aldı. Acaba kanepenin yaklaşık kaç **metre** gelmiştir?  
A) 2 metre                      B) 6 metre                      C) 9 metre

17. **17.** Dün gece yattığımda kolumdaki dijital saat "22:00"ı gösteriyordu. Buna göre duvar saati nasıl olmalıdır?

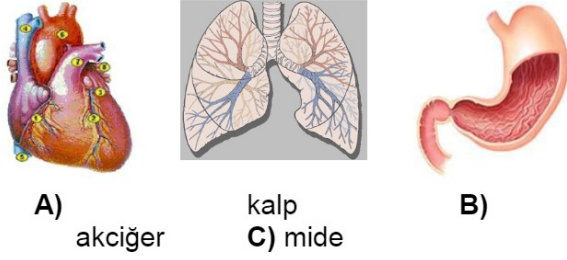


18. **18.** Kaybolduğumuzda hangisini bilmek ailemize ulaşmamızı sağlar?  
A) Babamızın mesleğini  
B) Evimizin telefon numarasını  
C) Adımızı soyadımızı

19. 19. Aşağıdakilerden hangisi iletişim aracıdır?



20. 20. Vücudumuza kan pompalayan organ hangisidir?



21. 21. Depremden zarar görmemek için ne yapılmalıdır?

- A) Evler sağlam olmayan zeminlere yapılmalıdır.  
B) Evleri yaparken ucuz ve az malzeme kullanılmalıdır.  
C) Sağlam zeminlere depreme dayanıklı evler yapılmalıdır.

22. 22. Aşağıdaki ifadelerden hangisi yanlıştır?

- A) Güneş batıdan batar.  
B) Güneş doğudan doğar.  
C) Güneş kuzeyden doğar.

23. 23. Aşağıdaki barınak hangi canlıya aittir?



- A) kuş  
B) tavşan  
C) karınca

24. 24. Hangi duyu organımızla bir eşyanın sert ya da yumuşak mı olduğunu anlarız?

- A) burunumuzla  
B) derimizle  
C) kulağımızla

25. 25. Verilen ulaşım araçlarından hangisi karada hareket eder?

