

2. Sınıf Matematik Paralarımız İkinci Çalışma Sayfası /Giray KARAGÜN/

A) Aşağıdaki para miktarlarını yanına yazınız.



Cebimde 20 lira var.

Kilosu 4 lira olan



elmadan 3 kilo

Alırsam ne kadar param kalır?

A) 12 B) 8 C) 4

1

Kumbaramdaki paramın 16 lirasına kitap aldım. Kaç liram kaldı?



A) 67 B) 57 C) 47

2

Kumbaramda yandaki kadar para var. Bu hafta boyunca her gün 4 lira eklersem kaç liram olur?



A) 50 B) 60 C) 70

3

Madeni paralarımızdan en büyüğü ve en küçüğü hangi seçenekte sırasıyla verilmiştir?



4

Hangi seçenekteki para miktarı farklıdır?



5

Bu kamyonun fiyatı 93 liradır. Aşağıdaki hangi paraya 18 lira eklersek alabiliriz?



6

Pastaneye gittik
50 lira verip
25 lira para

Baklava : 23 lira
Kadayıf : 13 lira
Tulumba : 12 lira

üstü aldık. Hangilerini aldık?

- A) Baklava-tulumba
B) Kadayıf-tulumba
C) Baklava-kadayıf

7

Bayramda anneannem 20 lira,
babaannem 25 lira, amcam 15 lira,
dayım 30 lira verdi. Bayram
harçlıklarım kitap seti aldım, 23
liram kaldı. Set kaç liradır?












- A) 47 B) 57 C) 67

10

Cebimdeki 50 lira ile hangi-
lerini alamam?

13

A)	 15 TL	 15 TL	 20 TL
B)	 16 TL	 14 TL	 23 TL
C)	 17 TL	 18 TL	 14 TL

30 liramız var.
Arkadaşlarımla 2
dondurma yedik, 3
salep, 3 su ve 4
limonata içtik.

Dondurma : 4 TL
Salep : 3 TL
Limonata : 2 TL
Su : 1 TL

Artan paramız ile hangisini ıçemeyiz?

- A) Su B) Salep C) Limonata

8

Babam her hafta bana 30 lira
veriyor. 23 lirasını harcıyorum.
Kalanını kumbaramda biriktiri-
yorum. Bir ayda kaç lira
biriktiririm?



- A) 35 B) 21 C) 28

11

10 TL iki tane TL
20 TL iki tane TL
100 TL iki tane TL
Şekillerin yerine gelecek
sayıların toplamı kaçtır?
A) 45 B) 55 C) 65



14

2 tane 20 lira vererek bir
deste kalem aldım. Yarım
düzine kalem kaç liradır?



- A) 24 B) 28 C) 32

9

Cebimde 2 tane 20 lira, 2
tane 10 lira, 3 tane 5 lira var.
Hangisi aldığımda cebimde 4
tane 25 kuruş kalır?

- A)  64 TL
B)  54 TL
C)  74 TL

12

Bakkal amcaya iki tane 5 lira
vererek bir kavanoz reçel
aldım. Bana 2 tane
50 kuruş ve 2 tane 25 kuruş
geri verdi. Reçel ne kadarmış?
A) 8₺50kr B) 7₺50kr
C) 6₺50kr



15