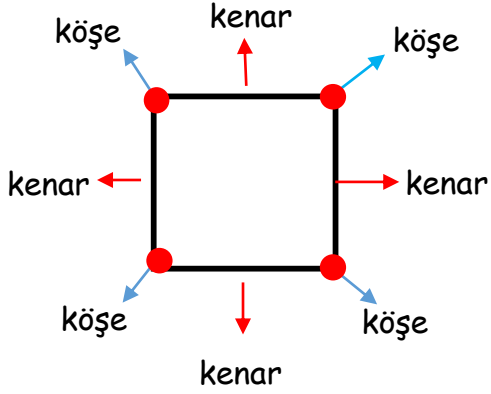


Sevgili öğrencim, aşağıdaki bilgileri çalışarak güzelce **matematik** defterine yaz.

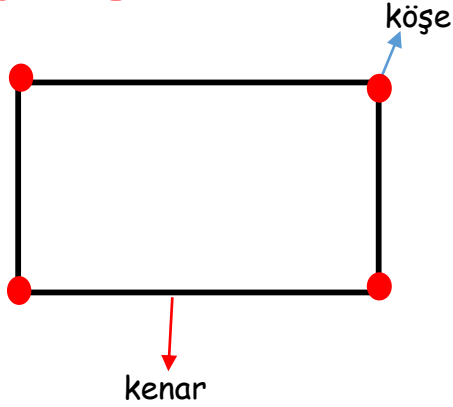
GEOMETRİK ŞEKİLLER

KARE:



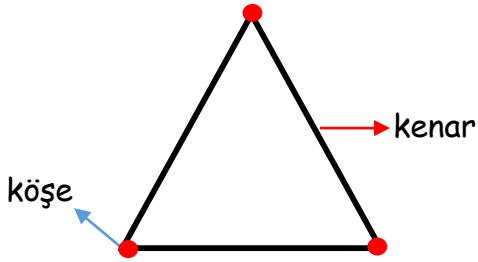
- Dört kenar uzunluğu birbirine eşit olan geometrik şekillere **kare** denir.
- Karenin 4 kenarı, 4 köşesi vardır.

DİKDÖRTGEN:



- Karşılıklı kenarları birbirine eşit, dik ve paralel olan şekle **dikdörtgen** denir.
- Dikdörtgenin 4 kenarı, 4 köşesi vardır.
- Karşılıklı iki kenar birbirine eşittir.

ÜÇGEN:




- Doğrusal olmayan üç noktayı birleştiren üç doğru parçasının birleşiminden oluşan şekle **üçgen** denir.
- Üçgenin 3 kenarı, 3 köşesi vardır.

DAİRE - ÇEMBER



Daire



Çember

- Merkez adı verilen bir noktaya eşit uzaklıktaki noktaların sınırladığı bölgeye **dairesel bölge** denir.
- Dairesel bölgeyi sınırlayan noktaların oluşturduğu çizgi **çemberi** oluşturur.
- Daire ve çemberin kenarı ve köşesi yoktur.