

Çevre - 3

1

Çevresi 20 cm olan iki kare aşağıdaki gibi uç uca birleştiriliyor. Oluşan şeklin çevresi kaç santimetre olur?

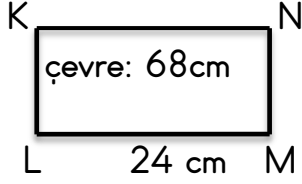


5

Bir dikdörtgenin uzun kenar uzunluğu 28 cm'dir. Kısa kenar uzunluğu, uzun kenar uzunluğunun $\frac{2}{7}$ 'i kadardır. Buna göre dikdörtgenin çevresi kaç santimetredir?

2

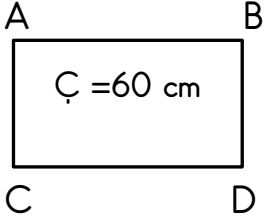
Yandaki KLMN Dikdörtgenine göre MN Kenarının uzunluğu kaç santimetredir?



6

Bir kenarı 12 cm olan kare şeklindeki fotoğraf çerçevenin etrafına 5 sıra renkli şerit çekilecektir. Bu iş için kaç cm şerit gerekir?

3



Yukardaki ACDB dikdörtgenine göre $|BD| = 14$ cm olduğuna göre AB kenarının uzunluğu kaç santimetredir?

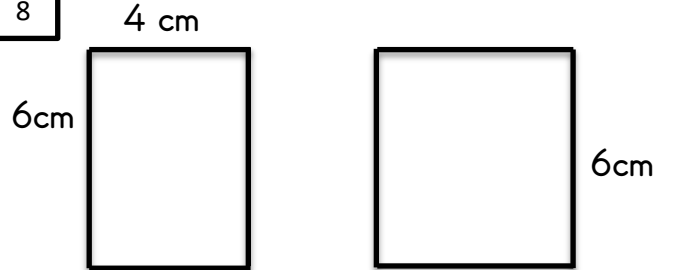
7

Çevresi 6 m olan kare şeklinde bir halının her bir kenarı 30 cm kısaltılmıştır. Buna göre halının çevresi kaç santimetre olur?

4

Bir dikdörtgenin kısa kenar uzunluğu 9 cm 'dir. Uzun kenar uzunluğu kısa kenar uzunluğunun 3 katı kadardır. Dikdörtgenin çevre uzunluğu kaç cm'dir?

8



Yukardaki dikdörtgen ile kare uç uca birleştiriliyor. Oluşan şeklin çevresi kaç cm olur?