





## VERİ TOPLAMA VE DEĞERLENDİRME -2

Tabloları inceleyiniz. Soruları cevaplayınız.

Tablo: 2/A sınıfı en sevilen hayvanlar

Hayvanlar	Öğrenci sayısı
Kedi	
Köpek	
Kuş	
Tavşan	

Her şekil **bir** öğrenciyi gösterir.

### SORULAR

1) 2/A sınıfında en **çok** sevilen hayvan hangisidir ?

2) 2/A sınıfında en **az** sevilen hayvan hangisidir ?

3) Tavşan seven kaç kişidir?

4) Kedi seven kaç kişidir?

5) Kuş seven kaç kişidir?

6) Köpek seven kaç kişidir?

7) Köpek seven sayısı kedi seven sayısından kaç fazladır?

8) Tavşan seven sayısı kuş seven sayısından kaç fazladır?

9) 2/A sınıfında kaç öğrenci vardır?





10) Kaç tavşan daha alırsak köpek sayısına eşit olur ?



## VERİ TOPLAMA VE DEĞERLENDİRME -2

Tabloları inceleyiniz. Soruları cevaplayınız.

Tablo: 2/B Sınıfı En Sevilen Kümes hayvanları

Hayvanlar	Öğrenci sayısı
Hindi	
Kaz	
Tavuk	
Ördek	

Her şekil **bir** öğrenciyi gösterir.

### SORULAR

- 1) Kaz seven kaç kişidir?
- 2) Tavuk seven kaç kişidir?
- 3) Ördek seven kaç kişidir?
- 4) Hindi seven kaç kişidir?
- 5) 2/B sınıfında en **çok** sevilen kümes hayvanı hangisidir ?
- 6) 2/B sınıfında en **az** sevilen kümes hayvanı hangisidir ?
- 7) Ördek seven sayısı hindi seven sayısından kaç fazladır?
- 8) Kaz seven sayısı tavuk seven sayısından kaç fazladır?
- 9) Kaç hindi daha alırsak ördek sayısına eşit olur ?
- 10) Kaç tavuk daha alırsak kaz sayısına eşit olur ?
- 11) 2/B sınıfında kaç öğrenci vardır?