


1.



Yukarıdaki **toplama** işleminin **çarpma** şeklinde yazılışı aşağıdakilerden hangisidir?

- A) 4×4 B) 5×5
C) 4×5

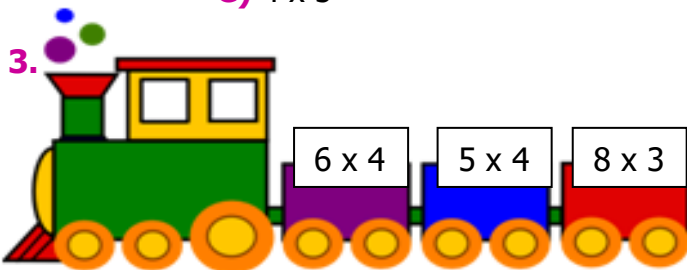
2.



Tabaklarda **toplam** kaç elma olduğunu ifade eden **işlem** aşağıdakilerden hangisidir?

- A) 5×4 B) 4×4
C) 4×5


3.



Hangi vagondaki **işlemin sonucu** diğerlerinden farklıdır?

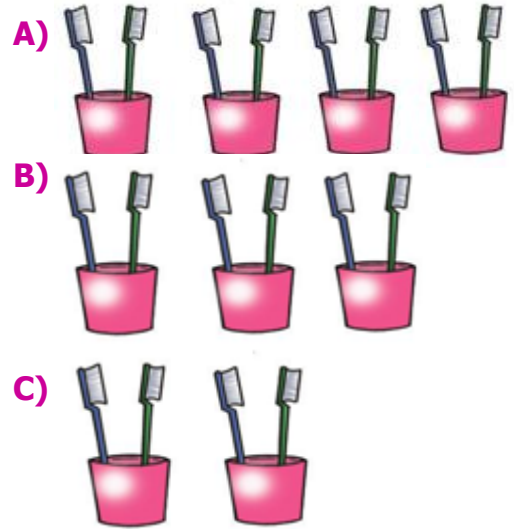
- A) 5×4 B) 6×4 C) 8×3

4.

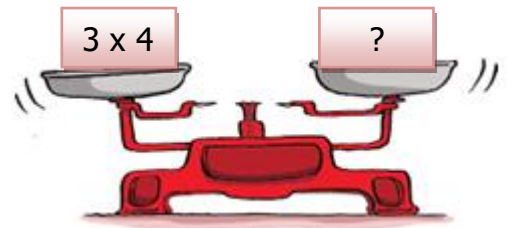


Çocuklar Sinan'a yardımcı olur musunuz?

Aşağıdaki seçeneklerin **hangisinde** diş fırça **sayısını** ifade eder?



5.



Yukarıdaki **terazinin** dengede durabilmesi için **boş kefeye** hangisi gelmelidir?

- A) 4×4 B) 4×3
C) 4×5

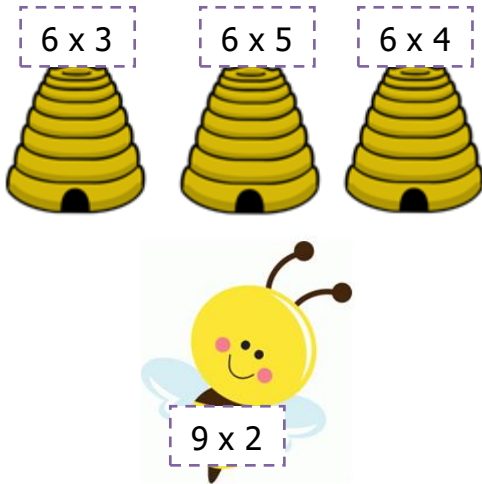
6.



Yukarıdaki kalemlerin **toplam** sayısını gösteren **çarpma işlemi** aşağıdakilerden **hangisidir?**

- A) 2×4 B) 4×3
C) 3×4

7.



Kovanların üzerindeki işlemin **sonucu** ile **arının** üzerindeki işlemin **sonucu** aynı olması gerekir.

Buna göre hangi **kovan** arının kovanıdır?

- A) 6×3 B) 6×5
C) 6×4

8. Aşağıdaki ifadelerden **hangisi yanlıştır?**

- A) 6 tane 2 ifadesi 6×2 şeklinde yazılır.
B) $3+3+3=$ işleminin kısa yoldan 3×3 şeklinde yazılır.
C) 5 tane 3 ifadesi 3×5 şeklinde yazılır.


9.



Yukarıdaki **tabakları** aşağıdakilerden **hangisi** ile doldurursak **3×4** işlemiyle ifade ederiz?

- A)
B)
C)

10.



Yukarıdaki işlemin **sonucu** hangi seçenekte verilmiştir?

- A) 2 Onluk
B) 2 Birlik
C) 2 Onluk 5 Birlik

CEVAP ANAHTARI

- 1) C
- 2) B
- 3) A
- 4) B
- 5) B
- 6) C
- 7) A
- 8) C
- 9) B
- 10) A