



ÖDEVİM


Görev-1 : Aşağıdaki analog saatte verilenleri dijital saatte , dijital saatte verilenleri analog saat şeklinde Matematik defterimize yazalım.




Öğleden Önce



Öğleden Sonra



Öğleden Önce



Öğleden Sonra



13:15



09:30



22:00



19:45

Görev-2: Aşağıdaki problemleri Matematik defterinize yazarak çözün.

1. Ece dolaptaki 18 yumurtanın yarısını kullandı. Kaç yumurta kaldı?
2. 20 metre ipin çeyreği kadarı kesildi. Geriye kalan ipin uzunluğu kaç metredir?
3. 12 fındığın çeyreği ile yarısının toplamı kaçtır?
4. 6 yarım elma ile 8 çeyrek elma kaç bütün elma eder?

Görev-3: Matematik kitabından 210. sayfadaki soruları çözün.

HAYDI BULALIM

1-Gündüz kelimesinin zıt anlamlısı

2-Yeni kelimesinin zıt anlamlısı

3-İyi kelimesinin zıt anlamlısı

4-Mutlu kelimesinin zıt anlamlısı

5-Vakit kelimesinin eş anlamlısı

6-Kırmızı kelimesinin eş anlamlısı

7-Zayıf kelimesinin zıt anlamlısı

8-Anlam kelimesinin eş anlamlısı

9-Yarar Kelimesinin eş anlamlısı

10-Kapalı kelimesinin zıt anlamlısı

11-Güzel Kelimesinin zıt anlamlısı

12-Büyük kelimesinin eş anlamlısı

13-İleri Kelimesinin zıt anlamlısı

14-Sevinç kelimesinin eş anlamlısı

