











ADI SOYADI:

Görsellerde gördüklerimizi maddenin uygun hallerini ✓ işareti ile işaretleyelim.

MADDENİN HALLERİ

	KATI	SIVI	GAZ
			
			
			
			
			
			
			
			
			
			

Temizlik malzemelerinin yanlış kullanımında bizlere vereceği zararları yazalım.



Aşağıdaki görsellerdeki sıvı ve katı maddeleri yazalım.



KATI

SIVI

Aşağıdaki maddelere katı,sıvı ve gaz terimlerinden uygun olanı yazalım.

telefon

ayran

masa

.....

.....

.....

doğal gaz

muz

koltuk

.....

.....

.....

toprak

su

hava

.....

.....

.....

odun

çöp kokusu

zeytinyağı

.....

.....

.....

tabak

lahana

buhar

.....

.....

.....

3.SINIF FEN BİLİMLERİ 7

MİNİ TEST

Aşağıdaki görsellerden hangisi maddenin bir halini ifade eder?

A)



B)



C)



su	yastık	gitar
sürahi	kan	parfüm
top	limonata	ayran

Yukarıdakilerden kaç tanesi sıvı maddelere örnektir?

A) 6

B) 5

C) 4

Aşağıdakilerden hangisi gazların özelliklerinden değildir?

A) Buldukları alana dağılırlar.

B) Buldukları alanı doldururlar.

C) Sert ve dayanıklıdır.

Aşağıdakilerden hangisi gaza örnek olabilir?

A) Meyve suyu

B) Mandalina kokusu

C) Meyve