



# HAYAT BİLGİSİ



1



Benim adım Ela.

Aşağıdaki çocuklardan hangisi Ela'nın fiziksel özelliğini söylememiştir?



Kısa saçları vardır.



Saçları düzdür.



Çalışkan bir öğrencidir.



2



Yukarıdaki ikizlerin farklı yeteneklere sahip olmasının sebebi nedir?

A Fiziksel özellikleri

B Yaşları farklı

C Bireysel farklılıkları

3

Salı	Çarşamba	Perşembe
Hayat Bilgisi	Hayat Bilgisi	Hayat Bilgisi
Türkçe	Türkçe	Türkçe
Türkçe	Türkçe	Türkçe
Matematik	İngilizce	Matematik
Müzik	Görsel Sanatlar	İngilizce
Beden Eğitimi ve Oyun	Beden Eğitimi ve Oyun	Beden Eğitimi ve Oyun



Fufuk salı akşamı çantasını hazırlıyor. Buna göre hangi dersin kitabını çantasına koymasına gerek yoktur?

A Müzik

B Türkçe

C Hayat bilgisi

4

Aşağıdaki davranışlardan hangisini sınıfta yapmamalıyız?



A 1

B 2

C 3

www.ufukkoca.com

FUFUK Deneme Sınavı 1

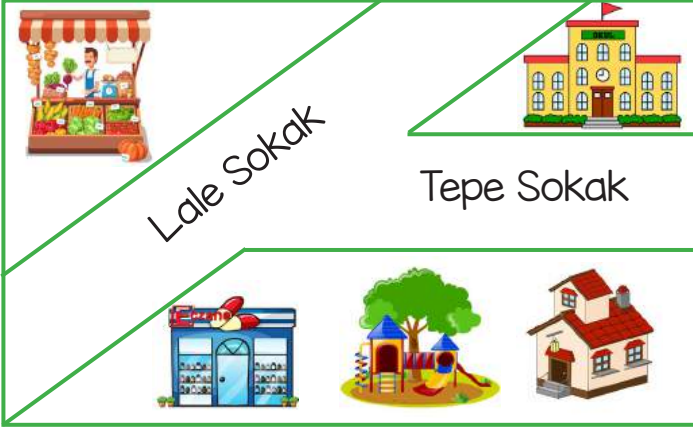
www.etkinlikburada.com



# HAYAT BİLGİSİ



5 Aşağıdaki resimde okul, ev, park, eczane ve manav vardır.



Aşağıdakilerden hangisi Tepe Sokak'ta değildir?

- A Ev
- B Park
- C Manav

6 Fufuk doğru olmayan davranışların başındaki çiçekleri boyayacak.



Okulda lambaları gereksiz yere yakmamalıyız.





Koridordan koşarak bahçeye çıkmalıyız.



Okulda muslukları açık bırakmamalıyız.

Buna göre Fufuk hangi çiçeği boyayacaktır?



7



Grup çalışmasında sorumluluk alırken adeletli olmalıyız.

Arkadaşlarımızın düşüncelerine saygılı olmalıyız.

Aşağıdaki değerlerden hangisini Elif öğretmen tahtada belirtmiştir?

- A Yardımseverlik
- B Adalet
- C Sabır

8

Aşağıdaki çocuklardan hangisi nezaket kurallarına uygun konuşmuştur?



Bütün oyuncaklarını kıracağım.

1



Ayağımı sakatlayayım da gör bakalım.

2



Güzel kahvaltı için teşekkür ederim.

3

- A 3
- B 2
- C 1

www.ufukkoca.com

FUFUK Deneme Sınavı 1

www.etkinlikburada.com



# HAYAT BİLGİSİ



9 Aşağıdakilerden hangisi oyun kurallı olabilir?






Oyun oynarken takım arkadaşlarımızla iş birliği yapmalıyız.



Kötü oynayan arkadaşlarımızı oyundan çıkarmalıyız.



Oyunu kaybedersek sinirlenmeliyiz.



10 Aşağıdaki çocuklardan hangisi alış-veriş yaparken tutumlu olmuştur?



İhtiyacım olan yiyecek ve içecekleri aldım.





Param bitene kadar oyuncak alacağım.



Paramın bitmemesi için ihtiyaçlarımı almayacağım.

11 Aşağıdaki şemada boş bırakılan yerlere yazılması gerekenler hangi seçenekte doğru verilmiştir?



12 Hangi seçenekte adres eksik yazılmıştır?

A Tepe Mahallesi, Lale Sokak, Numara: 3 Turgutlu/Manisa

B Çiçek Mahallesi, 3072. Sokak, Numara: 23/6 Tarabya/İstanbul

C Kale Mahallesi, Ata Caddesi, Su Sokak, Çermik/Diyarbakır

www.ufukkoca.com

FUFUK Deneme Sınavı 1


www.etkinlikburada.com



# MATEMATİK



1



Yukarıdaki hayvanlardan hangisinin sayısı iki basamaklıdır?



2




Okul numaramda 2 onluk 5 birlik var.

Buna göre Fufuk'un okul numarası kaçtır?



3



Yandaki ağaca kaç elma daha eklersek 1 deste elmamız olur?



4



2 düzine silgim var.

Buna göre Ali'nin silgi sayısının birler basamağındaki rakam kaçtır?



5



22-24-26-28-30



35-33-31-29-27



48-45-43-40-37

Yukarıdaki çocuklardan hangisi ikiye geriye ritmik saymıştır?

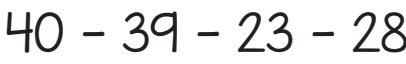


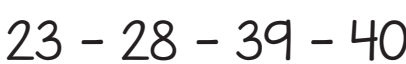
6

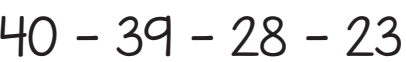


23 - 40 - 39 - 28

Ayşe yukarıdaki sayıları büyükten küçüğe sıralamak istiyor. Buna göre hangi seçenekte doğru sıralanmıştır?

A 

B 

C 

www.ufukkoca.com

FUFUK Deneme Sınavı 1


www.etkinlikburada.com



# MATEMATİK



7




Fufuk en yakın onluğu 40 olan sayıların bulunduğu balonları boyamak istiyor. Buna göre Fufuk kaç balon boyar?

- A 3 B 4 C 5

8

Hangi gözlüğün camında yazan sayıların toplamı yetmiş ikidir?




9

Aşağıda verilen toplama işlemlerinde hangisinin sonucu diğerlerinden farklıdır?



10



Yukarıda verilen toplama işlemlerine göre aşağıdaki bilgilerden hangisi yanlıştır?

- A sayısı sayısından büyüktür.  
B sayısına 25 eklersek 85 olur.  
C sayısından 12 çıkarırsak 39 olur.

11



Aslı her gün yaşlıları ziyaret eder. İlk gün 8, ikinci gün 25 yaşlıyı ziyaret etti.

Aslı üçüncü gün kaç yaşlıyı daha ziyaret ederse toplam 40 yaşlıyı ziyaret etmiş olur?

- A 7 B 17 C 33

12

İki basamaklı en büyük doğal sayıdan iki basamaklı en küçük doğal sayıyı çıkarırsak sonuç kaç olur?

- A 89 B 90 C 99

www.ufukkoca.com

FUFUK Deneme Sınavı 1

www.etkinlikburada.com



# MATEMATİK



13



Aslı



Aslı'nın  
kardeşi

Aslı, kardeşinden 8 yaş büyüktür. Aslı 15 yaşında olduğuna göre Aslı ile kardeşinin yaşları toplamı kaçtır?

- A 22 B 23 C 38

14



34



45



37

Aşağıda verilen bilgileri sırayla yaparak doğru cevabı bulunuz.

- Yukarıdaki sayılardan en yakın onluğu kırk olan sayıyı bulunuz.
- Bulduğunuz sayıdan 23 çıkarın.
- Kalan sayının birler basamağı kaç olur?

- A 2 B 4 C 7

15



www.ufukkoca.com

Aşağıda verilen bilgileri sırayla yaparak doğru cevabı bulunuz.

- Gözlük takan kızın Adı Ela'dır.
- Ela 7 yaşındadır.
- Ağabeyi ondan 2 yaş büyüktür.
- Babasının yaşından annesinin yaşını çıkarırsak sonuç Ela'nın ağabeyinin yaşı olur.
- Ela'nın babası 35 yaşında olduğuna göre annesi kaç yaşındadır?

- A 28 B 26 C 24

www.etkinlikburada.com



# TÜRKÇE



1 Aşağıda verilen hayvanlardan hangisinin adında alfabemizin ilk ve son harfi yoktur?

A



B



C



2



Ünlü harflerin hepsi kalın olan bir kelime arıyorum.

Aşağıdakilerden hangisi Fufuk'un aradığı kelimedir?

A

Konya

B

Manisa

C

İzmir

3



son hecesini yaz

ilk hecesini yaz



Yukarıda verilen kurala göre oluşan sözcük aşağıdakilerden hangisidir?

A

çiso

B

lekso

C

çilekso

4



Elif

Babam, Konya'dan oyuncak kamyon, balon ve biberon aldı. Onlarla oynadım.

Elif'in kurduğu cümlede kaç tane "on" hecesi vardır?

A

1

B

2

C

3

5

Hangi hayvanın adı sözlükte diğerlerinden sonra gelir?

A



B



C




6

Aşağıda verilen varlıklardan hangisinin adı "kar" kelimesinden önce gelir?


A



B



C



www.ufukkoca.com

FUFUK Deneme Sınavı 1

www.etkinlikburada.com



# TÜRKÇE



8



kolay



hızlı



genç

Yukarıda verilen sözcüklerden hangisinin zıt anlamı sözlükte diğerlerinden önce gelir?

A



B



C



9



Yandaki görselin zıt anlamı aşağıdaki seçeneklerden hangisi olamaz?

A

uzak

B

erkek

C

üzgün

10

Aşağıdaki resimlerden hangisinin eş anlamı vardır?

A



B



C



11



Genç çocuk, zor soruları hızlıca cevapladı.

Fufuk'un kurduğu cümlede eş anlamı olan kaç sözcük vardır?

A

2

B

4

C

5

12



Bahçede bütün gün oynadık top.



Annem topladı bütün oyuncaklarımı.



Akşam evde ders çalıştı.

Yukarıdaki çocuklardan hangisi kurallı bir cümle söylemiştir?

A



B



C



www.ufukkoca.com

FUFUK Deneme Sınavı 1

www.etkinlikburada.com







# TÜRKÇE




13




Eskişehir



Lacvert




Aykadun



Kitp

Ela, yukarıda sözcük olanların başındaki çiçekleri boyamak istiyor. Buna göre yukarıda kaç tane çiçek boyanmamış olur?



14

Fufuk, sert vurdu topa.

Eve dün geldi uzun saçlı kız.

Sabah bahçede çiçek ektik.

Aşağıda verilen bilgileri sırayla yaparak doğru cevabı bulunuz.

→ Kurallı olan cümleyi bulun.

→ Bulduğunuz cümlede hangi kelimenin zıt anlamı vardır?



15

Aşağıda her çocuk bir sözcük göstermektedir.



Ali



Cem



Elif



Fufuk

Yukarıdaki çocuklar nasıl sıralanırsa kurallı ve anlamlı cümle olur?

A Ali, Cem, Elif, Fufuk

B Elif, Ali, Fufuk, Cem

C Fufuk, Cem, Elif, Ali

www.ufukkoca.com

FUFUK Deneme Sınavı 1

www.etkinlikburada.com

**SADECE 10 TL**  
BÜYÜK BOY  
**FUFUK**  
İLE  
OKUDUĞUMU  
ANLIYORUM  
5. SINIF  
UFUK KOCA

**Dolu Dolu**  
**64 SAYFA**  
METİN İLE İLGİLİ  
5 N 1 K  
DOĞRU YANLIŞ  
TEST  
SORULARI  
**TOPLAM**  
**345 SORU**  
EGLENCE İLE  
OKUMA ANLAMA  
ETKİNLİKLERİ

**SİPARİŞ**  
0 552 252 83 85

**Sipariş Whatsapp**  
**552 252 83 85**  
**FUFUK**  
İLE  
DEYİMLERİ  
BOYLUYORUM  
**SADECE 10 TL**  
**KARGO ÜCRETSİZ**

**10 TL**

Whatsapp Sipariş

0 552 252 83 85

Kargo Ücretsiz

**48 DEYİM - 110 SAYFA**

**14 SAYFA ETKİNLİK SORULARI**



# CEVAPLARI İŞARETLE



## ÖĞRENCİ BİLGİLERİ

Adı Soyadı : .....

Sınıfı : .....

Şubesi : .....

Numarası : .....

## HAYAT BİLGİSİ

1	(A) (B) (C)	www.ufukkoca.com	7	(A) (B) (C)
2	(A) (B) (C)		8	(A) (B) (C)
3	(A) (B) (C)		9	(A) (B) (C)
4	(A) (B) (C)		10	(A) (B) (C)
5	(A) (B) (C)		11	(A) (B) (C)
6	(A) (B) (C)		12	(A) (B) (C)

Sitemizde ve sosyal medyada ücretsiz etkinlikler paylaşıyoruz.



@ufukkoca61



www.ufukkoca.com



@ufukkoca61



@ufukkoca61



@ufukkoca




0 552 252 83 85

## MATEMATİK

1	(A) (B) (C)	www.etkinlikburada.com	9	(A) (B) (C)
2	(A) (B) (C)		10	(A) (B) (C)
3	(A) (B) (C)		11	(A) (B) (C)
4	(A) (B) (C)		12	(A) (B) (C)
5	(A) (B) (C)		13	(A) (B) (C)
6	(A) (B) (C)		14	(A) (B) (C)
7	(A) (B) (C)		15	(A) (B) (C)
8	(A) (B) (C)			

Telefondan Karekod'u okutarak cevap anahtarına ulaşabilirsiniz.



## TÜRKÇE

1	(A) (B) (C)	www.ufukkoca.com	9	(A) (B) (C)
2	(A) (B) (C)		10	(A) (B) (C)
3	(A) (B) (C)		11	(A) (B) (C)
4	(A) (B) (C)		12	(A) (B) (C)
5	(A) (B) (C)		13	(A) (B) (C)
6	(A) (B) (C)		14	(A) (B) (C)
7	(A) (B) (C)		15	(A) (B) (C)
8	(A) (B) (C)			


SADECE 10 TL

BÜYÜK BOY

FUFUK  
İLE  
OKUDUĞUMU  
ANLIYORUM



2.SINIF  
UFUK KOCA  
www.ufukkoca.com



FUFUK ile Okuduğumu Anlıyorum

www.ufukkoca.com

Dolu Dolu

64 SAYFA

METİN İLE İLGİLİ  
5 N 1 K  
DOĞRU YANLIŞ  
TEST  
SORULARI

TOPLAM  
345 soru



EĞLENCELİ  
OKUMA ANLAMA  
ETKİNLİKLERİ

SİPARİŞ

0 552 252 83 85

KARGO ÜCRETSİZ


EN AZ 10 TANE ALIM



Fiyat : 10 TL

Sipariş Whatsapp :

0 552 252 83 85



www.ufukkoca.com

11


www.etkinlikburada.com

FUFUK İle Deyimleri Boyuyorum

www.ufukkoca.com

# FUFUK İLE DEYİMLERİ BOYUYORUM


2.BASKI



48 DEYİM

14 SAYFA ETKİNLİK

110 SAYFA



Facebook.com/ufukkoca61  
instagram.com/ufukkoca61

ISBN 978-605-81047-0-9  
9 786058 104709

Ufuk KOCA  
www.ufukkoca.com

10 TL

Whatsapp Sipariş

0 552 252 83 85

Kargo Ücretsiz

EN AZ 10 TANE ALIM

48 DEYİM - 110 SAYFA

14 SAYFA ETKİNLİK SORULARI

www.ufukkoca.com

www.etkinlikburada.com