

21.04.2020

1. Yel estikçe uçşan Yel estikçe uçşan  
Yapraklara benziyor. Yapraklara benziyor.  
Durmadan, yorulmadan Durmadan, yorulmadan  
Daldan dala geziyor. Daldan dala geziyor.

Okuduđunuz Őiirin konusu hangi seĀenekte verilmiŐtir?

- A. Karınca  
B. Kelebek  
C. Kedi  
D. Balık

2.

**Metnin Konusu:** Tükenebilir kaynaklar  
**Metnin Ana Fikri:** Kaynakları verimli kullanmalıyız

Özellikleri verilen metne en uygun baŐlık hangisidir?

- A. Tasarruflu Olalım  
B. Sađlıklı Beslenelim  
C. Spor Yapalım  
D. Verimli Topraklar

3. AŐađıdaki bilgilerden hangisi **yanlıŐtır** ?

- A. "İlk-o-kul" kelimesi hecelerine dođru olarak ayrılmıŐtır.  
B. "Apartıman, yalnız" kelimeleri yanlıŐ yazılmıŐtır.  
C. Őiir mısralarının ilk harfi büyük yazılır.  
D. Gök cisimleri büyük yazılır.

4.

**Babam Őirketin satıŐ departmanında ĀalıŐıyor.**



Ali yukarıdaki konuŐmasında "departman" sözcüđü yerine TürkĀe karŐılıđı olan hangi sözcüđü tercih etmelidir?

- A. merkezinde  
B. ortamında  
C. sınıfında  
D. bölümünde

5. I. Ödevlerini düzenli yapınca  
öđretmenin gözüne girdi.  
II. Babam eve gelince kardeŐim  
sevinqten havalara uçtu.  
III. Kafası kızınca beŐ kilometre  
yürümüŐ.  
IV. AkŐam seni beklerken uyumuŐum.

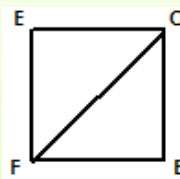
KaĀ numaralı cümlede deyim kullanılmamıŐtır?

- A. **I** B. **II** C. **III** D. **IV**

6. Bir araĀ 150 kilometrelik bir yolun  $\frac{3}{5}$ 'ünü gittikten sonra mola veriyor. Bu aracın gitmesi gereken kaĀ kilometre daha yolu kalmıŐtır?

- A. 60 B. 90 C. 120 D.  $30\frac{3}{5}$

7.



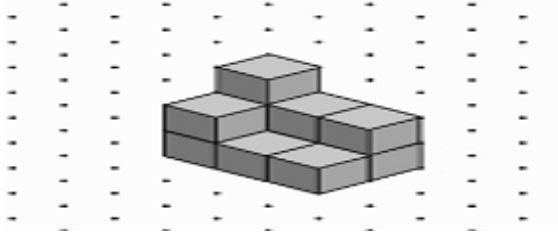
**Yukarıdaki kareyle ilgili verilen uzunlukların hangisi diđerlerinden farklıdır ?**

- A. [CF] B. [BC] C. [EF] D. [CE]

8. Aşağıdaki harflerin hangisinin iki farklı simetriği vardır?

- A. H
- B. A
- C. C
- D. K

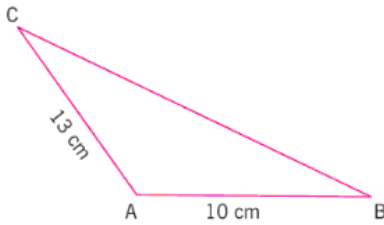
9.



Yukarıda kaç küp vardır?

- A. 9
- B. 10
- C. 11
- D. 12

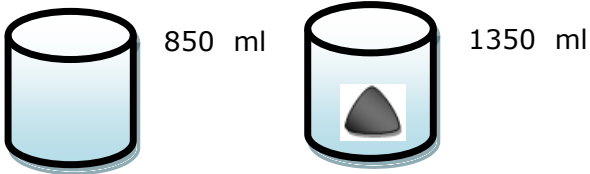
10.



Yukarıdaki ABC üçgeninin çevresi 40 cm olduğuna göre BC kenarının uzunluğu kaç cm'dir?

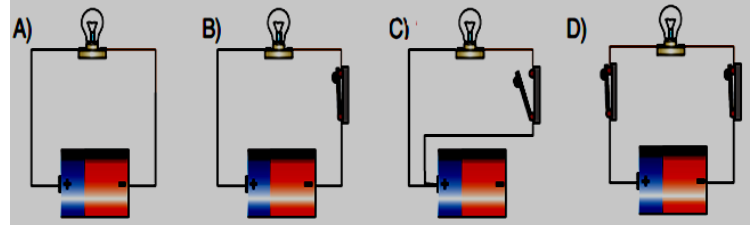
- A. 16
- B. 17
- C. 18
- D. 19

11. Ölçümde suya bırakılan taşın hacmi kaç mL' dir?



- A. 400ml
- B. 500ml
- C. 600ml
- D. 700ml

12. Aşağıdaki elektrik devrelerinden hangisi ışık vermez?



13. Salonumuzun bir köşesindeki televizyonun sesini salonun her yerinden duyabiliriz. Buna göre sesle ilgili verilen bilgilerden hangisi doğrudur?

- A. Ses, her yöne dalgalar halinde yayılır.
- B. Ses, tek yönde doğrusal yayılır.
- C. Ses, iki yönde yayılır.
- D. Ses yayılmaz.

14. Çocuk haklarıyla ilgili aşağıdakilerden hangisi doğrudur?

- A. Çocuklar ailesinden koparılamaz.
- B. 18 yaşına girmiş bireyler için geçerlidir.
- C. Çocuk hakları sonradan kazanılır.
- D. Çocuk hakları belirli çocuklar içindir.

15. Ulusal Egemenlik ve Çocuk Bayramı hangi olay nedeniyle çocuklara armağan edilmiştir?

- A. Atatürk'ün Samsun'a çıkmasıyla
- B. Cumhuriyetin ilan edilmesiyle
- C. Büyük Millet Meclisi'nin açılmasıyla
- D. Kurtuluş Savaşı'nın kazanılmasıyla

Test bitti. Cevaplarınızı kontrol ediniz.

Başarılar....

