

MATEMATİK 1

2. DÖNEM DENEME SINAVI



Adı - Soyadı:

MATEMATİK
2. DÖNEM DEĞERLENDİRME SINAVI

1. Sınıf

1. Ayşe saat kaçta uyanmıştır?

A) 8.00
B) 9.00
C) 12.00

ÇALIŞKAN OKUL

MATEMATİK
2. DÖNEM DEĞERLENDİRME SINAVI

1. Sınıf

2. Aşağıdakilerden hangisi 06.30'dur?

A) B) C)

ÇALIŞKAN OKUL

MATEMATİK
2. DÖNEM DEĞERLENDİRME SINAVI

1. Sınıf

3. Aşağıdakilerden hangisi okulların açık olduğu günlerden biridir?

A) Cuma B) Cumartesi C) Pazar

ÇALIŞKAN OKUL

MATEMATİK
2. DÖNEM DEĞERLENDİRME SINAVI

1. Sınıf

4. Ulusal Egemenlik ve Çocuk Bayramı hangi ayda kutlanır?

A) Nisan B) Mayıs C) Ekim

ÇALIŞKAN OKUL

MATEMATİK
2. DÖNEM DEĞERLENDİRME SINAVI

1. Sınıf

5. Yarın Bugün Dün

Yukarıdaki zaman kavramlarının geçmişten geleceğe sıralaması hangisidir?

A) Yarın - Bugün - Dün
B) Bugün - Yarın - Dün
C) Dün - Bugün - Yarın

ÇALIŞKAN OKUL

MATEMATİK
2. DÖNEM DEĞERLENDİRME SINAVI

1. Sınıf

6. Aşağıdakilerden hangisi 50 kuruştur?

A) B) C)

ÇALIŞKAN OKUL

MATEMATİK
2. DÖNEM DEĞERLENDİRME SINAVI

1. Sınıf

7. 13 TL 5 TL 25 TL

Zeki'nin 20 lirası olduğuna göre hangisini alamaz?

A) Defter B) Kalem C) Çanta

ÇALIŞKAN OKUL

MATEMATİK
2. DÖNEM DEĞERLENDİRME SINAVI

1. Sınıf

8. Resimdeki hayvanların toplam kaç ayağı vardır?

A) 8 B) 9 C) 10

ÇALIŞKAN OKUL

MATEMATİK
2. DÖNEM DEĞERLENDİRME SINAVI

1. Sınıf

9. 6 8 10 12 14

Yukarıdaki ikişer ritmik saymada boş kutuya hangi sayı gelmelidir?

A) 9 B) 10 C) 11

ÇALIŞKAN OKUL

MATEMATİK
2. DÖNEM DEĞERLENDİRME SINAVI

1. Sınıf

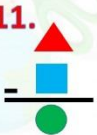

10. Aşağıdaki işlemlerden hangisinin sonucu sıfırdır?

A) $2 + 0 =$ B) $3 - 3 =$ C) $5 - 4 =$

ÇALIŞKAN OKUL

MATEMATİK
2. DÖNEM DEĞERLENDİRME SINAVI





1. Sınıf

11.  Yandaki çıkarma işleminde  hangi terimdir?
A) Eksilen B) Çıkan C) Fark

ÇALIŞKAN OKUL

MATEMATİK
2. DÖNEM DEĞERLENDİRME SINAVI




1. Sınıf

16.  Resimdeki cisim aşağıdakilerden hangisine benzer?
A)  B)  C) 

ÇALIŞKAN OKUL

MATEMATİK
2. DÖNEM DEĞERLENDİRME SINAVI







1. Sınıf

12. Aşağıdakilerden hangisi yarımıdır?
A)  B)  C) 

ÇALIŞKAN OKUL

MATEMATİK
2. DÖNEM DEĞERLENDİRME SINAVI


1. Sınıf

7.      
Zeki'nin 20 lirası olduğuna göre hangisini alamaz?
A) Defter B) Kalem C) Çanta

ÇALIŞKAN OKUL

MATEMATİK
2. DÖNEM DEĞERLENDİRME SINAVI

1. Sınıf

13. 
Yukarıda, toplamda kaç bütün elma vardır?
A) 4 B) 6 C) 8

ÇALIŞKAN OKUL

MATEMATİK
2. DÖNEM DEĞERLENDİRME SINAVI


1. Sınıf

18. 
Yukarıdaki örüntüde yere hangisi gelmelidir?
A)  B)  C) 

ÇALIŞKAN OKUL

MATEMATİK
2. DÖNEM DEĞERLENDİRME SINAVI




1. Sınıf

4.  Ulusal Egemenlik ve Çocuk Bayramı hangi ayda kutlanır?
A) Nisan B) Mayıs C) Ekim

ÇALIŞKAN OKUL

MATEMATİK
2. DÖNEM DEĞERLENDİRME SINAVI




1. Sınıf

19. Aşağıdakilerden bardaklardan hangisi tam doludur?
A)  B)  C) 

ÇALIŞKAN OKUL

MATEMATİK
2. DÖNEM DEĞERLENDİRME SINAVI

1. Sınıf

15. Aşağıdaki ölçme birimlerinden hangisi daha küçüktür?
A) Kulaç B) Karış C) Parmak
  

ÇALIŞKAN OKUL

MATEMATİK
2. DÖNEM DEĞERLENDİRME SINAVI

1. Sınıf

20. 
Selim kaçınıcı sıradadır?
A) 1 B) 3 C) 4

ÇALIŞKAN OKUL



Testin çözümlerini YOUTUBE / ÇALIŞKAN OKUL kanalından izleyebilirsiniz.