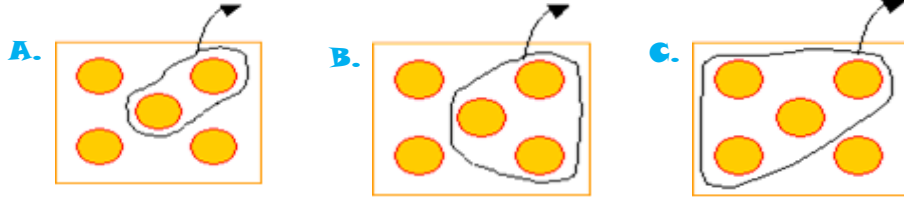


2.Sınıf Seviye Belirleme Testi- Matematik

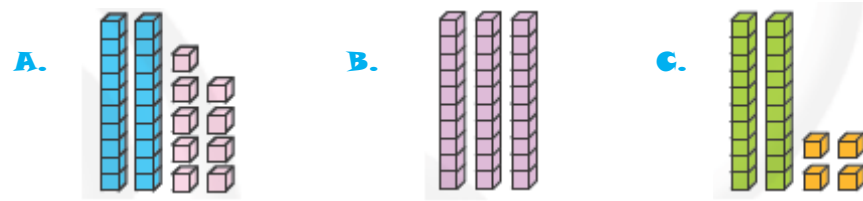
1- $5 - 3 = 2$ işlemini ifade eden şema hangisidir?



2- Aşağıdaki sayılardan hangisinin onluk sayısı farklıdır?

- A. 88 B. 82 C. 28

3- Aşağıda modellerle gösterilen sayılardan hangisi en büyüktür?



4- Bir sınıfta 8 erkek öğrenci vardır. Erkeklerden 2 eksik kız öğrenci vardır. Bu sınıftaki toplam öğrenci sayısı kaçtır?


- A. 14 B. 12 C. 8

5- "Şekillerin, sayıların ve varlıkların bir kurala göre dizilmesine **örüntü** denir."

Aşağıdakilerden hangisi örüntü **değildir**?

- A. ★♥★♥★♥★♥★♥
- B. ★★♥♥★★♥♥★★
- C. ★★♥★♥★★♥★★

6-



Yukarıdaki geometrik şekillerin isimleri hangi seçenekte sırasıyla verilmiştir?

- A. daire- çember
- B. çember- küp
- C. üçgen-daire

7-



Yukarıdaki paraların toplamı kaç lira eder?

- A. 25 ₺ B. 19 ₺ C. 24 ₺

8-



Doğduğum gün ilkbahar mevsimindedir.

Mert hangi ayda doğmuştur?

- A. Ocak B. Nisan C. Aralık

9- Aşağıdaki saatlerden hangisi **on buçuğu** (10.30) göstermektedir?



10- Aşağıdaki işlemlerden hangisinin sonucu 2 onluktur?

- A. $12 - 8$ B. $13 + 6$ C. $15+5$