

ADI SOYADI:

Eşleştirmeleri yapalım

4 yarım elma

4 çeyrek karpuz

6 bütün çilek

3 bütün ekme

8 yarım limon

4 yarım portakal

12 çeyrek armut

4 bütün kavun

4 bütün limona eşittir.

2 çeyrek elmaya eşittir.

24 çeyrek çileğe eşittir.

1 bütün karpuz eşittir.


8 yarım kavuna eşittir.

12 çeyrek ekmeğe eşittir.

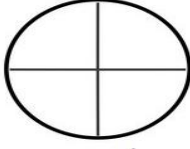
2 bütün portakala eşittir.

3 bütün armuta eşittir.


Yazılan kısmkadarını boyayalım



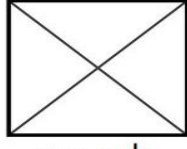
bütün



çeyrek



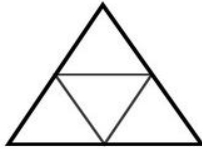
yarım



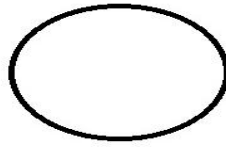
çeyrek



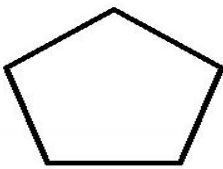
yarım



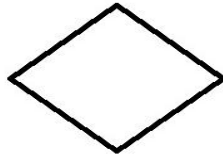
çeyrek



bütün



bütün



yarım

Sayıları yuvarlanacağı sayı ile aynı renge boyayalım

38	80	9	63	10	65
48	20	89	30	18	90
70	25	50	60	40	77

MINI TEST

8 yarım kaç çeyrek eder?

A) 4 B) 12 C) 16

6 bütün ile 10 yarımın toplamı kaç yarım eder?

A) 20 B) 22 C) 24

$$20 - 4 = 16$$

$$16 - 4 = 12$$

$$12 - 4 = 8$$

$$8 - 4 = 4$$

$$4 - 4 = 0$$

Çıkarma şeklinde verilen işlemin bölme ile gösterimi hangi seçenektir?

A) 20 : 2 B) 20 : 5 C) 20 : 4

8 sayının 4 katı, hangi onluğa yakındır?

A) 20 B) 30 C) 40

40 fındık 5 torbaya dağıtılıyor. Her torbada kaç fındık olur?

A) 8 B) 9 C) 10

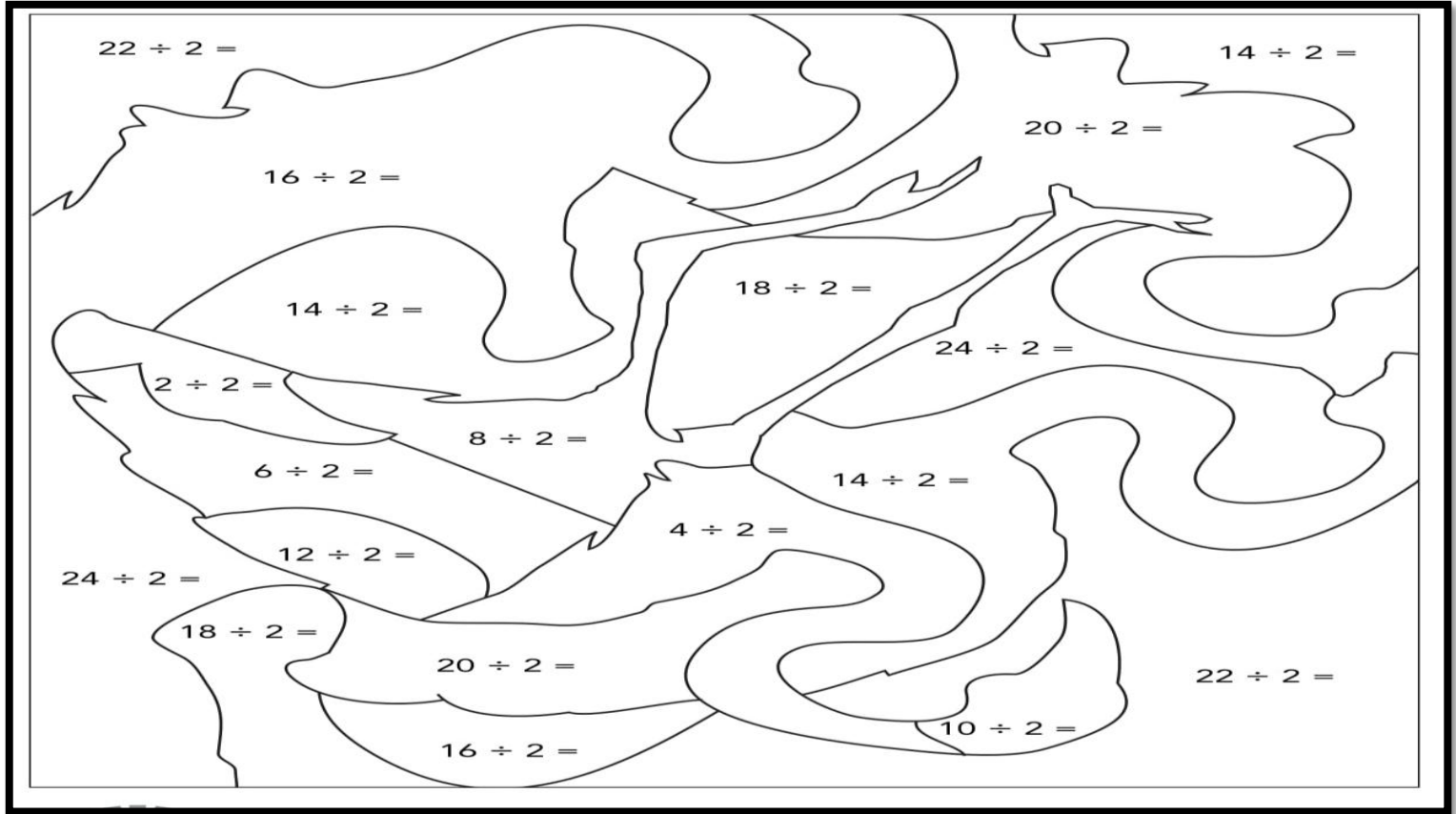
8 çeyrek ile 6 yarımın toplamı kaç bütün eder?

A) 5 B) 6 C) 7

Bölünen 36, bölen 4 ise bölüm kaçtır?

A) 9 B) 10 C) 11

İşlem sonuçlarını verilen renklere göre boyayalım



1 ile 6 arası pembe

7 ile 12 arası yeşil

İşlemleri zihinden yaparak eşleştirelim

90 - 40
10 + 20 + 30
40 + 30
80 - 0
20 + 30 + 40
30 - 0
60 + 40
10 - 0
20 + 20
90 - 70

20
80
100
40
30
50
70
10
90
60

İşlemlere göre tablodaki boşlukları doldurdum

x	2	4	5	3
9				27
6				
8				
7				

:	2	4	1
4		1	
8			
16			
20			