


ALAN - 2

Aşağıdaki kare ve dikdörtgenlerin alanlarını hesaplayınız.



3 birim

3 birim

Alan: 9 birimkare

$$3 \times 3 = 9 \text{ birimkare}$$

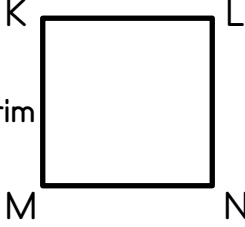
3 birim



8 birim

Alanı = 24 birimkare

$$8 \times 3 = 24 \text{ birimkare}$$



6 birim

KMNL karenin

Alanı :



3 birim

7birim

TVZY dikdörtgenin

Alanı :

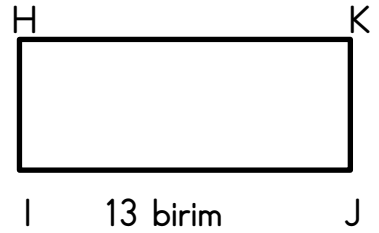


4 birim

12 birim

DEFG dikdörtgenin

Alanı :

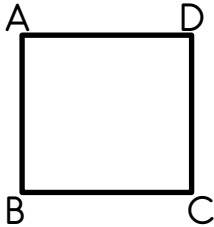


6 birim

13 birim

HJK dikdörtgenin

Alanı :



8 birim

ABCD karenin

Alanı :

Bir kenarı 12 birim olan karenin alanı kaç birimkaredir?