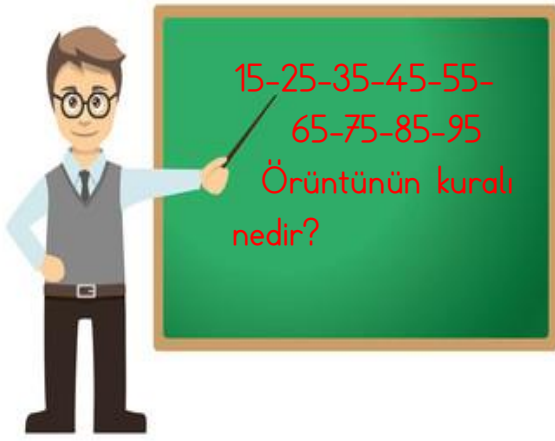


TEST 1

1. 270

sayısının okunuşu aşağıdakilerden hangisi olur?

- A) İki yüz yedi
B) İki yüz yetmiş
C) Yirmi yetmiş



2.

Yüstra



Onar onar ileriye

Melek



Onar onar geriye

Kasım




Beşer beşer ileriye

Öğretmenin sorduğu sorunun cevabını hangi öğrenci doğru yanıtlamıştır?

- A) Kasım B) Melek C) Yüstra

3.



Yukarıda yüzlük, onluk taban bloklarıyla oluşturulmuş sayı aşağıdakilerden hangisi olur?

- A) 667 B) 668 C) 677

4.




Yukarıda balonlarda bulunan sayıları en yakın yüzlüğe yuvarlarsak hangi renk balon 300 sayısına yuvarlanır?


A)

B)

C)



5.





Yukarıdaki çiçeğin yapraklarında bulunan sayıları küçükten büyüğe doğru sıralarsak hangisi doğru olur?

- A) $701 > 542 > 404 > 246 > 173$
 B) $542 > 701 > 404 > 246 > 173$
 C) $701 < 542 < 404 < 246 < 173$


6. Hangi öğrenci ritmik sayma yaparken yanlışlık yapmıştır?

A)  6-12-18-24-28-36

B)  7-14-21-28-35-42

C)  8-16-24-32-40-48

7.



Yukarıdaki örüntüde unutilan sayılar aşağıdakilerden hangisidir?

- A) 12-20
 B) 13-19
 C) 12-24

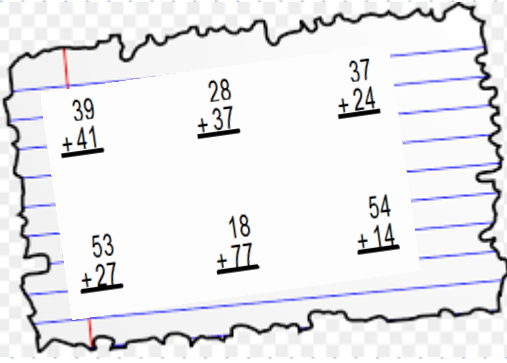
8. Aşağıdakilerden hangisinde sayıların hepsi tek sayıdır?

A) ~~211-306-707-884-953~~

B) ~~404-646-212-508-890~~

C) ~~707-911-155-113-229~~


9.



Yukarıdaki not defterinde toplama işlemlerinin kaç tanesinin sonucu tek sayı olur?

- A) 2 B) 3 C) 4

10.



Yukarıdaki romen rakamlarıyla yazılmış saatte saat ile dakikanın toplamı kaç olur?

- A) XII B) IX C) XX

11.




Alin'in 7 bilyesi vardır. Babası 8 bilye daha verince Alin'in bilye sayısı romen rakamıyla

hangisi olur?

- A) XIII B) XII IV C) XV

12.



Bir çiftlikte 350 koyun, 400 tavuğu olan Hüseyin Amca'nın toplam kaç hayvanı vardır?

- A) 650 B) 750 C) 850

13. Aşağıdakilerden hangisinin sonucu diğerlerinden farklıdır?

A)	B)	C)
434	515	132
$+ 132$	$+ 354$	$+ 434$
<hr/>	<hr/>	<hr/>

14.

$18 + (14 + 32)$	$25 + (13 + 40)$
$(25 + 13) + 40$	$(34 + 15) + 16$
$34 + (15 + 16)$	$(18 + 14) + 32$

Toplamları aynı olan işlemler eşleştirilirse hangi şekil oluşur?




15.



Ali'nin 145 misketi vardır. Babası Ali'ye 213 misket daha aldığına göre Ali'nin toplam kaç misketi olmuştur?

- A) 358 B) 345 C) 68

16.



Bir yumurtacı 135 ördek, 115 bildiran, 275 tavuk yumurtası satmıştır. Satıcı toplamda kaç yumurta satmıştır?

- A) 425 B) 250 C) 525

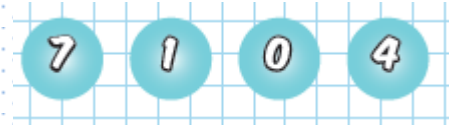
17.



Gaye 1. Gün 167 sayfa 2. gün 316 sayfa 3. gün de 254 sayfa kitap okumuştur. Gaye toplamda 3 günde kaç sayfa okumuştur?

- A) 737 B) 637 C) 727

18.



Yukarıda verilen rakamları birer kez kullanarak, yazılabilecek 3 basamaklı en büyük doğal sayı ile 3 basamaklı en küçük doğal sayının toplamını hangi öğrenci doğru cevaplamıştır?

A)




845

B)



814

C)



844

19. $318 + 142 > \Delta$

Δ yerine aşağıdaki sayılardan hangisi yazılamaz?



- A) 458 B) 459 C) 460

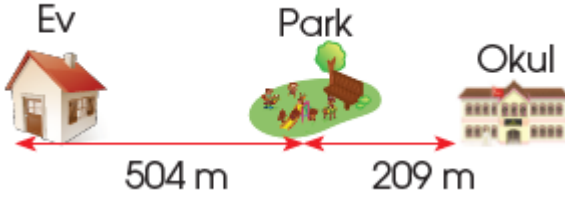
20.



Yukarıdaki kutularda toplam kaç çikolata vardır?

- A) 465 B) 504 C) 522

21.



Görsele göre ev okul arası kaç metredir?

- A) 713 B) 704 C) 304

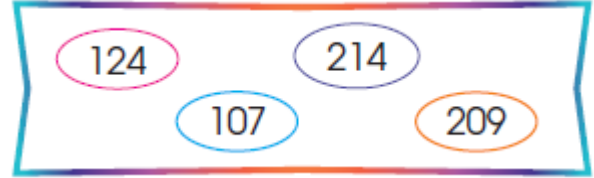
22.



Bir haftada yukarıdaki kitapları okudum. Toplamda kaç sayfa okumuşumdur?

- A) 286 B) 328 C) 332

23.



Arkadaşlar yukarıdaki sayılardan en büyük olanla en küçük olanın toplamı kaç olur?

- A) 316 B) 321 C) 338

24.



Pazarlar İlkokulu 3/B sınıfı öğrencileri 1. sınıfta 329, 2. Sınıfta ise 456 kitap okumuşlardır. İlk iki senede toplamda kaç kitap okumuşlardır?

- A) 775 B) 785 C) 675

25.



TUANA

Toplama işleminde toplananlar yer değişirse sonuç değişmez.

Yanyana toplama yaparken en fazla iki sayı toplanabilir.



ONUR



MEHMET

Toplama işleminde her zaman "toplam" en büyüktür.

Yukarıda toplama işlemi ile ilgili bilgi veren öğrencilerden hangileri doğru bilgi vermiştir?

- A) Tuana Onur
B) Onur Mehmet
C) Tuana Mehmet

26.



Yukarıdaki rakamlar kullanılarak yazılabilecek en büyük ve en küçük üç basamaklı sayıların farkı kaç olur?

- A) 397 B) 328 C) 297

27.



Aşağıda verilen işlemlerden sonucu en büyük olan hangisidir?

- A) $\begin{array}{r} 763 \\ -195 \\ \hline \end{array}$ B) $\begin{array}{r} 618 \\ -184 \\ \hline \end{array}$ C) $\begin{array}{r} 900 \\ -338 \\ \hline \end{array}$

28.



MELEK

Yedi yüz yedi

Dört yüz yirmi



KASIM

Melek ve Kasım'ın söylediği sayıların farkı kaçtır?

- A) 387 B) 292 C) 287