



EVDEKİ GÖREV VE SORUMLULUKLARIMIZ

1. Aşağıdaki cümlelerdeki boşluklara uygun kelimeleri yazalım.




- ☺ Eve geliş saatlerime ederim.
- ☺ Zamanında uyanmak için yatarım.
- ☺ Yemek masasını hazırlarız .
- ☺ Evdeki eşyaları kullanırız .
- ☺ Kişisel eşyalarımın ve odamın sağlarım .
- ☺ yaparak başkalarını rahatsız etmem.
- ☺ Aile bireylerimize karşı oluruz.
- ☺ Gerektiğinde anne ve babama ederim.
- ☺ Evimizle ilgili tüm uyarım.

özenli
kurallara
gürültü
dikkat
yardım
ailece
düzenini
saygılı
erken




2. Aşağıdaki sorumluluklardan bize (çocuğa) ait olanların (☺) ifadesini , ait olmayanların (☹) ifadesini boyyalım.



Odamızı toplamak.	☺	☹
Çalışıp para kazanmak.	☺	☹
Kişisel eşyalarımızı temiz kullanmak.	☺	☹
Evi temizlemek.	☺	☹
Okul çantamızı hazırlamak.	☺	☹
Derslerimize çalışmak.	☺	☹
Pazar ve market alışverişini yapmak.	☺	☹
Gerektiğinde anne ve babamıza yardım etmek.	☺	☹
Büyüklerle saygılı olmak.	☺	☹
Evdeki kurallara uymak	☺	☹
Elbiseleri ütölemek.	☺	☹
Zamanında yatıp uyumak.	☺	☹




TEKİL VE ÇOĞUL İSİM

 Noktalı yerleri örnekteki gibi yazalım.




elma



elmalar




.....



.....




.....



.....



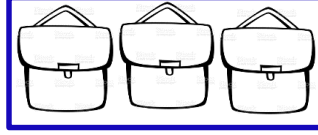
.....



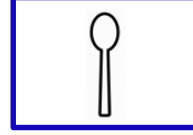
.....



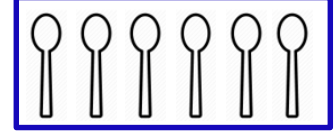
.....



.....




.....



.....



.....



.....




.....



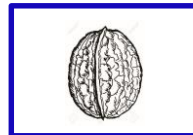
.....



.....




.....



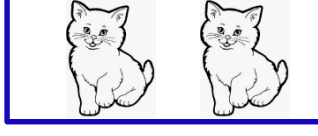
.....




.....




.....



.....



.....



.....



İSİM TÜRLERİ



Aşağıdaki tabloda verilen isimlerin ait olduğu grupları örnekteki gibi işaretleyiniz



İsimler	Özel İsim	Tür İsim	Tekil İsim	Çoğul İsim
Tencere		X	X	
İspanya				
Pıtırıcık				
Peçeteler				
Karpuz				
Faruk				
Koltuklar				
Halı				
Konya				
Minnoş				
Masalar				
Tanerler	X			X
Kavanoz				
Defter				
Bebekler				
Kızılırmak				
Samsun				
Fil				
Eldivenler				
Sunalar				
Amerika				
Şapka				
Dost				
Serhat				
Timsah				





ZİHİNDEN TOPLAMA İŞLEMİ

1. Etkinlik: Aşağıdaki toplama işlemlerini zihinden yapalım.

$30 + 20 = \dots$



$50 + 10 = \dots$



$40 + 20 = \dots$



$30 + 50 = \dots$



$10 + 70 = \dots$



$80 + 20 = \dots$



$50 + 40 = \dots$



$30 + 30 = \dots$



$20 + 20 = \dots$



$60 + 10 = \dots$



$50 + 50 = \dots$



$40 + 30 = \dots$



Önce onlukları
topla. Sonra
birekleri ekle.

2. Etkinlik: Aşağıdaki toplama işlemlerini örnekteki gibi zihinden yapalım.



$20 + 15 = 35$

$40 + 27 = \dots$

$80 + 16 = \dots$

$20 + 43 = \dots$

$20 + 10 = 30$

$\dots + \dots = \dots$

$\dots + \dots = \dots$

$\dots + \dots = \dots$

$30 + 5 = 35$

$\dots + \dots = \dots$

$\dots + \dots = \dots$

$\dots + \dots = \dots$

$34 + 30 = \dots$

$58 + 10 = \dots$

$62 + 30 = \dots$

$20 + 29 = \dots$

$\dots + \dots = \dots$

$\dots + \dots = \dots$

$\dots + \dots = \dots$

$\dots + \dots = \dots$

$\dots + \dots = \dots$

$\dots + \dots = \dots$

$\dots + \dots = \dots$

$\dots + \dots = \dots$

$70 + 14 = \dots$

$45 + 30 = \dots$

$52 + 40 = \dots$

$60 + 21 = \dots$

$\dots + \dots = \dots$

$\dots + \dots = \dots$

$\dots + \dots = \dots$

$\dots + \dots = \dots$

$\dots + \dots = \dots$

$\dots + \dots = \dots$

$\dots + \dots = \dots$

$\dots + \dots = \dots$

$40 + 18 = \dots$

$50 + 29 = \dots$

$13 + 60 = \dots$

$42 + 40 = \dots$

$\dots + \dots = \dots$

$\dots + \dots = \dots$

$\dots + \dots = \dots$

$\dots + \dots = \dots$

$\dots + \dots = \dots$

$\dots + \dots = \dots$

$\dots + \dots = \dots$

$\dots + \dots = \dots$




ZİHİNDEN TOPLAMA İŞLEMİ



1. Etkinlik: Aşağıdaki toplama işlemlerini zihinden yapalım.

24 + 12 = 36	34 + 45 =	12 + 26 =	Önce onlukları topla. Sonra birlikleri topla. Daha sonra onluk ve birlikleri topla
20 + 10 = 30 + = + =	
4 + 2 = 6 + = + =	
30 + 6 = 36 + = + =	
53 + 24 =	41 + 28 =	63 + 15 =	27 + 32 =
..... + = + = + = + =
..... + = + = + = + =
..... + = + = + = + =
55 + 35 =	46 + 29 =	38 + 13 =	75 + 17 =
..... + = + = + = + =
..... + = + = + = + =
..... + = + = + = + =



2. Etkinlik: Aşağıdaki toplama işlemlerini örnekteki gibi zihinden yapalım.

$$\begin{array}{r} 24 + 23 = 47 \\ \downarrow \quad \downarrow \\ \boxed{40} + \boxed{7} = 47 \end{array}$$

$$\begin{array}{r} 45 + 12 = \dots \\ \downarrow \quad \downarrow \\ \dots + \dots = \dots \end{array}$$

$$\begin{array}{r} 50 + 28 = \dots \\ \downarrow \quad \downarrow \\ \dots + \dots = \dots \end{array}$$

$$\begin{array}{r} 64 + 33 = \dots \\ \downarrow \quad \downarrow \\ \dots + \dots = \dots \end{array}$$

$$\begin{array}{r} 71 + 18 = \dots \\ \downarrow \quad \downarrow \\ \dots + \dots = \dots \end{array}$$

$$\begin{array}{r} 35 + 15 = \dots \\ \downarrow \quad \downarrow \\ \dots + \dots = \dots \end{array}$$

$$\begin{array}{r} 24 + 23 = \dots \\ \downarrow \quad \downarrow \\ \dots + \dots = \dots \end{array}$$

$$\begin{array}{r} 45 + 32 = \dots \\ \downarrow \quad \downarrow \\ \dots + \dots = \dots \end{array}$$

$$\begin{array}{r} 52 + 15 = \dots \\ \downarrow \quad \downarrow \\ \dots + \dots = \dots \end{array}$$


$$\begin{array}{r} 60 + 34 = \dots \\ \downarrow \quad \downarrow \\ \dots + \dots = \dots \end{array}$$

$$\begin{array}{r} 48 + 12 = \dots \\ \downarrow \quad \downarrow \\ \dots + \dots = \dots \end{array}$$

$$\begin{array}{r} 57 + 26 = \dots \\ \downarrow \quad \downarrow \\ \dots + \dots = \dots \end{array}$$



ZİHİNDEN TOPLAMA İŞLEMİ



1. Etkinlik: Aşağıdaki toplama işlemlerini zihinden yapalım.

16 + 23 = 39	42 + 36 =	25 + 23 =	Önce onlukları topla. Sonra birlikleri topla. Daha sonra onluk ve birlikleri topla
10 + 20 = 30 + = + =	
6 + 3 = 9 + = + =	
30 + 9 = 39 + = + =	
51 + 38 =	44 + 33 =	26 + 62 =	35 + 14 =
..... + = + = + = + =
..... + = + = + = + =
..... + = + = + = + =
59 + 36 =	17 + 74 =	46 + 29 =	68 + 25 =
..... + = + = + = + =
..... + = + = + = + =
..... + = + = + = + =



2. Etkinlik: Aşağıdaki toplama işlemlerini örnekteki gibi zihinden yapalım.

$12 + 25 = 37$ $30 + 7 = 37$	$34 + 21 = \dots$ $\dots + \dots = \dots$	$43 + 27 = \dots$ $\dots + \dots = \dots$	$52 + 14 = \dots$ $\dots + \dots = \dots$
$61 + 26 = \dots$ $\dots + \dots = \dots$	$25 + 45 = \dots$ $\dots + \dots = \dots$	$38 + 27 = \dots$ $\dots + \dots = \dots$	$35 + 43 = \dots$ $\dots + \dots = \dots$
$62 + 24 = \dots$ $\dots + \dots = \dots$	$50 + 25 = \dots$ $\dots + \dots = \dots$	$74 + 16 = \dots$ $\dots + \dots = \dots$	$62 + 27 = \dots$ $\dots + \dots = \dots$