



## TOPLAMA İŞLEMİ PROBLEMLER


1. Bahçede 10 erkek , 6 kız öğrenci oyun oynuyorlar. Bahçede kaç öğrenci oyun oynuyor?



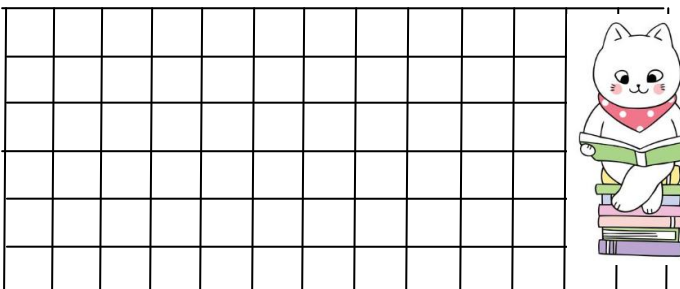
2. Otobüste 13 tane yolcu vardı. Duraktan 6 yolcu bindi. Otobüste toplam kaç yolcu olmuştur?



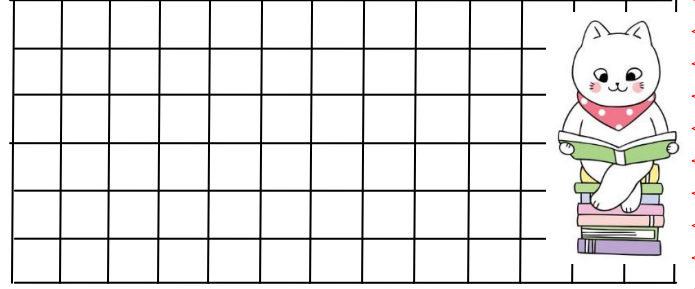
3. Hülya'nın 7 tane hikaye kitabı vardı. Babası 7 tane daha hikaye kitabı aldı. Hülya'nın kaç tane hikaye kitabı oldu ?




4. Sınıfımızda 9 tane erkek, 11 tane kız öğrenci var. Sınıfımızda toplam kaç öğrenci var?



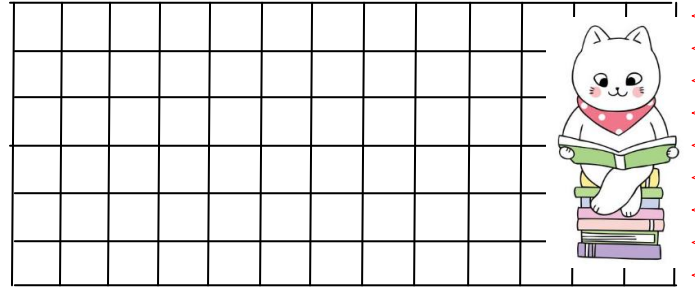
5. Ablam 10 liraya bere, 6 liraya eldiven almış. Ablam bere ve eldivene toplam kaç lira ödemiştir?



6. Bahçeye önce 8 , sonra 12 tane gül diktik. Bahçeye toplam kaç tane gül diktik ?



7. Doğan'ın 9 tane, Vedat'ın 8 tane bilyesi var. Doğan ve Vedat bilyelerini bir torbaya koydular. Torbada kaç tane bilye vardır ?



8. Arkadaşlarımla birlikte önce 9 tane sonra 9 tane daha kurabiye yedik. Toplam kaç tane kurabiye yedik?

