

MATEMATİK TEKRAR ÇALIŞMASI 1



$\begin{array}{r} \dots \\ + 65 \\ \hline 78 \end{array}$	$\begin{array}{r} \dots \\ + 18 \\ \hline 41 \end{array}$	$\begin{array}{r} \dots \\ + 19 \\ \hline 20 \end{array}$	$\begin{array}{r} \dots \\ + 52 \\ \hline 90 \end{array}$	$\begin{array}{r} 59 \\ - 45 \\ \hline \dots \end{array}$	$\begin{array}{r} \dots \\ + 51 \\ \hline \dots \end{array}$
$\begin{array}{r} 23 \\ + 12 \\ \hline \dots \end{array}$	$\begin{array}{r} \dots \\ + 7 \\ \hline 80 \end{array}$	$\begin{array}{r} 66 \\ - \dots \\ \hline 37 \end{array}$	$\begin{array}{r} 50 \\ + 36 \\ \hline \dots \end{array}$	$\begin{array}{r} 14 \\ + 69 \\ \hline \dots \end{array}$	$\begin{array}{r} \dots \\ - 9 \\ \hline 83 \end{array}$

En yakın onlukları boyayın.

28	16	48	65
20	30	10	20
40	50	60	70

"<",">","=" işaretlerinden uygun olanı yazın.

94 64	31 53	83 14
59 60	46 10	12 92

Sayıları küçükten büyüğe sıralayın. (Sembolle)

21, 65, 34, 54, 58

44 Basamak Adı Basamak Değeri

$\begin{array}{l} \rightarrow \\ \rightarrow \end{array}$
$\begin{array}{l} \rightarrow \\ \rightarrow \end{array}$

$$12 + 3 = 5 + \dots$$

$$4 + 13 = 3 + \dots$$

$$5 + 1 = \dots - 7$$

$$\dots - 4 = 14 - 5$$

Gerçek Sonuç	Tahmin	Fark
27 + 58=....		
17 + 18=....		

Gerçek Sonuç	Tahmin	Fark
38 - 26=....		
53 - 15=....		

1) Yunus 43 yaşındadır. Meyra, Yunus'dan 21 yaş küçüktür. Buna göre Yunus ve Meyra'nın yaşları toplamı kaçtır?

2) Mete 30 yaşındadır. Emir, Mete'den 16 yaş büyüktür. Buna göre Mete ve Emir'in yaşları toplamı kaçtır?

MATEMATİK TEKRAR ÇALIŞMASI 2

Verilen sayıların okunuşlarını yazınız.

Verilen sayıları rakamlarla yazınız.

97.....
92.....
41.....






yetmiş dokuz.....
otuz iki.....
on sekiz.....

Aşağıdaki toplama ve çıkarma işlemlerini zihinden yapınız.

90 - 60 =	13 + 14 =	12 + 17 =	70 - 20 =
90 - 80 =	14 + 23 =	10 + 25 =	50 - 30 =

Kutuların altına bilyelerin kaç onluk ve kaç birlikten oluştuğunu yazınız.



..... onluk + birlik

..... onluk + birlik

..... onluk + birlik

Beşer ritmik sayarken 5. söylediğimiz sayı kaçtır?

Dörder ritmik sayarken 6. söylediğimiz sayı kaçtır?

Beşer ritmik sayarken 9. söylediğimiz sayı kaçtır?

İkişer ritmik sayarken 5. söylediğimiz sayı kaçtır?

24, 25, 26, 27, 28, örüntüsünde noktalı yere kaç yazılmalıdır?

34, 39, 44, 49, 54, örüntüsünde noktalı yere kaç yazılmalıdır?

68, 65, 62, 59, 56, örüntüsünü devam ettirdiğinizde hangi sayıya ulaşırız?

