

A cartoon illustration of a female teacher with brown hair, wearing a purple shirt and blue skirt, sitting on a red chair and reading a book. She is surrounded by a group of diverse children sitting on the floor, looking towards her. The scene is framed by a blue patterned border with a large white oval shape containing the text.

UZAKTAN EĞİTİM ÖĞRENCİ ÇALIŞMALARI

31 MART 2020




MİKROBUN ETKİLERİ

mikrop, çöpler arasında yaşıyordu. o sırada sokakta oynayan çocukların topu çöplüğe kaçtı. mikrop, hemen topun üzerine çıktı? Sonra da topu alan ahmetin eline geçti. ahmet eve döndüğünde ellerini yıkamadan yemeğe oturdu? Mikrop, ahmetin elinden ekmeğe geçerek vücuduna girdi. o gece ahmet çok hastalandı, Babası doktor çağırdı. doktor ahmete, okulda aşı olup olmadığını sordu. ahmet iğneden korktuğu için aşıdan kaçmıştı, Ama şimdi tam on iğne olması gerekiyordu. ahmet iğneleri olunca iyileşti. Artık temizliğin ve aşının önemini anlamıştı?

Canım öğrencim yukarıdaki metni bilerek yanlış yazdım☺
Senden isteğim düzelterek Türkçe defterine yazman.
Bitince bana fotoğrafını atmayı unutma☺

Nurullah pazara götürdüğü 97 tane yumurtanın 49 tanesini satmıştır. Nurullah eve dönerken yumurtaların 14 tanesini de kırmıştır. Buna göre Nurullah'ın kaç tane yumurtası kalmıştır ?

Bir çiftlikte bulunan 9 koyun ile 10 tavuğun toplam kaç tane ayağı vardır?




P R O B L E M L E R

Bölünen Sayı: 36
Bölen Sayı: 4
Kalan : 0
Bölüm: ?



Bölme işleminde verilen bilgilere göre bölüm kaçtır?

8 onluk 7 birlikten oluşan sayının 49 eksiği kaçtır?



Canım öğrencim, yukarıdaki problemleri matematik defterine yaz.
Dikkatli oku ve çöz bakalım.

KONU TEKRARI

Canım öğrencim,
verdiğim kelimeleri
tablo şeklinde Türkçe
defterine yaz. Zıt
anamlısını bularak
karşısına yaz😊

Aşağıdaki işlemleri
matematik defterine
yazarak yap
bakalım😊

iyi	
güzel	
boş	
sıcak	

doğal	
yanlış	
erken	
eski	

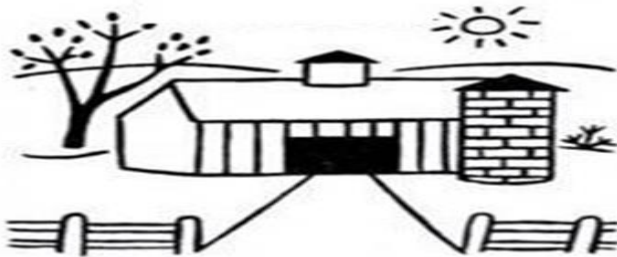
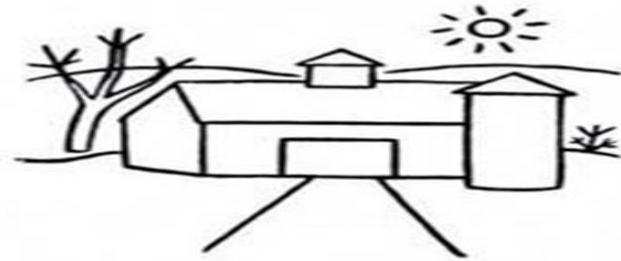
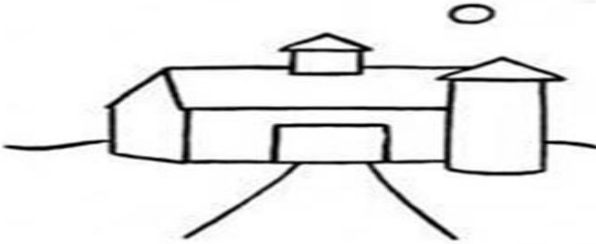
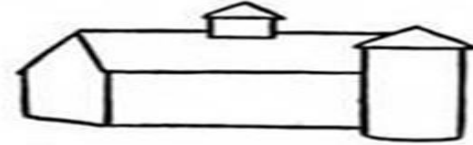

gece	
açık	
aşağı	
doğu	

ödül	
önce	
pahalı	
cimri	

$$\begin{array}{r} 1 \\ \times 3 \\ \hline \end{array} \quad \begin{array}{r} 5 \\ \times 4 \\ \hline \end{array} \quad \begin{array}{r} 2 \\ \times 6 \\ \hline \end{array} \quad \begin{array}{r} 2 \\ \times 5 \\ \hline \end{array} \quad \begin{array}{r} 2 \\ \times 1 \\ \hline \end{array} \quad \begin{array}{r} 3 \\ \times 4 \\ \hline \end{array} \quad \begin{array}{r} 3 \\ \times 2 \\ \hline \end{array} \quad \begin{array}{r} 1 \\ \times 6 \\ \hline \end{array} \quad \begin{array}{r} 5 \\ \times 4 \\ \hline \end{array} \quad \begin{array}{r} 8 \\ \times 3 \\ \hline \end{array}$$

$$\begin{array}{r} 45 \\ -17 \\ \hline \end{array} \quad \begin{array}{r} 32 \\ -19 \\ \hline \end{array} \quad \begin{array}{r} 96 \\ -88 \\ \hline \end{array} \quad \begin{array}{r} 63 \\ -26 \\ \hline \end{array} \quad \begin{array}{r} 58 \\ -39 \\ \hline \end{array} \quad \begin{array}{r} 90 \\ -84 \\ \hline \end{array} \quad \begin{array}{r} 38 \\ -19 \\ \hline \end{array} \quad \begin{array}{r} 36 \\ -29 \\ \hline \end{array} \quad \begin{array}{r} 87 \\ -79 \\ \hline \end{array}$$

EĞLENCE VAKTI



Canım öğrencim, resmin
aşamalarını dikkatle incele
ve resim kağıdına çiz.
Farklı şeyler de
ekleyebilirsin. Rengarenk
boyamayı unutma😊