













1. "Bu sıcak havada evde oturulmaz." cümlesinde altı çizili sözcüğün zıt (karşıt) anlamı, aşağıdaki cümlelerin hangisinde kullanılmıştır?

- A) Bu, arabayı çok hızlı kullanıyor.
- B) Bugün hava soğuk dışarı çıkmayalım.
- C) Sandalyeye yavaşça oturdu.

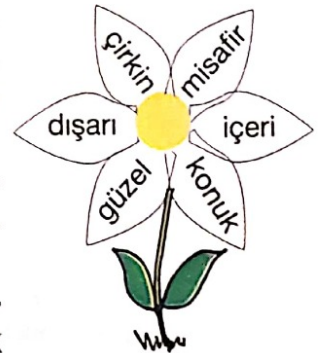
2. Aşağıdaki seçeneklerde verilen sözcük çiftlerinin hangilerinin arasında farklı bir anlam ilişkisi vardır?

- A)  pabuç  ayakkabı
- B)  yıl  sene
- C)  gece  gündüz

3. Aşağıdaki seçeneklerde kelimeler, zıt anlamlılarıyla eşleştirilmiştir. Hangisi yanlıştır?

- A)  → 
- B)  → 
- C)  → 

4. Yandaki çiçeğin yapraklarına yazılı olan sözcüklerden zıt anlamlı olanlar kırmızıya boyanacaktır. Buna göre, hangi sözcük çifti kırmızı rengine boyanmamalıdır?



- A) güzel - çirkin
B) dışarı - içeri
C) misafir - konuk

5. Cemil, baloncudan üzerinde zıt anlamlı kelimelerin yazılı olduğu balonu ister. Buna göre, baloncucu Cemil'e hangi renk balonu vermeli-dir?

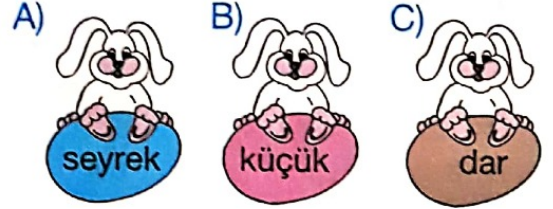


- A) Pembe
B) Yeşil
C) Mavi

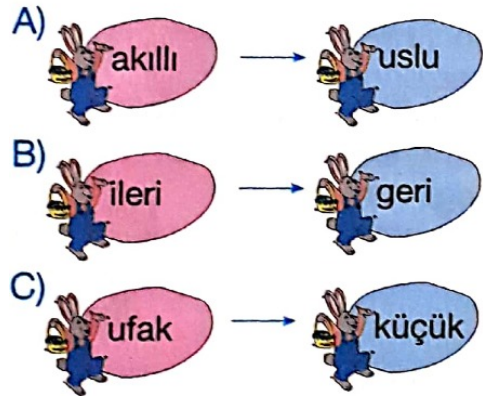
6. Aşağıdaki cümlelerin hangisinde karşıt (zıt) anlamlı sözcükler bir arada kullanılmıştır?

- A) Sevim Hanım'ın akıllı ama yaramaz bir çocuğu varmış.
B) Zengin insanlar, yoksullara yardım etmelidir.
C) Bu yaz tatilinde dedemin köyüne gideceğim.

7. "Fidanları çok sık dikmişler." cümlesindeki altı çizili sözcüğün zıt anlamlısı, aşağıdakilerden hangisidir?



8. Aşağıdaki seçeneklerde verilen sözcük çiftlerinden hangileri birbirisiyle zıt anlamlıdır?



9. "Uzun" sözcüğünün karşıt anlamlısı, aşağıdakilerden hangisidir?



- A) boylu
B) büyük
C) kısa







10. Aşağıdaki cümlelerin hangisinde karşıt anlamlı sözcükler birlikte kullanılmıştır?

- A) Güler misin ağlar mısın?
B) Ülkemizdeki yabancılara iyi davranmalıyız.
C) Karanlıkta nereye gidiyorsun?

11. "Sevinç" sözcüğünün zıt anlamlısını hangi öğrenci doğru vermiştir?

- A)  özlem
B)  üzüntü
C)  mutlu

12. Aşağıdaki seçeneklerde sözcükler, zıt anlamlılarıyla eşleştirilmiştir. Hangisi doğrudur?

- A)  Yoksul →  fakir
B)  Yaş →  ıslak
C)  Siyah →  beyaz

13.

Atalarım gökten yere
İndirmişler ay yıldızı.
Bir buluta sarmışlar ki
Rengi şafaktan kırmızı.

Onun ateş kırmızısı
Ne gelincik ne de gülden;
Türk oğlunun öz kanıdır
Ona bu al rengi veren.
H. Ali Yücel

(1. ve 2. soruları yukarıdaki şiire göre cevaplayınız.)

1. Bu şiirin konusu aşağıdakilerden hangisidir?

- A) Bayrağımızın renginin nasıl verildiği
- B) Atatürk'ün hizmetleri
- C) Milletimizin özgürlüğü

14.

2. Şiire göre, bayrağımız al rengini nereden almıştır?

- A) Bulutların renginden
- B) Kanımızın renginden
- C) Ateş kırmızısından

15.






Özcan, tahtadaki sözcüklerden hangisinin eş anlamlısını **yanlış** yazmıştır?

- A) Konut
- B) Duymak
- C) Vatan


16. Aşağıdaki seçeneklerde sözcükler, eş anlamlılarıyla birlikte verilmiştir. **Hangisiyanlıştır ?**

- A) Irmak → nehir
- B) Kırmızı → beyaz
- C) Yön → taraf

17. Aşağıdaki cümlelerin hangisinde eş anlamlı kelimeler kullanılmıştır?

- A)  Senin davranışlarından bıktım, usandım.
- B)  Genç adam, yaşlı kadına yardım ediyordu.
- C)  Doğu Anadolu'da yazlar ne sıcak ne de soğuktur.

- 18.



Ülkü, öğretmenin tahtaya yazdığı kelimelerin eş anlamlılarını yazmak için tahtaya çıkar.

Ülkü, tahtada boş bırakılan yerlere sırasıyla hangi sözcükleri yazmalıdır?


- A) al, ödev, ödül
- B) beyaz, sorumluluk, hatıra
- C) al, görev, armağan

19. Aşağıdaki sözcük çiftlerinden hangileri eş anlamlıdır?

- A) Uzak – yakın
- B) Küçük – ufak
- C) Ucuz – pahalı

20. Aşağıdaki sözcükler eş anlamlıları ile birlikte verilmiştir.

Eş anlamlısı **verilmeyen** sözcük hangisidir?

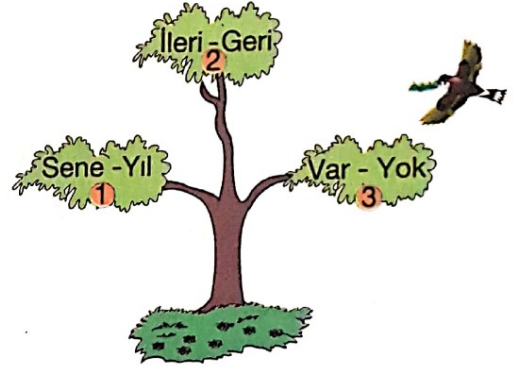


- A) Ev
B) Onarım
C) Uzak

21. Aşağıdaki sözcük çiftlerinden hangisi anlam ilişkisi bakımından diğerlerinden **farklıdır**?

- A) Ad – isim
B) Güçlü – kuvvetli
C) Yavaş – hızlı

22.

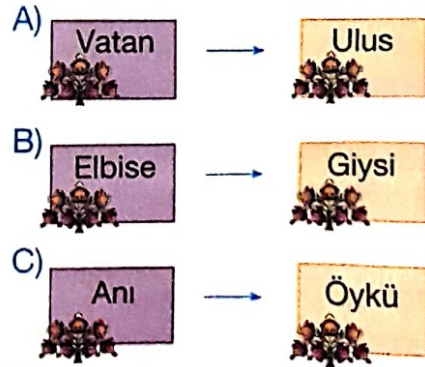


Serçe, yukarıdaki ağaçtaki numaralandırılmış dallardan üzerinde eş anlamlı sözcüklerin yazılı olduğu dala yuva yapacaktır.


Buna göre, serçe yuvasını kaç numaralı dala yapmalıdır?

- A) 1 B) 2 C) 3

23. Aşağıdaki sözcüklerden hangisinin eş anlamlısı doğru verilmiştir?



24.



Atatürk'ün anıt mezarını ziyaret etmek isteyen bir öğrenci grubu, hangi ilimize gezi düzenlemelidir?


- A) İzmir
- B) Samsun
- C) Ankara

25. Mustafa Kemal Atatürk, çocukluğunun bir kısmını nerede geçirmiştir?

- A) Amcasının çiftliğinde
- B) Dayısının çiftliğinde
- C) Teyzesinin yanında




26.




Ben, bin sekiz yüz yetmiş üçte İstanbul'da doğmuşum. Ele avuca sığmayan, hareketli ve çalışkan bir çocukmuşum. 4 - 5 yaşlarında okula başlamışım. Babamdan dersler almışım. Şimdi siz, beni İstiklâl Marşı'nızın şairi olarak tanıyorsunuz...


Yukarıda çocukluğunu anlatan kişi aşağıdakilerden hangisidir?



Mehmet
Âkif Ersoy



Kâzım
Karabekir



İsmet İnönü

27. Aşağıdaki bayramlardan hangisi, yurdumuzun düşmanlardan temizlenmesi nedeniyle kutlanmaktadır?



- A) 29 Ekim Cumhuriyet Bayramı
- B) 30 Ağustos Zafer Bayramı
- C) 23 Nisan Ulusal Egemenlik ve Çocuk Bayramı

28. Aşağıdakilerden hangisi Türk bayrağıdır?



29. Atatürk, hangi bayramı çocuklara armağan etmiştir?

- A) 30 Ağustos Zafer Bayramı
B) 29 Ekim Cumhuriyet Bayramı
C) 23 Nisan Ulusal Egemenlik ve Çocuk Bayramı

30. 30 Ağustos Zafer Bayramı bize neyi hatırlatmaktadır?

A) Ankara'nın başkent olduğunu

B) Meclisin açıldığını

C) Yurdumuzun düşmanlardan kurtarıldığını



31. 23 Nisan Ulusal Egemenlik ve Çocuk Bayramı'nda aşağıdakilerden hangisinin yapılması doğru değildir?

- A) Halk oyunları oynanması
B) Misafirlerimize şeker ikram edilmesi
C) Şiirler okunması

32. Düşmanları yurttan çıkarıp, bağımsızlığımızı kazanmak için aşağıdakilerden hangisi **yapılmamıştır**?

- A) Düşmanların yurdu terk etmesi beklenmiştir.
- B) Kadın, erkek omuz omuza çarpışmıştır.
- C) Bağımsızlığımız için savaşılmıştır.

33.



Hangi millî bayramda dünya çocukları ülkemize misafir olarak gelmektedir?

- A) 29 Ekim Cumhuriyet Bayramı'nda
B) 30 Ağustos Zafer Bayramı'nda
C) 23 Nisan Ulusal Egemenlik ve Çocuk Bayramı'nda

34. Aşağıdaki seçeneklerden hangisinde bayrağımızın özellikleri verilmiştir?

- A) Kırmızı zemin, beyaz ay ve yıldız
B) Kırmızı ay ve beyaz yıldız
C) Kare şeklinde, kırmızı, beyaz zemin

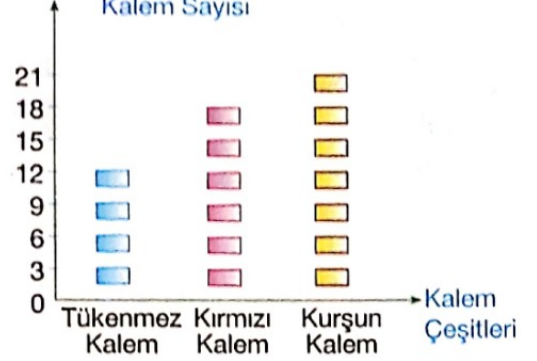
35. Kısa bir süre mahalle mektebinde öğrenim gören Atatürk, öğrenim hayatına nerede devam etmeye başlamıştır?

- A) Askeri İdadide
B) Askeri Rüştiyede
C) Şemsi Efendi İlkokulunda

36. 1. 29 Ekim 1923 (bin dokuz yüz yirmi üç) te cumhuriyet ilan edildi.
 2. 23 Nisan 1920 (bin dokuz yüz yirmi)'de Ankara'da Meclis açıldı.
 3. 19 Mayıs 1919 (bin dokuz yüz on dokuz) da Atatürk Samsun'a çıktı.
Yukarıda verilenlerden hangisi ya da hangileri doğrudur?
 A) Yalnız 1 B) 1,2 ve 3 C) 1 ve 2

37. Aşağıda bir kırtasiyede satılan kalemlerin grafiği verilmiştir.

Grafik: Bir Kırtasiyede Satılan Kalem Sayısı



Yukarıdaki nesne grafiğinde her şekil 3 kalemi göstermektedir.

Bu grafiğe göre 8, 9, 10 ve 11, soruları cevaplandırınız.

8. Bu kırtasiyede en çok satılan kalem hangisidir?

- A) Kurşun kalem
 B) Tükenmez kalem
 C) Kırmızı kalem

38. 9. Bu kırtasiyede satılan kırmızı kalemlerin sayısı kaçtır?

- A) 12 B) 18 C) 21

39. **10. Bu kırtasiyede toplam kaç kalem satılmıştır?**

- A) 17 B) 42 C) 51

40. **11. Kurşun kalemlerin sayısı, tükenmez kalemlerden kaç tane fazladır?**

- A) 9 B) 7 C) 5

41.

Tablo: Seçilen Meslekler

Meslekler	Öğrenci Sayısı
Öğretmenlik	12
Mühendislik	8
Doktorluk	10
Hemşirelik	6
Mimarlık	4

Bir okuldaki 40 öğrenciye "İleride hangi mesleği seçmek istiyorsunuz?" diye soruluyor. Alınan cevaplara göre yukarıdaki tablo oluşturuluyor.

Bu tabloya göre 12, 13 ve 14 soruları cevaplayınız.

12. En çok istenilen meslek hangisidir?

- A) öğretmenlik
B) doktorluk
C) mühendislik

42. **13. En az istenilen meslek hangisidir?**

- A) mühendislik
B) hemşirelik
C) mimarlık

43. 14. Kaç öğrenci doktor olmak istediğini söylemiştir?

- A) 8 B) 10 C) 12

44. 135 santimetrelilik bir uzunluk 1 metreden kaç santimetre fazladır?

- A) 25 B) 35 C) 40

45. Aşağıdaki uzunluk ölçü birimlerinden hangisi standart ölçü birimidir?

- A) adım B) karış C) metre

46.



Özlem'in boyunun uzunluğu 1 metre 30 santimetredir. Babasının boyu, Özlem'in boyundan 55 santimetre fazla ise, **babasının boyu kaç metre, kaç santimetredir?**

- A) 1 metre 75 santimetre
B) 1 metre 85 santimetre
C) 1 metre 80 santimetre

47. Öğretmeni Ahmet'in boyunu 125 santimetre olarak ölçmüştür. Ahmet'in boyunun uzunluğu metre ve santimetre olarak, **aşağıdaki seçeneklerin hangisinde doğru ifade edilmiştir?**



- A) 12 metre 5 santimetre
B) 2 metre 25 santimetre
C) 1 metre 25 santimetre

48.

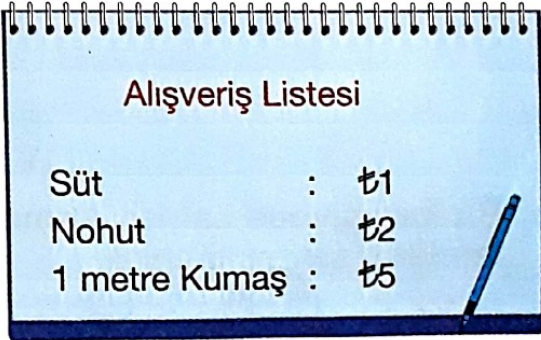


Bir bakkal, 50 kilogram şeker almış. Birinci gün 28 kilogramını, ikinci gün ise 9 kilogramını satmış.

Satılmayan şeker, kaç kilogramdır?

- A) 11 B) 13 C) 15

49.



Bir alışveriş listesinde; süt, nohut ve elbiselik kumaş bulunmaktadır.

Bunlardan hangisinin ölçü birimi kilogramdır?

- A) Nohut B) Süt C) Kumaş