
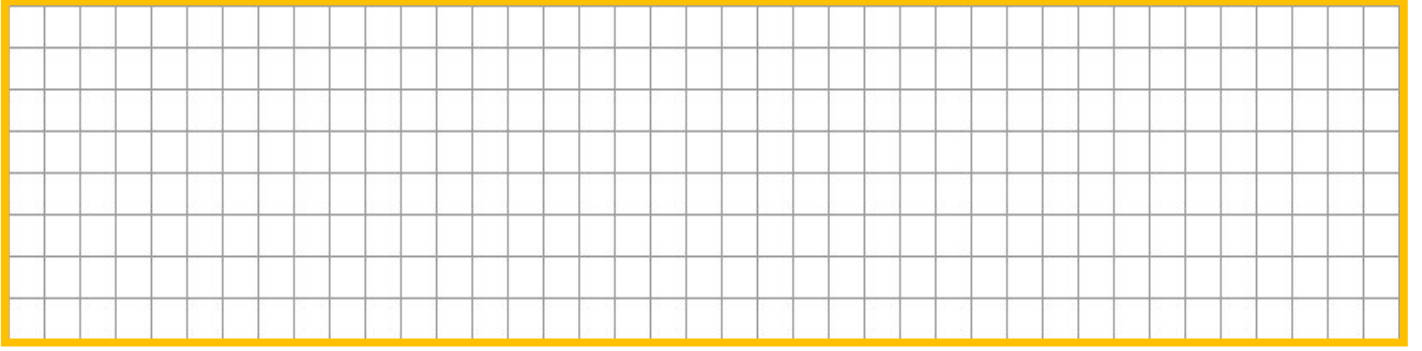


PARALARLA TOPLAMA VE ÇIKARMA PROBLEMLERİ ÇÖZÜYORUM

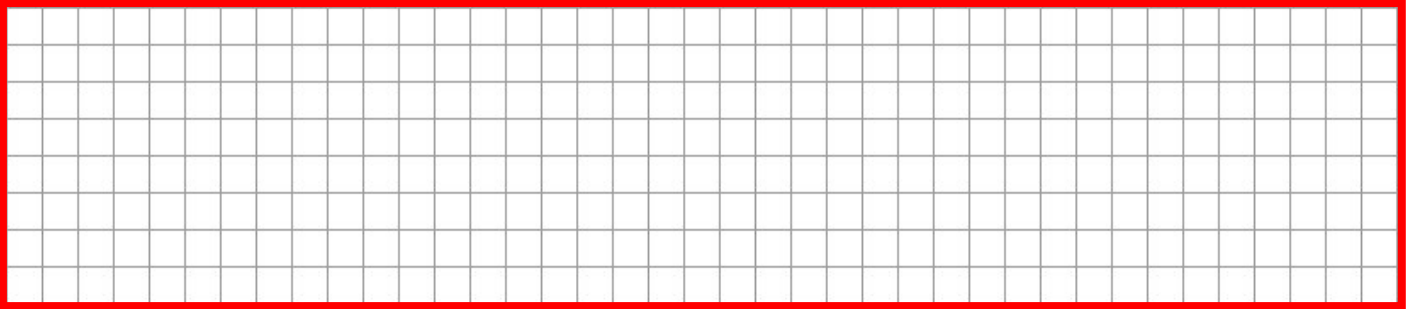
Mert, kırtasiyeden 7 TL'ye defter, 3 TL'ye ise kalem aldı. Mert kırtasiyeciyeye toplam kaç lira verecektir ?




Rabia 10 TL ile markete gitti. 6 lirası ile muz aldı. Rabia'nın geriye kaç lirası kaldı ?



Yusuf'un kumbarasına, babası 10 TL, annesi ise 5 TL attı. Yusuf'un kumbarasında toplam ne kadar parası oldu ?



Hamza'nın cebinde 20 lirası vardı. Hamza kantinden 5 TL'ye simit aldı. Hamza'nın geriye kaç lirası kaldı ?



Ahmet aldığı pasta için pastaneciye 2 tane 5 lira, 1 tane de 10 lira verdi. Ahmet pastaneciye toplam kaç lira vermiştir?

Ali annesinin verdiği 15 TL'nin 4 TL'sini kaybetti. Geriye kaç TL'si kaldı ?

Defne aldığı oyuncak için oyuncakçıya dört tane 25 kr, iki tane de 50 kr verdi. Defne'nin aldığı oyuncak kaç liradır?

Asya 20 TL ile pazara gitti. Pazarda 4 liraya portakal, 3 liraya da nar aldı. Asya'nın kaç lirası kaldı ?