








ADI SOYADI:

Saatlerin okunusunu yazalım ve gösterimini yapalım

|   |  |   |
|---|--|---|
|    | 13.30  | On üç otuz  |
|   |  |    |
|   |  |   |
|   |  |  |
|  |  |   |
|   |  |  |
|  |  |   |

MINİ TEST

$$\begin{array}{r} 3 \times 4 \\ 12 \end{array}$$

$$\begin{array}{r} 9 \times 3 \\ 24 \end{array}$$

$$\begin{array}{r} 6 \times 5 \\ 30 \end{array}$$

Hangi renkte hata yapılmıştır?

- A) sarı B) yeşil C) mavi


40 sayısına yuvarlanan en büyük ve en küçük sayının farkı kaçtır??

- A) 2 B) 6 C) 9



Yukarıdaki şemsiye sayısını üçerli gruplandığında kaç grup oluşur?

- A) 9 B) 10 C) 11



Yukarıdaki açık parmak sayıları toplamı hangi sayıyı verir?

- A) 39 B) 41 C) 45



Örüntüdeki boşluklara hangi şekiller gelir?

- A) ★ ★ B) ★ ★ C) ★ ★

İşlemlerin sonuçlarını yazalım.

$20 + 6 + 5 =$

$30 + 7 + 6 =$

$40 + 9 + 8 =$

$10 + 8 + 7 =$

$50 + 4 + 3 =$






$60 + 3 + 4 =$

Sayıları büyükten küçüğe doğru sıralayalım.

56, 45, 87, 74

\_\_\_\_\_ / \_\_\_\_\_ / \_\_\_\_\_ / \_\_\_\_\_

Şekillerin çeyreğini gösterelim.



İfadelerden doğru olana ✓ atalım.

- 14 sayısının 4 birliği vardır.
- 23 sayısının 3 onluğu vardır.
- 99 sayısı iki basamaklı en büyük sayıdır.
- 11 sayısının onluk ve birlikleri toplamı 10 dur.
- En büyük rakam 9 dur.

Saatin kaç olduğunu gösterelim.



Mevsimlerdeki ayları yazalım.

ILKBAHAR

YAZ

SONBAHAR

KIŞ

İkişer ilerleyelim.

Matematik Tekrar 28


30, \_\_\_\_\_ / \_\_\_\_\_ / \_\_\_\_\_ / \_\_\_\_\_ / \_\_\_\_\_

46, \_\_\_\_\_ / \_\_\_\_\_ / \_\_\_\_\_ / \_\_\_\_\_ / \_\_\_\_\_

22, \_\_\_\_\_ / \_\_\_\_\_ / \_\_\_\_\_ / \_\_\_\_\_ / \_\_\_\_\_

68, \_\_\_\_\_ / \_\_\_\_\_ / \_\_\_\_\_ / \_\_\_\_\_ / \_\_\_\_\_

Nesne sayılarını yazalım.



Toplama işlemlerini çarpma işlemi şeklinde gösterelim.

$2 + 2 + 2 + 2 + 2 + 2 + 2$

$4 + 4 + 4 + 4$

$1 + 1 + 1 + 1 + 1 + 1 + 1$

$5 + 5 + 5 + 5 + 5 + 5 + 5 + 5$

Saatin kaç olduğunu gösterelim.

