





BÜTÜN- YARIM- ÇEYREK 2




1-) Aşağıdaki şekillerin **yarısını** boyayalım.




2-) Aşağıda verilen nesnelere **çeyreğini çizip** boyayalım.



3-) Aşağıdakilerden hangisi **ÇEYREKTİR ?**



4-) Aşağıdakilerden hangisi **yarımı** gösterir?



6-) Yarım olan varlıkların altlarındaki kutucuğu **yeşile**, bütün olan varlıkların altlarındaki kutucuğu **kırmızıya** boyayalım.

