

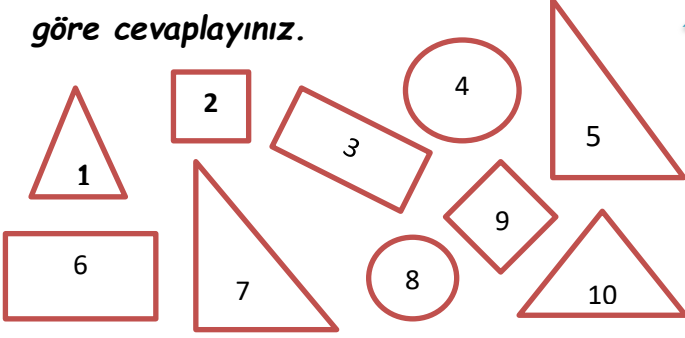
Adı:
Soyadı:
Sınıfı/No:

1.SINIF MATEMATİK

Geometrik Cisimler ve Şekiller

TEST

1, 2, 3 ve 4.soruları aşağıdaki şekillere göre cevaplayınız.



1- Verilen şekillere göre aşağıdakilerden hangisi **doğrudur**?

- A) 4 tane üçgen vardır.
- B) 4 tane dikdörtgen vardır.
- C) 4 tane çember vardır.

2- Aşağıdaki ifadelerden hangisi **yanlıştır**?

- A) 4 ve 8. şekiller köşesizdir
- B) 2 ve 9. şekiller karedir.
- C) 3 ve 6. Şekiller üç köşelidir.

- ✚ En fazla üçgen vardır.
- ✚ Kare ve çember sayıları eşittir.
- ✚ Tüm şekiller köşelidir.

3- Yukarıdaki ifadelerden kaç tanesi **doğrudur**?

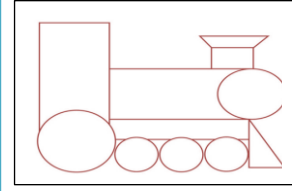
- A) 1 B) 2 C) 3

4- Yukarıdaki şekillerden kaç tanesi **köşelidir**?

- A) 8 B) 9 C) 10

5- Aşağıdakilerden hangisi **kare** için **söylenemez**?




- A) 4 kenarı vardır.
- B) Tüm kenarları eşittir.
- C) 3 köşesi vardır.



6- Yandaki resimde kaç tane çember vardır?

- A) 5 B) 4 C) 3

7- Aşağıdaki eşleştirmelerden hangisi **yanlıştır**?

- A)  koni
- B)  küp
- C)  silindir



8- Yandaki şekil hangi geometrik şekle benzemektedir?

- A) prizma B) koni C) küre

9- Bir geometrik şeklin dört kenarı varsa aşağıdakilerden hangisi **olamaz**?

- A)  Üçgen
- B)  Kare
- C)  Dikdörtgen