


# ÇARPMA İŞLEMİ PROBLEMLERİ




1. Bahçemizde 5 tane elma ağacı var. Her ağaçta 7 elma olduğuna göre bahçemizde kaç elma vardır?

2. Pastanede 4 tane pasta vardı. Her pastanın üzerine 2 tane çilek koyduklarında toplam kaç çilek kullanılmış olur?

3. Annem eve 8 tane vazo aldı. Her vazoya 3 tane çiçek koyacakmış. Vazolarda toplam kaç çiçek olur?

4. Evimizde 2 tane kitaplık, her kitaplıkta da 2 tane raf var. Rafların her birinde 9 kitap olduğuna göre evimizde kaç kitap vardır?

Modelleme



Çözüm

Modelleme




Çözüm

Modelleme



Çözüm

Modelleme



Çözüm