

ANNEM

Annem bir kitap gibi,
Bilir hikayeleri.
Sevgi yolculuğumuzda,
Anlatır her birini.

Güçlü biri olmamı,
İster her anne gibi.
Doğruluk ve sevgidir,
Bana öğrettikleri.
Tülin Aygül Çınar

1 ve 2. soruyu yukarıdaki şiire göre cevaplayalım.

1) Annesi neleri bilirmiş?

- A) Yemekleri B) Hikayeleri C) Şiirleri

2) Annesi ne öğretmiş?

- A) doğruluk ve sevgiyi B) kardeşliği
C) hikaye okumayı

3) Aşağıdaki cümlelerin hangisinde özel isim sayısı daha fazladır?

- A) Esra dün okula geç kaldı. B) Ahmet Ankara'dan geldi.
C) Arkadaşım Mehmet parka gitti.

4) Aşağıdaki cümlelerden hangisinin sonuna farklı bir noktalama işareti gelmelidir?

- A) Kuşlar çatıya konmuş B) Kuşlar çatıya ne zaman konmuş
C) Kuşlar çatıya konmuş mu

5) Aşağıdaki kelimelerden hangisi **zıt** anlamlıdır?

A)

sert-bayat

B)

ince-uzun

C)

dar-geniş

6) Aşağıdakilerden hangisi bir **cümledir**?

A) Sen de geliyor musun

B) Annem yemeğe tuz

C) Sabah kahvaltımı

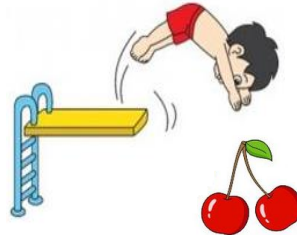
7) Hangi cümlenin yazımında **yanlış** vardır?

A) Esra Samsun'a gitti.

B) Pazar Günü gideceğiz.

C) Sabah kahvaltımı yaptım.

8)



Görselleri, oluş sırasına göre sıralarsak **ikinci görsel** hangisi olur?

A)



B)



C)



9) Aşağıdaki kelimelerden hangisinin hece sayısı daha **fazladır**?

A) çiçeklerin

B) ellerimizi

C) komşuların

10) Hangi hayvanın ismi alfabemizde daha **sonra** yer alır?

A)



B)



C)



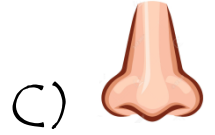
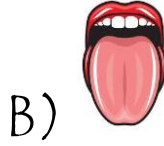
1)

yumurta	balık
bal	patates

Hayvansal besinler boyandığında tablo nasıl görünür?



2) Televizyon, tablet ve bilgisayar karşısında uzun süre kalmak hangi organımıza **zarar** verir?



3) Türkiye Cumhuriyeti'nin **kurucusu** kimdir?

A) Mustafa Kemal Atatürk

B) Mehmet Akif Ersoy

C) Seyit Onbaşı

4) Aşağıdakilerden hangisi milli bir bayram **değildir**?

A) Cumhuriyet Bayramı

B) 30 Ağustos Zafer Bayramı

C) Anneler Günü




1- İş durumu

2- Savaş durumu

5) Yukarıdakilerden hangileri ülkemize **göçün sebebi** olabilir?





-  Vatanını çok severdi.
-  Çalışkandır.
-  Plansızdır.

6) Yukarıdakilerden hangileri Atatürk'ün özellikleridir?

- A)   B)   C)  

7) "Bayrağımız ve İstiklal Marşımız sembolüdür."

Yukarıdaki verilen cümleyi aşağıdakilerden hangisi ile tamamlarsak doğru olur?

- A) bağımsızlığımızın B) başkentimizin C) okulumuzun



Yukarıdaki görsel bize hangi acil numarayı hatırlatıyor?

- 8) A) 1-1-2 B) 1-5-5 C) 1-1-0

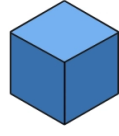
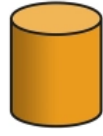
9) Aşağıdakilerden hangisi trafik kuralı **değildir**?

- A) Kırmızı ışıkta durmalı, yeşil ışıkta geçmeliyiz.
B) Emniyet kemerimizi takmalıyız.
C) Dişlerimizi düzenli fırçalamalıyız.

10) Hangisi Atatürk'ün annesidir?

- A)  Makbule Hanım B)  Zübeyde Hanım C)  Sabiha Gökçen

1)



Yandaki geometrik cisimleri kullanarak aşağıdakilerden hangisini **çizemeyiz**?

A)



B)



C)




2) 1 onluk 6 birlikten oluşan sayıdan 9 çıkarırsak geriye kaç kalır?

A) 7

B) 8

C) 9

3)



+



=




Yandaki modellenen toplama işleminin sonucu kaçtır?

A) 18

B) 15

C) 14

4) Hangi öğrenci **geriye doğru** ikiye sayarken yanlışlık yapmıştır?

A)  16-14-12-10-8-6B)  12-10-8-6-4-2C)  16-14-12-10-9-8

5)




+



+



+



=



Yukarıdaki geometrik şekillerin **toplam kenar sayısı** kaçtır?

A) 9

B) 11

C) 10



6)

$$15 - 8$$

Hangi işlemin sonucu yandaki işlemin sonucu ile aynı değildir?

A) $7 - 7 =$

B) $7 + 0 =$

C) $7 - 0 =$

7) Hangi örüntünün kuralı diğerlerinden farklıdır?



8) Ece'nin 8 tokası var. Kardeşinin tokaları Ece'nin tokalarından 3 tane eksiktir. İksinin **toplam** kaç tokası vardır?

A) 5

B) 19

C) 13



9)



Yandaki saatten 4 saat sonra akşam yemeğimizi yedik. Buna göre akşam yemeğimizi saat kaçta yiyoruz?

A) Saat 6 'da

B) Saat 7 'de

C) Saat 8 'de

10) Aşağıdakilerden hangisi örüntü değildir?



CEVAP ANAHTARI

Türkçe	Hayat Bilgisi	Matematik
1.C	1.C	1.B
2.A	2.A	2.A
3.B	3.A	3.A
4.A	4.C	4.C
5.C	5.B	5.B
6.A	6.C	6.A
7.B	7.A	7.C
8.C	8.B	8.C
9.B	9.C	9.B
10.C	10.B	10.C

Aşırı dozda emek içerir...

omeruslu06@hotmail.com

omeruslu06etkinlikleri 