


# SAATLER SORU ÇÖZÜMÜ

1-



Saatın gösterdiği zaman aşağıdakilerden hangisidir?

- A) 07.00 B) 12.00  
C) 07.30

2-

Orhan: Anne saat kaç?  
Anne: Akrep 3'ün, yelkovan 12'nin üzerinde.  
Orhan: Hmm... Anladım.

Annesinin, Orhan'a tarif ettiği saat kaçtır?

- A) 12.00 B) 04.00  
C) 15.00

3-






Yandaki saatin gösterdiği zaman aşağıdakilerin hangisinde doğru olarak verilmiştir?

- A) On buçuk  
B) Dokuz  
C) Dokuz buçuk

4-






Yandaki elektronik saatin gösterdiği zamanı gösteren saat hangisidir?


- A)  B)   
C) 

5-




Aşağıdakilerden hangisi saat 21:00'i göstermektedir?

- A)  B)  C) 

6-






Yandaki saatle aynı zamanı gösteren saat aşağıdakilerden hangisidir?

- A)  B)   
C) 

7-

Aşağıdaki saatlerin hangisinde yanlışlık yapılmıştır?

- A)  B)   
C) 



ahmetinceogretmen

8-

Aşağıdaki saatlerden hangisi öğleden sonraki zamanı göstermektedir?

- A) 02.30 B) 17.00 C) 10.00

9-



Ebru, 07.00'da uyanıyor. Tüm hazırlıklarını tamamlayıp 08.30'da evden ayrılıyor. O halde Ebru, ne kadar zamanda hazırlıklarını tamamlayarak evden ayrılıyor?

- A) Bir saatte
- B) Bir buçuk saatte
- C) İki saatte

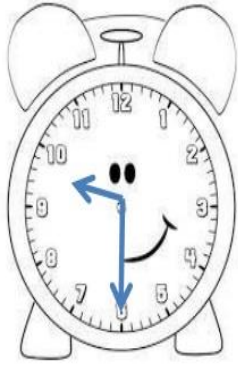
10-



Yandaki saatle aynı zamanı gösteren saat aşağıdakilerden hangisidir?



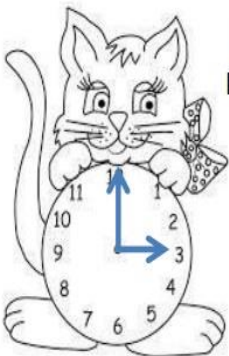
11-



Verilen saat modelinde saat kaç gösteriyor?

- A) Saat altı buçuk
- B) Saat dokuz buçuk
- C) Saat dokuz

12-



Verilen saat modelinde saat kaç göstermektedir?

- A) Saat üç
- B) Saat beş
- C) Saat on iki

13-



Saat kaç gösteriyor?

- A) Saat 7 'on beş.
- B) Saat 8'e çeyrek var.
- C) Saat 8'e yarım saat var.

14-

Yandaki saatin yelkovanı 12'ye geldiğinde akrep hangi sayıyı gösterir?




- A) 1
- B) 2
- C) 12

 ahmetinceogretmen

15-

Aylin Hanım saat 8.00'de işe başlayıp saat 17.30'da iş yerinden ayrılıyor.

Aşağıdaki saatlerden hangisi Aylin Hanım'ın iş yerinden ayrıldığı zamanı gösterir?



Aşağıdaki metni üç kez okuduktan sonra en güzel yazımızla Hayat Bilgisi defterimize yazalım.

## ÜLKEMİZE GÖÇ EDENLER

Ülkemizde farklı kültürlerden insanlar yaşamaktadır. Bazıları ülkemize eğitim, çalışma, savaş ve hastalık gibi sebeplerle göç etmişlerdir. Ülkemizde yaşayan bu farklı kültürlerdeki insanların giyimleri, dilleri, aile yapıları, düşünceleri, inanışları ve yaşam biçimleri bizim kültürümüzden farklı olabilir. Benzeyen yanları da olabilir. Kültürler arası farklılıklar olması çok doğaldır. Bu farklılıklardan dolayı onlara saygı duymalıyız.

Farklılıklar kültürel zenginliğimize de katkıda bulunur. Örneğin, aramıza katılan farklı kültürden arkadaşlarımızın oyunlarını öğrenerek oyun çeşitliliğimizi artırabiliriz. Yine farklı kültürlerde özgü yemekler, şarkılar, türküler kültürel zenginliğimizi artırır. Farklı kültürlerden gelen insanlara saygı göstermek, yardım etmek insanlığın vazgeçilmez şartlarından biridir.



ahmetinceogretmen etkinlikleri



Etkinlik Zamanı



ahmetinceogretmen

Ülkemize göç etmiş insanlarla ilgili aşağıda verilen davranış biçimlerinden doğru olanların kutusunu “**yeşile**” ile yanlış olanların kutusunu “**kırmızıya**” boyayın.

Saygılı olmalıyız.	Önyargılı olmalıyız.	Yardımcı olmalıyız.	Anlayışlı davranmalıyız.	İletişim kurmamalıyız.	Oyunlarımıza almamalıyız.
<input type="checkbox"/>	<input type="checkbox"/>	<input type="checkbox"/>	<input type="checkbox"/>	<input type="checkbox"/>	<input type="checkbox"/>

Siz başka ülkede yaşasaydınız size nasıl davranılmasını isterdiniz?



ahmetinceogretmen etkinlikleri