



TOPLAMA İŞLEMİ PROBLEMLER


1. Hakan kümeden dün 5, bugün 6 yumurta almış. Hakan iki günde toplam kaç tane yumurta almıştı?




2. Nuray dün 8 sayfa, bugün 3 sayfa kitap okumuş. Nuray iki günde toplam kaç tane sayfa kitap okumuştur?




3. Kutuda 7 tane yeşil, 3 tane mavi top var. Kutuda toplam kaç tane top vardır?




4. Ozan aldığı domatese 5 lira, bibere 7 lira ödedi. Ozan aldıklarının tamamına toplam kaç lira ödedi?




5. Bahçeden ben 4, kardeşim 3 tane elma topladık. İkimiz toplam kaç tane elma topladık?



6. Fatma'nın 5 tane sarı, 2 tane kırmızı tokası var. Fatma'nın toplam kaç tane tokası var?



7. Ağaçta 8 tane kuş vardı. Ağaca 6 tane daha kuş kondu. Ağaçta toplam kaç tane kuş olmuştur?



8. Annem kek için 4, börek için 6 tane yumurta kullandı. Annem toplam kaç tane yumurta kullanmıştır?

