


SIVI ÖLÇÜLERİ



BİLGİ NOTU

Benzin, su, sirke, süt, ayran, zeytinyağı, mazot, kolonya, limonata gibi maddeler sıvı maddelerdir.

SIVI ÖLÇÜLERİ




Sıvı maddeleri çeşitli kaplarla ölçeriz.


Standart olmayan ölçü kapları

- ★ Kova
- ★ Sürahi
- ★ Kepçe
- ★ Su bardağı
- ★ Çay bardağı
- ★ Kaşık
- ★ Tatlı kaşığı
- ★ Fincan

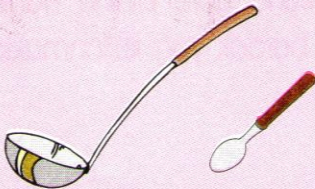
Kaplar büyüklüklerine göre sıvı alır.
Büyük kap fazla, küçük kap az sıvı alır.



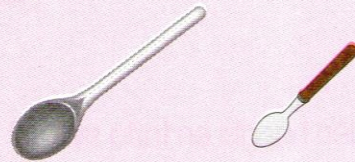
Kova sürahiden fazla sıvı alır.



Bardak, çay bardağından fazla sıvı alır.





Kepçe, kaşıktan fazla sıvı alır.

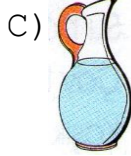
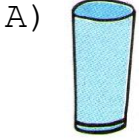


Kaşık, tatlı kaşığından fazla sıvı alır.

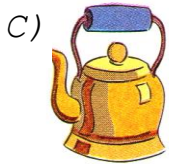


1 Aşağıdakilerden hangisi bardakla ölçülmez?




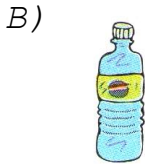
2 Bir kova suyu aşağıdaki hangi kapla ölçeriz?



3 Bir damacana su aşağıdakilerden hangisi ile ölçülmez?



4 Aşağıdakilerden hangisi en fazla sıvı alır?



5



Ayşe Teyze'nin ineği her gün 1 kova süt vermektedir. Bir haftada kaç kova süt verir?

A) 7

B) 8

C) 9

6 1 litre süttten 5 bardak süt çıkmaktadır. 3 litre süttten kaç bardak süt çıkar?

A) 10

B) 11

C) 12



7 Çiğdem Hanım çamaşır yıkamak için 2 kova su harcadı. 1 kova 5 sürahi su aldığına göre, Çiğdem Hanım kaç sürahi su harcadı?

A) 10

B) 8

C) 6



8 Bir şişe 4 bardak zeytinyağ almaktadır. Emine Hanım ayda 3 şişe yağ kullanmaktadır. Buna göre Emine Hanım ayda kaç bardak yağ kullanmaktadır?

A) 7

B) 10

C) 12



9



Füsün çiçeklere bir günde yarım sürahi su dökmektedir. 10 günde kaç sürahi su döker?

A) 10

B) 5

C) 4

10 Bir cezveden 4 fincan kahve çıkmaktadır. Merem Hanım misafirlerine üç cezve kahve yaptığına göre kaç fincan kahve ikram etmiştir?

A) 7

B) 9

C) 12

