




İTME VE ÇEKME KUVVETİ

⚙️ Aşağıdaki resimlerde ifade edilen kuvvet , iterek yapılıyorsa "itme" , çekilerek yapılıyorsa "çekme" yazalım .



.....



.....



.....



.....



.....



.....



.....



.....



.....



.....



.....




.....

⚙️ Aşağıdaki uygulanan kuvveti yazalım. (itme - çekme)



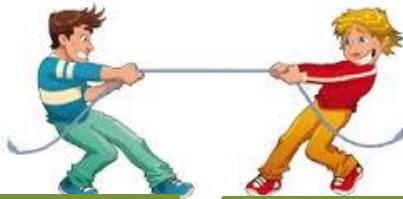
.....

.....



.....

.....



.....

.....



.....

.....