

ÖZEL OKUL SORULARINDAN HAZIRLANMIŞTIR

1. İnşaatta deneysel işçiler çalışıyor.
Bu cümledeki altı çizili sözcüğün zıt anlamlısı aşağıdaki cümlelerin hangisinde vardır?

A) Bilgili insanlar hata yapmaz.
B) Zayıf vücudu soğukta titriyordu.
C) Acemi şoför yine kaza yaptı.

2. e, r, f, t, e, d, k
Aşağıdaki sözcüklerden hangisi bu harflerle oluşturulabilir?

A) fener B) teker C) kemer

3. 1. topum
2. eski
3. futbol
_____ patladı.

Anlamlı bir cümle oluşturmak için numaralanmış sözcükler, yukarıdaki boşluklara hangi sırayla yerleştirilmelidir?

A) 1-3-2 B) 2-3-1 C) 3-1-2

4. Aşağıdaki sözcüklerden hangisi hecelerine yanlış ayrılmıştır?

A) a-ra-ba B) sa-lın-cak C) oy-un-cak

5. Arkadaşlarım sabahleyin simit yemiş.
Bu cümlede aşağıdaki sorulardan hangisinin cevabı yoktur?

A) Nerede yemiş? B) Kim yemiş? C) Ne yemiş?

6. Ayşe, kırmızı elmanın sapından tuttu. Elmayı kendisine doğru yaklaştırıp keyifle kokusunu içine çekti. İlk ısırığı alınca suratını buruşturdu çünkü elma çok ekşiydi.

Bu metinde aşağıdaki duyuların hangisinden yararlanılmamıştır?

A) İşitme B) Koklama C) Tatma

7. Veterinerlerin çoğu, evde beslenen ve çiftliklerde yetiştirilen evcil hayvanlarla ilgilenir. Ancak yaban hayvanlarının korunmasıyla ilgili kuruluşlarda ve hayvanat bahçelerinde çalışan veterinerler de vardır. Bu veterinerler yaban hayvanlarının tedavisi konusunda özel eğitim alırlar. Bazen tedavi ettikleri hayvanları özel bir hastaneye taşımaları gerekebilir.

Bu metnin konusu aşağıdakilerden hangisidir?

A) Hayvanların yaşamı
B) Veterinerlerin çalışma alanları
C) Veterinerlerin tedavi yöntemleri

8. Cüce yarasalar genellikle ağaçların, sokak lambalarının ve binaların çevresinde uçar. Sinekleri ve sivrisinekleri avlayıp onları yerler. Boyları yaklaşık olarak işaret parmağımız kadardır.

Bu metinde "cüce yarasalar" ile ilgili aşağıdaki sorulardan hangisinin cevabı yoktur?

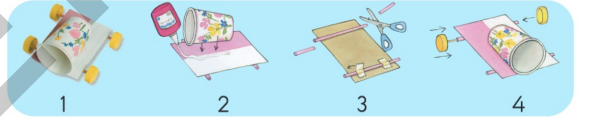
A) Ne ile beslenirler?
B) Nerede uçarlar?
C) Kaç yıl yaşarlar?

9. Bir tencere su ocağa konur. İçine biraz zeytinyağı ve tuz atılır. Su kaynadıktan sonra makarnalar eklenerek, kısık ateşte 15 dakika boyunca pişirilir. Ardından makarnanın suyu süzgeç yardımıyla süzülür ve makarna afiyetle yenir.

Bu metne göre, makarna yapmak için hangi malzemeler gereklidir?

A) Makarna, zeytinyağı, tuz, su
B) Makarna, domates, zeytinyağı, su
C) Makarna, tuz, salça, domates

- 10.



Bu görselde yer alan etkinliğin, oluş sırasına göre dizilişi aşağıdakilerden hangisidir?

A) 1-4-2-3 B) 2-3-1-4 C) 3-2-4-1

11. Kitabımı bir türlü bulamıyorum () Of () O benim en sevdiğim kitabımdı ()
Bu metinde ayrıçla gösterilen yerlere sırasıyla aşağıdaki noktalama işaretlerinden hangileri getirilmelidir?

A) (.) (.) (!) B) (!) (.) (.) C) (.) (!) (.)

12. Eski zamanlarda Anadolu'nun bir köyünde bir çocuk, yılbaşından birkaç gün önce hastalanır. Hastalığını köyde kimse tedavi edemediğinden kasabaya gitmek zorundadır. Babası, kızıyla hazırlar ve ikisi birlikte bembeyaz örtünün üzerinde zorlu bir yolculuğa çıkarlar.

Bu metindeki olay aşağıdaki mevsimlerin hangisinde geçmektedir?

A) İlkbahar B) Kış C) Yaz

13. Zehra Hanım, arkadaşı Cemile ve Cemile'nin kızı Elif'in bir türlü iş bulamamasına üzülüyordu. Cemile'nin mektubunu alınca çok sevindi. Cemile ve kızı Elif, sonunda kendilerine uygun bir iş bulmuşlardı.

Bu metinde mektubu yazan kimdir?

A) Cemile B) Zehra Hanım C) Elif

14. Arabaya yükledik valizleri
Gideriz dur durak bilmeden
Aşarız dağları tepeleri
Ne de güzeldir gördüğün an
Bilmediğin yerleri
- Bu şiirin konusu aşağıdakilerden hangisidir?
- A) Taşıtlar B) Doğa C) Yolculuk

15. Mustafa'nın okulu perşembe ve cuma günleri öğleden sonra üçte bitmektedir. Buna göre Mustafa aşağıdaki afişlerde belirtilen etkinliklerden hangisine katılabilir?



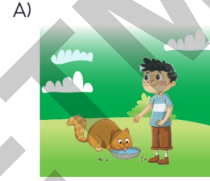
16. Ayşe : Merhaba, yarın doğum günü partim var gelir misin?
Ahmet : - - - - ?
Ayşe : Öğleden sonra diye düşündük.
Ahmet : Davet ettiğin için teşekkür ederim ama öğleden sonra futbol maçım var.
- Bu konuşmada boş bırakılan yere aşağıdakilerden hangisi getirilmelidir?
- A) Ne zaman başlayacak
B) Nerede olacak
C) Kimler katılacak

17. Ali, manavın verdiği karpuzu iki yanından kucakladı. "Nasil götürürüm bu koskocaman karpuzu?" diye hem düşünüyor hem yürüyordu. En az beş kilo çekerdi. Belki de o kadar değildi de Ali'ye öyle geliyordu. Yürüdükçe ağırlaşıyordu, şaşılacak şey! Daha da bükülüyordu incecik bacakları. Ayakkabıları kaldırım taşlarına çarpıyordu her adımda.
- Bu metne göre Ali'nin bacakları neden bükülmektedir?
- A) Ayakkabıları kaldırım taşlarına çarptığı için
B) Taşıdığı karpuz ağır geldiği için
C) Hasta olduğu için

18. Aşağıdaki cümlelerden hangisinin sonuna soru işareti konulmalıdır?
- A) Daha güneş bile doğmadı
B) Bence bu sene kış erken gelecek
C) Bugün de yağmur yağar mı ki

19. (1) Benim adım pamuk, barınakta kalan yaşlı bir kediyim. (2) Ne zamandır burada olduğumu hatırlamıyorum bile. (3) İnsanlar genelde yavru kedileri sahiplendiği için uzun süredir barınakta bekliyorum.
- Numaralanmış cümlelerin hangisinde büyük harflerin yazımıyla ilgili yanlışlık yapılmıştır?
- A) 1. B) 2. C) 3.

20. Selçuk kendince bazı sorumluluklarını yerine getirmektedir. Sabah evden çıkar çıkmaz gördüğü kişilere güler yüzle selam verir. Sokaktaki hayvanların aç ve susuz kalmaması için bahçeye kap içinde su ve yemek bırakır. Yaşlılara yardımcı olur. İhtiyaç sahibi aileler için gıda kutusu hazırlar.
- Selçuk'un aşağıdaki görsellerde yer alan davranışlarından hangisi bu metinde anlatılmamıştır?



21. Aşağıdaki nesnelere hangileri eşittir?
- A) B) C)

- 22.

Aşağıdakilerden hangisi fareden daha ağır ve ineğin daha hafiftir?



23. Ahmet 23'ten başlayarak ileriye doğru birer birer sayıyor. Sekizinci sırada söylediği sayı kaçtır?

A) 27 B) 28 C) 30

24.



Resimde verilene göre aşağıdakilerden hangisi doğrudur?

- A) Masa sayısı çocuk sayısından daha çoktur.
B) Çocuk sayısı sandalye sayısına eşittir.
C) Sandalye sayısı masa sayısından daha azdır.

25. Hangi nesnenin sayısı 10'dan büyüktür?

A)


B)

C)

26. Aşağıdaki işlemlerden hangisinin sonucu farklıdır?

A) $3 + 13$ B) $6 + 11$ C) $9 + 7$

27.



Tabaktaki şekerlerin sayısı aşağıdakilerden hangisi ile gösterilebilir?

A) 3 onluk 1 birlik B) 1 onluk 3 birlik C) 1 onluk 5 birlik

28. Bir minibüse 6 yolcu bindiğinde yolcu sayısı 14 oldu. Bu 6 yolcu binmeden önce minibüste kaç yolcu vardı?

A) 20 B) 12 C) 8

29. 12 kitap bulunan sınıf kitaplığına Ezgi 7 kitap daha getirdi. Sınıf kitaplığında kaç kitap oldu?

A) 19 B) 17 C) 5

30. $9 - 4 = 5$

Verilen çıkarma işlemi aşağıdakilerden hangisi ile modellenemez?

A)

B)

C)

31.



Emine yukarıdaki sepetten 2 portakal ve 3 elmayı alacaktır.

Meyveleri aldıktan sonra sepette kaç meyve kalır?

A) 11 B) 10 C) 9

32. Pervin'in 10, Belma'nın 6 kalemı vardır.

Pervin'in kalemleri Belma'nın kalemlerinden kaç fazladır?

A) 4 B) 10 C) 16

33.



Resimdeki tabakta bütün ve yarım portakallar vardır.

Bunların tamamı kaç tane bütün portakal eder?

A) 8 B) 10 C) 12

34. Aşağıdakilerden hangisi yanlıştır?

- A) Karenin dört köşesi vardır.
B) Çemberin bir köşesi vardır.
C) Üçgenin üç köşesi vardır.

35.



Buket'in bulunduğu konuma göre Buket'e en uzak olan kişi kimdir?

- A) Sevda B) Bora C) Asya


36.



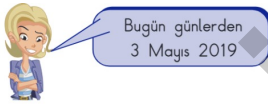
Yukarıdaki örüntüde ? yerine hangi şekil gelmelidir?

- A)  B)  C) 

37. Arzu 20 lira ile aşağıdakilerden hangisini alamaz?

- A)  22 lira
B)  18 lira
C)  15 lira

38.






Alya'nın aşağıdaki etkinliklerinden hangisi 3 Mayıs 2019 tarihinden öncedir?


- A) Yarın kursa gideceğim.
B) Bugün okula gidiyorum.
C) Dün sinemaya gittim.

39. Ahmet evden çıktığında saat sekiz buçuğu göstermektedir.

Eve 3 saat sonra döndüğünde saat kaç gösterir?

- A)  B)  C) 




40.



Resimdeki hayvanların sayıları tabloya yazılmıştır.

Çiftlikteki Hayvanların Tablosu	
Hayvanlar	Sayısı
	8
	3
	4

Tabloya hangi hayvanın sayısı yanlış yazılmıştır?

- A)  B)  C) 

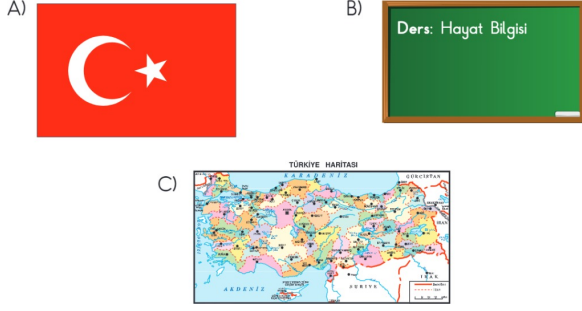
41. Aşağıdaki görselde, Mete ve Esra kendileri hakkında bilgi vermişlerdir.




Bu bilgilerden yola çıkarak Mete ve Esra ile ilgili aşağıdakilerden hangisi söylenebilir?

- A) Esra, Mete'den uzundur.
B) Göz renkleri aynıdır.
C) Fiziksel özellikleri birbirinden farklıdır.


42. Aşağıda verilen sınıf araç ve gereçlerinden hangisi şeref köşesinde bulunur?



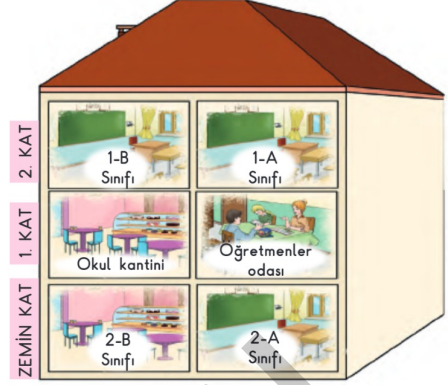
43. Aşağıdaki okul çalışanlarından hangisinin okuldaki görevi yanlış verilmiştir?



44. Mert, okuldan eve dönerken kaybolmuştur. Güvenliği için aşağıdakilerin hangisinden yardım istemesi daha uygun olur?



45. Aşağıdaki görselde bir okulun bölümleri gösterilmiştir.

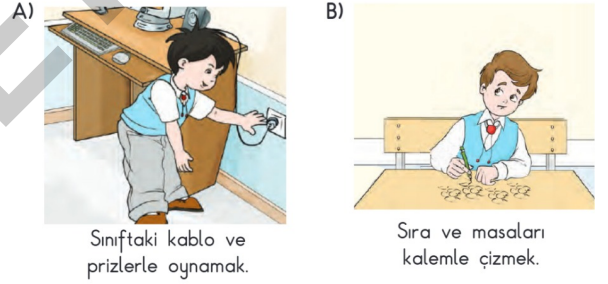


1-B sınıfı öğrencisi olan Aylin, arkadaşına görselden yararlanarak sınıfının yerini tarif etmektedir.

Buna göre aşağıdakilerden hangisi doğrudur?

- A) Okul kantininin üst katında
B) 2-B sınıfının sağında
C) Öğretmenler odasının karşısında

46. Aşağıdakilerden hangisi okul kurallarına uygun bir davranıştır?



47. Sınıf arkadaşları Pelin'e doğum günü sürprizi hazırlamıştır. Pelin bu durumda arkadaşlarına aşağıdaki ifadelerden hangisini kullanmalıdır?

- A) Rica ederim. B) Teşekkür ederim. C) Özür dilerim.

48. Evdeki kaynakları verimli kullanan bir kişinin aşağıdaki davranışlardan hangisini yapması beklenir?

- A) Gereksiz yanan ampulleri söndürür.
B) Temizlik malzemelerini gereğinden fazla tüketir.
C) Dişlerini fırçalarken musluğu açık bırakır.

49. Aşağıdakilerden hangisi yaşamımızı devam ettirebilmek için karşılamamız gereken temel ihtiyaçlarımızdan biridir?

- A) Müzik dinlemek B) Resim yapmak C) Beslenmek

50. Evimizde yangın çıktığında aramız gereken itfaiyenin telefon numarası kaçtır?

- A) 1-1-0 B) 1-1-2 C) 1-5-5


51. • Okul geçidi levhasıdır.
• Karşıdan karşıya güvenli geçmemizi sağlar.
Hakkında bilgi verilen trafik levhası aşağıdakilerden hangisidir?

- A)  B)  C) 

52. Ülkemizin başkenti neresidir?

- A) Ankara B) İstanbul C) İzmir

53. Aşağıda Demir ve babasının konuşmalarından bir bölüm verilmiştir.



Babası, Demir'in sorusuna hangi cevabı vermelidir?

- A) Ankara'da B) İstanbul'da C) Selanik'te


54. Her yıl 29 Ekim'de - - - -'ni kutlarız.

Cümledeki boşluğa aşağıdakilerden hangisi yazılmalıdır?

- A) Zafer Bayramı
B) Cumhuriyet Bayramı
C) Ulusal Egemenlik ve Çocuk Bayramı

55. Ayşe, kitabında konusu kişisel bakım olan resmi boyuyor.

Ayşe boyamak için aşağıdaki resimlerden hangisini seçmiştir?

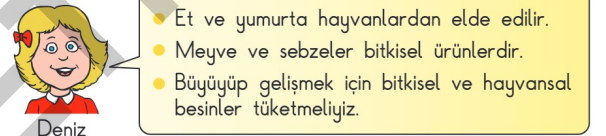


56. Ece, annesiyle birlikte beslenme çantasını hazırlıyor.

Ece, sağlıklı büyüyüp gelişmek için annesi ile aşağıdakilerden hangilerini seçmelidir?



57. Deniz, bir konuda aşağıdaki bilgileri veriyor.



Deniz, aşağıdakilerden hangisiyle ilgili bilgi vermemiştir?

- A) Bitkisel ve hayvansal besinler
B) Öğün atlamadan beslenme
C) Büyüyüp gelişmede gerekli besinler

58. Zeynep Öğretmen, tahtaya yemekte uyulması gereken görgü kurallarını yazıyor.



Zeynep Öğretmen'in boş bıraktığı yere aşağıdakilerden hangisi yazılmalıdır?


- A) Tabagımıza çok fazla yemek almamız.
B) Üstümüze dökmeden yemeliyiz.
C) Ağızımızda yemek varken konuşmalıyız.

59. Tabloda bir hayvana ait özellikler verilmiştir.

	<ul style="list-style-type: none">• Evcil hayvandır.• Buğday, ot ve solucanla beslenir.• Kümeste barınır.
--	---

Buna göre boş bırakılan yere aşağıdaki hayvan resimlerinden hangisi yerleştirilmelidir?

A)



B)



C)



60. Resimde bir bitkinin uzun zaman süresindeki değişimi gösteriliyor.



Resme göre bu bitki ile ilgili aşağıdakilerden hangisi doğrudur?

- A) Zamanla büyür ve gelişir.
- B) Havalar soğuduğunda yapraklarını döker.
- C) İlbaharda çiçek açar.