

ISPARTA GAZİ İLKOKULU 2/A SINIFI ÇALIŞMASI

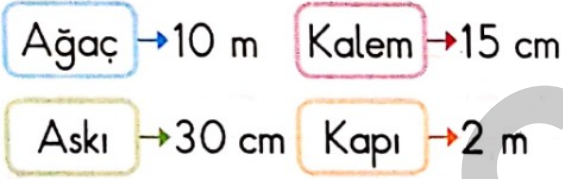
1.



Yukarıdaki silginin ölçüsü hangi seçenekte doğru gösterilmiştir?

- A) cm 4  
B) 4 cm  
C) 5 santimetre

2.



Yukarıda uzunlukları verilen nesnelerin, uzundan kısaya doğru sıralanışı hangi seçenektir?

- A)   
B)   
C)

3.

Kalemin boyu 15

Duvarın yüksekliği 2

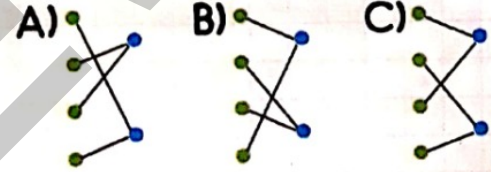
Perdenin uzunluğu 3

Tebeşirin boyu 10

santimetre

metre

Yukarıdaki eşleştirmeler hangi seçenekte doğru şekilde yapılmıştır?



4.

- Metre kısaca m ile gösterilir.  
 Santimetre kısaca cm ile gösterilir.  
 Metre ve santimetre standart uzunluk ölçme birimleridir.

İfadelerin doğru veya yanlış sıralaması hangi seçenekte verilmiştir?

- A) 

D
D
D

 B) 

Y
Y
D

 C) 

D
D
Y

5. Aşağıdaki uzunluk gruplarından hangisi daha fazla uzunlukları belirtilmiştir?

A)	27 m	12 m	10 m
B)	27 cm	12 cm	10 cm
C)	72 cm	21 cm	1 cm

6. 

• kitaplık	• perde
• toplu iğne	• pano

Yukarıdaki nesnelere kaç tanesinin uzunluk birimi santimetredir?

- A) 3      B) 2      C) 1

7. Aşağıdaki uzunluk gruplarından hangisi daha az uzunluğu belirtmiştir?

A)	1 m	15 m	17 m
B)	1 cm	51 cm	13 cm
C)	3 m	13 m	20 m

8.
  - 2m, 20 cm'den daha .....
  - 52 cm, 1 m'den daha ..... İfadelerdeki boşluklara gelecek olan kelimeler sırasıyla hangi seçenekte doğru olarak verilmiştir?

- A) 

uzundur
kısadır

      B) 

uzundur
uzundur
- C) 

kısadır
uzundur


9. 

12	43	96	21	23	69
cm	cm	cm	cm	cm	cm

Yukarıdaki uzunluklardan en uzun ve en kısa olan hangi seçenekte verilmiştir?

- A) ○○      B) ○○      C) ○○

10.



Yukarıda gelişimi gösterilen tohum, fidan ve ağacın uzunluk birimleri sırasıyla hangi seçenekte verilmiştir?

	tohum	fidan	ağac
A)	cm	cm	cm
B)	m	cm	m
C)	cm	cm	m

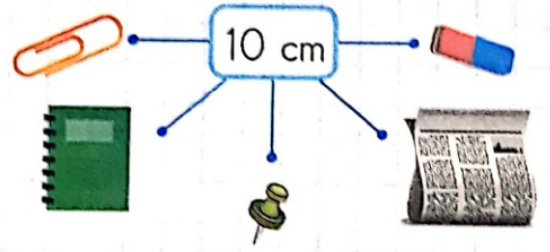
11. Aşağıdaki ifadelerden hangisi yanlıştır?

- A) Metre ile ölçülebilen nesnelere büyük yapıdır.  
 B) Santimetre, metreden daha uzun bir birimdir.  
 C) Santimetre ile küçük boyutlu nesnelere ölçeriz.

12. Aşağıdaki hangi kavramı hem metre hem de santimetre ile ifade edebiliriz?

- A) İnsan uzunluğu  
 B) Kalem uzunluğu  
 C) Yol uzunluğu

13.



Uzunluğu 10 cm'nin altında olan nesnelere kaç tanedir?


- A) 3 B) 2 C) 1

14.

Aşağıdaki ev eşyalarını gruplarından, uzunluğu 1 m'den fazla olanları hangi seçenekte verilmiştir?

A)	koltuk	ütü	fırın
B)	yatak	gardırop	buzdolabı
C)	kanepe	sehpa	fincan

15.



Bir otomobilin boyu ortalama kaç metre olabilir?

- A) 1 B) 4 C) 6

16.



Sınıfımızın kapısının uzunluğu kaç metre olabilir?

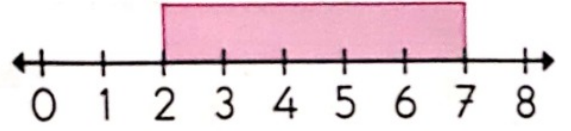
- A) 2 B) 3 C) 4

17.

Uzunlukları 5 cm'den küçük olan nesnelerin grubu hangi seçenekte doğru verilmiştir?

A)	kalem	silgi	kalemtraş
B)	tabak	iğne	pil
C)	vida	çivi	çekirdek

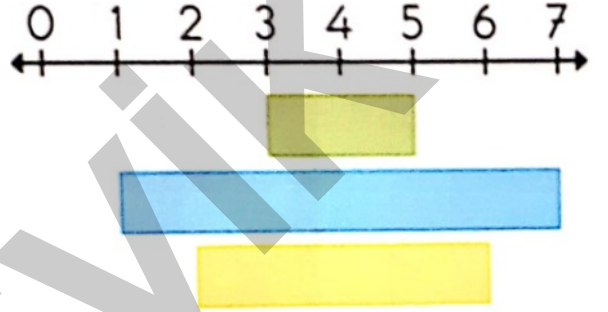
18.






Yukarıdaki pembe kâğıdın uzunluğu kaç cm'dir?

- A) 5 B) 4 C) 3

19.






Yukarıdaki renklerin uzunlukları hangi seçenekte doğru verilmiştir?

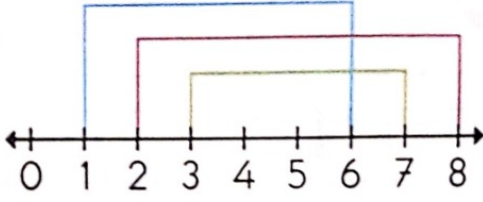
- 


- A) 2 cm 7 cm 4 cm  
 B) 2 cm 6 cm 4 cm  
 C) 3 cm 7 cm 5 cm

20.

Aşağıdaki uzunluklardan hangisi en kısadır?

- A)  7 cm  
 B)  6 cm  
 C)  5 cm

21.




Yukarıdaki renklerin en uzun olandan en kısaya doğru sıralanması hangi seçenekte verilmiştir?

A) ○○○○ B) ○○○○ C) ○○○○

22. Kuzey, elindeki üç farklı ipe ağacın gövdesini sarmıştır. Kırmızı ipe üç kez, mavi ipe dört kez ve mor ipe iki kez ağacın etrafında dönmüştür. Kuzey'in iplerinden en uzununu ve en kısasını hangi seçenekte verilmiştir?

A) ○○ B) ○○ C) ○○

23.



Yukarıdaki 1'lerden hangilerinin uzunlukları aynıdır?

A) ○○○○ B) ○○○○ C) ○○○○

24. 73 cm'lik çiçeğin boyu iki ay sonra 98 cm'ye ulaşmıştır. Çiçek iki ayda kaç cm uzamıştır?  
A) 45 cm B) 35 cm C) 25 cm

25. Utku'nun boyu 1 m 27 cm, Umut'un boyu 1 m 38 cm'dir. Umut Utku'dan kaç cm daha uzundur?

A) 11 cm  
B) 1 m 11 cm  
C) 2 m 65 cm

26. 2 m 83 cm olan kumaştan önce 32 cm, daha sonra 21 cm kesilmiştir. Geriye kalan kumaş ne kadardır?

A) 30 cm  
B) 2 m 30 cm  
C) 2 m 51 cm

27. Aras 4 cm olan ahşap küplerden üst üste 8 tane dizmiştir. Aras'ın oluşturduğu şeklin uzunluğu kaç cm'dir?

A) 28 B) 32 C) 36

28. 75 cm'ye kaç cm daha eklersek 1 m'lik uzunluk elde ederiz?

- A) 25      B) 30      C) 35



Uras, Taha'dan 27 cm daha uzunsa Uras'ın boyu kaçtır?

- A) 1 m 7 cm  
B) 1 m 37 cm  
C) 1 m 47 cm

30. Çekirge 20 cm uzağa zıplamaktadır. Dört kez zıplayıp duran çekirge kaç cm uzağa gitmiştir?

- A) 40      B) 60      C) 80

31. Yanki'nin bir karışı 15 cm'dir. Yanki'nin masal kitabının boyu iki karış olduğuna göre, masal kitabının uzunluğu kaç cm'dir?

- A) 30      B) 45      C) 60

32.

Ege'nin evinin sokak kapısı ile sokak arasındaki uzaklık 13 m'dir. Kapıdan sokağa kadar gidip gelen Ege kaç metre yürümüştür?

- A) 13      B) 26      C) 39

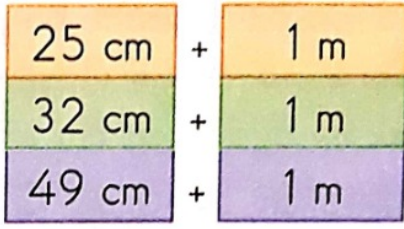
33.






Yukarıdaki uzunluklardan hangisi 1 m'ye daha uzaktır?




- A)       B)       C)




34.



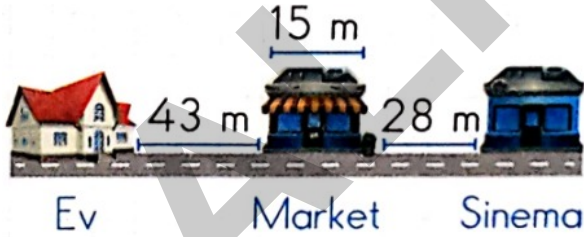
Renklere göre işlem sonuçları hangisinde doğru verilmiştir?

A)  → 1 m 25 cm  
 → 1 m 32 cm  
 → 1 m 49 cm

B)  → 1 m 25 cm  
 → 1 m 49 cm  
 → 1 m 32 cm

C)  → 1 m 49 cm  
 → 1 m 32 cm  
 → 1 m

35.



Yukarıda verilenlere göre ev ve sinema arası uzaklık kaç metredir?

A) 43      B) 71      C) 86

36.

Umut, uzunluğu 10 cm olan kırmızı şeritlerden, 4 tanesini uç uca eklemiştir. Ekledikten sonra Umut kaç cm'lik uzunluk elde etmiştir?

A) 14      B) 20      C) 40

37.

77 metre kumaşın 19 metresini satan Hayati'nin satması gereken kaç metre kumaşı kalmıştır?

A) 58      B) 57      C) 55

38.

Açılabilir bir sehpanın kapalı hâli 62 cm'dir. Yanlardan beşer cm açtıktan sonra sehpanın uzunluğu kaç cm olur?

A) 52      B) 67      C) 72

39.

Ece, Elif ve Emine bayrak yarışı yapacaklardır. Ece 33 m, Elif 27 m ve Emine 39 m koşarak bayrak yarışını tamamladılar. Yarış yapılan alanın uzunluğu kaç metredir?

A) 100      B) 99      C) 89

40. 29 cm uzağa zıplayan bir çerke, 2 atlayışta kaç cm'lik yol alır?  
A) 57 B) 58 C) 59
41. Uzunluğu 5 cm olan iplerden uç uca 9 tane eklersem kaç cm'lik bir uzunluk elde ederim?  
A) 45 B) 40 C) 35
42. Bir masanın boyu 90 cm, eni ise 45 cm'dir. Masanın boyu, eninden kaç cm fazladır?  
A) 35 B) 45 C) 55
43. 60 metrelik pembe tül, 12 metre ile perde ve 21 metre ile kapı, duvar ve beşik süsü yapılmıştır. 60 metrelik pembe tül kullanılmayan kaç metre kalmıştır?  
A) 27 B) 33 C) 37
44. 8 metrelik mavi kurdeleyi, 4 gruba ayırdım. Her gruba kaç metre mavi kurdele vermiş olurum?  
A) 2 B) 4 C) 8
45. 8 cm yeşil, 11 cm mor ve 17 cm mavi ipliği uç uca bağlayan Eray, kaç cm'lik uzunluk elde eder?  
A) 19 B) 28 C) 36
46. Küçük penguenlerden bir tanesinin ortalama boyu 33 cm'dir. İki tane küçük penguenin boyu toplam kaç cm eder?  
A) 35 B) 66 C) 69
47. Bir karış 11 cm olan Ayaz, televizyonun boyunu 7 karış olarak ölçmüştür. Bu bilgiye göre televizyonun boyu kaç cm'dir?  
A) 18 B) 67 C) 77