


EVDE KAL TÜRKİYEM

UZAKTAN EĞİTİM - 3 NİSAN 2020

ahmetinceogretmen etkinlikleri



BENEKLI KUZUCUK

Anne koyunun dört tane küçük kuzusu vardı. Bunlardan üç tanesi kar gibi bembeyazdı. Bir tanesinin ise siyah benekleri vardı. Koyun benekli kuzunun kirli olduğunu düşünüyordu.

Onu su ile yıkamaya karar verdi. Su ile yıkadı ama siyah benekleri çıkmadı. O zaman benekli kuzuyu dereye götürmeye karar verdi. Benekli kuzuyu dereye götürdü ve orada yıkadı. Ama yinede o benekler çıkmadı.

Bu sefer anne koyun kuzusunu çobanın yanına götürdü. Çoban kavalını çalıyor. Anne koyun ile benekli kuzuyu görünce ayağa kalktı. Benekli kuzuyu kucağına aldı ve onu aman ne güzel kuzu diye öpmeye başladı.

Anne koyun kuzusunu benekleri ile sevmesini öğrenmişti. Benekli kuzuyu kardeşlerinin yanına götürdü ve hep beraber ot yemeye başladılar.

Metin ile ilgili soruları yanıtlayalım.

1. Anne koyunun kaç kuzusu varmış?

.....

2. Koyun neden benekli kuzuyu yıkamayı düşünmüş?

.....

3. Çoban benekli kuzuyu ne yapmış?

.....

4. Koyun benekli kuzuyu en son kime götürmüş ?

Sahibine

Çobana

Muhtara

5. Benekli kuzu temizlenmiş mi?

Evet temizlenmiş

Hayır temizlenmemiş

Kirli değilmiş



ahmetinceogretmen




KOYUNLARINI KAYBEDEN ÇOBAN

Sence koyunlar nereye gitmiş olabilir?
Kaybolan koyunların nerede olduğunu çiz ve çoban kardeşe yardımcı ol.



YAN YANA BÖLME YAPABİLİRİM

TOPLAMA



ÇIKARMA

ÇARPMA

BÖLME

Bölme demek eşit sayıda **paylaşmak** demektir.

$$\begin{array}{r} 12 \\ 3 \overline{) 12} \\ \underline{12} \\ 00 \end{array} \quad 12 \div 3 = 4$$

İki işlemde de sonuç aynı çıktı. Sen de aşağıdaki soruları yap bakalım...



ahmetinceogretmen

$15 \div 3 = \dots\dots$

$10 \div 2 = \dots\dots$

$4 \div 2 = \dots\dots$

$25 \div 5 = \dots\dots$

$20 \div 4 = \dots\dots$

$3 \div 3 = \dots\dots$

$20 \div 4 = \dots\dots$

$36 \div 4 = \dots\dots$

$30 \div 3 = \dots\dots$

$45 \div 5 = \dots\dots$

$16 \div 2 = \dots\dots$

$16 \div 4 = \dots\dots$

$21 \div 3 = \dots\dots$

$40 \div 4 = \dots\dots$

$20 \div 5 = \dots\dots$

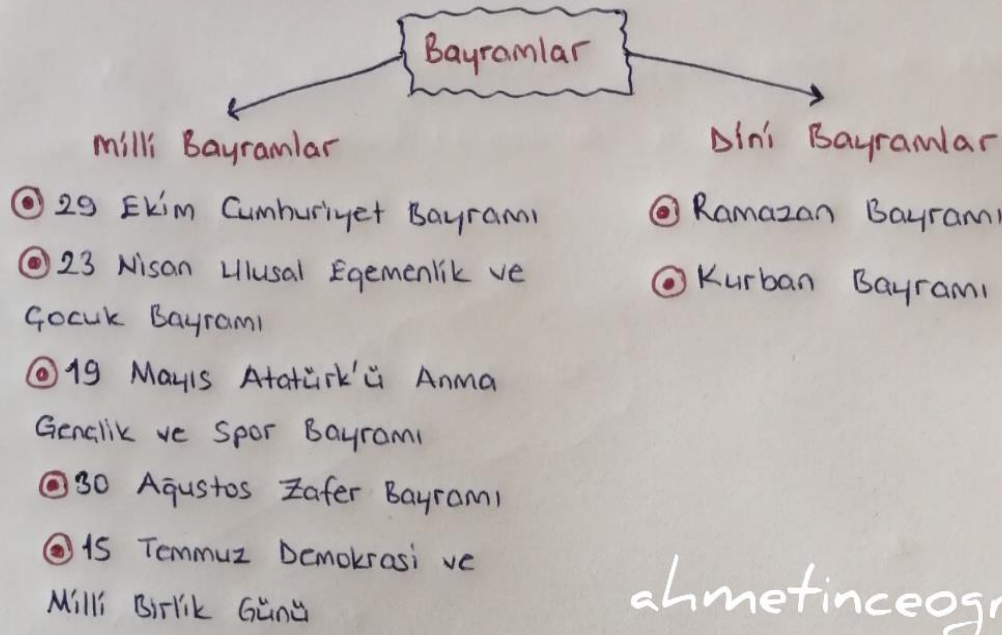
$18 \div 2 = \dots\dots$

$24 \div 3 = \dots\dots$

$32 \div 4 = \dots\dots$

BAYRAMLAR

Milli veya dini bakımdan önemli olan ve kutlanan günlere bayram denir. Bayramlar milli ve dini olmak üzere ikiye ayrılır.



ahmetinceogretmen

Milli Bayramlar

Geçmişte yaşanan tarihi olayları ve kahramanlıkları unutmamak için bazı günleri milli bayram olarak kutlarız. Milli birlik ve beraberliğimiz güçlenir.

Milli bayramlarda bazı hazırlıklar yaparız.

- ⊙ Her yer bayraklarla süslenir.
- ⊙ Evlerin pencerelerine bayrak asılır.
- ⊙ Okullarda etkinlikler düzenlenir.

Dini Bayramlar

Dinimizde kutsal sayılan günlerdir. Dini bayramlar dünyadaki tüm müslümanlar tarafından kutlanır.

Dini bayramlarda bazı hazırlıklar yaparız.

- ⊙ Evlerde temizlik yapılır.
- ⊙ Tatlılar ve yemekler hazırlanır.
- ⊙ Büyüklere elleri öpülür ve harâlıklar alınır.
- ⊙ Çocuklara bayramlık yeni kıyafetler alınır.
- ⊙ Akrabalar, komşular ziyaret edilir.



ahmetinceogretmen