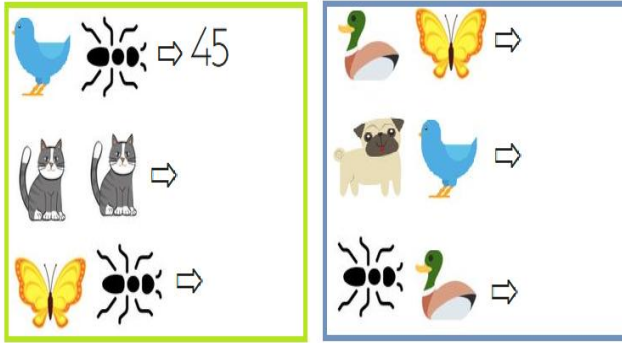







ADI SOYADI:



Hayvanlarla oluşturulan sayıları yazalım ve ifadelerden doğru olanlara ✓ atalım.







  sayısı sekiz birlikten oluşur.

  sayısının birler ve onlar basamağı aynı rakamdır.

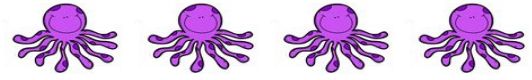
  sayının en yakın onluğu 60 'tır.

  sayısı beş onluk sekiz birlikten oluşur.

  sayısı iki basamaklı en büyük sayıdır.

  sayısının rakamları çarpımı beştir.

MINİ TEST



Yukarıdaki canlıların kolları toplamı 71 sayısından kaç eksiktir?

- A) 49 B) 42 C) 39

10	☆	
30		40
☼		

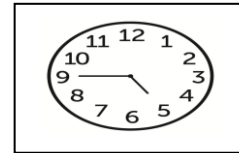
Yukarıdaki tabloda yukarıdan aşağıya, soldan sağa ve çapraz toplamlar 90 olduğuna göre ☆ ve ☼ sayılarının farkı kaçtır ?

- A) 10 B) 30 C) 50



Yukarıdaki mum sayılarının en yakın onluğu kaçtır?

- A) 20 B) 80 C) 90



Yukarıda gösterilen zamanın 45 dakika sonrası kaçtır?

- A) 5.15
B) 5.30
C) 5.45

İşlemlerin sonuçlarını yazalım.

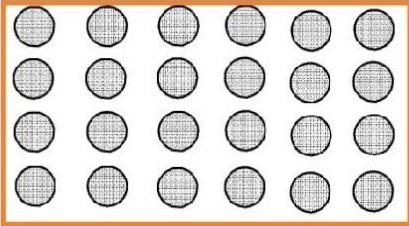
$$\begin{array}{r} 80 \\ - 52 \\ \hline \end{array}$$
$$\begin{array}{r} 30 \\ - 22 \\ \hline \end{array}$$
$$\begin{array}{r} 52 \\ - 24 \\ \hline \end{array}$$
$$\begin{array}{r} 30 \\ - 21 \\ \hline \end{array}$$
$$\begin{array}{r} 46 \\ - 38 \\ \hline \end{array}$$
$$\begin{array}{r} 63 \\ - 45 \\ \hline \end{array}$$
$$\begin{array}{r} 30 \\ - 21 \\ \hline \end{array}$$
$$\begin{array}{r} 73 \\ - 24 \\ \hline \end{array}$$
$$\begin{array}{r} 43 \\ - 35 \\ \hline \end{array}$$
$$\begin{array}{r} 52 \\ - 15 \\ \hline \end{array}$$
$$\begin{array}{r} 23 \\ - 19 \\ \hline \end{array}$$
$$\begin{array}{r} 30 \\ - 22 \\ \hline \end{array}$$

Para miktarlarını yazalım.

Matematik Tekrar 42



Verilen nesne sayısını toplama ve çarpma şeklinde gösterelim.



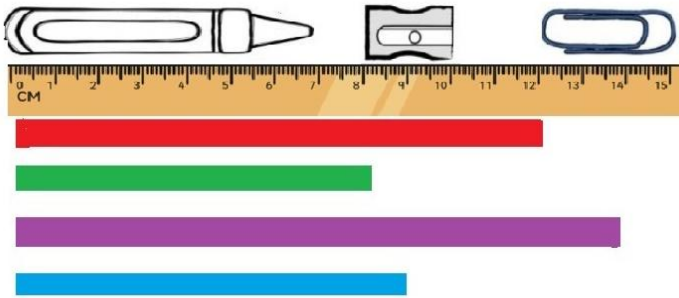
$$..... + + + + + + =$$

$$..... \times =$$

Sayıların özelliklerini örnekteki gibi dolduralım.

57 onluk birlik		50 + 7
42 onluk birlik		+
87 onluk birlik		+
75 onluk birlik		+

Renki şeritler ve ölçüm nesnelere göre boşlukları dolduralım.



* Kırmızı şerit kalemıraş uzunluğundadır.


* Mor şerit boya kalemi uzunluğunda, kalemıraş uzunluğundadır.

* Yeşil şerit kalemıraş uzunluğundadır.

* Mavi şerit ataş uzunluğundadır.

* Tüm şeritlerin toplam uzunluğu cm 'dir.

Verilen zamanları saatler üzerinde gösterelim.

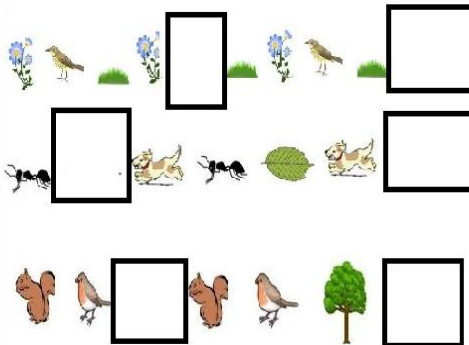


2:30 9:00



6:45 7:30

Örüntülerde eksik kısımlara gelecek görselleri çizelim.



İşlem sonuçlarını yazalım.

$$90+10=$$

$$30+30=$$

$$60+20=$$

$$50+10=$$

$$70+20=$$

$$90+10=$$

$$50+20=$$

$$10+40=$$

$$40+50=$$

$$70+30=$$

$$10+60=$$

$$30+40=$$