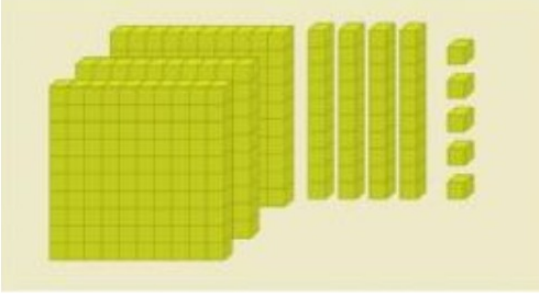


TEST 2

1.

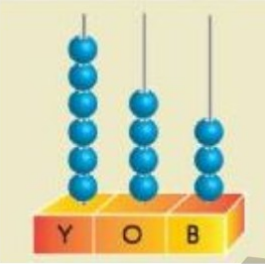


1.

Onluk taban bloklarıyla modellenen yukarıdaki sayının okunuşu aşağıdakilerden hangisidir? □

- A) Üç yüz kırk beş
- B) Beş yüz kırk üç
- C) Üç yüz elli dört

2.



2.

Yukarıdaki abaküste modellenen sayı aşağıdakilerden hangisidir?

- A) 346
- B) 634
- C) 643

3.

3. Okunuşu "yedi yüz sekiz" olan sayının yazılışı aşağıdakilerden hangisidir?

- A) 708
- B) 718
- C) 807

4.



4.

Yukarıdaki tabloda görülen sayının okunuşu aşağıdakilerden hangisidir? □

- A) Altı yüz yedi
- B) Altı yüz on yedi
- C) Yedi yüz on altı

5.

Çamaşır
Makinesi



979 lira

Fırın



974 lira

Buzdolabı



976 lira

Ali bir mağazanın önünden geçerken annesinin çok istediği eşyayı görmüştür. Alinin gördüğü eşyanın onluğa yuvarlanmış fiyatı 970 liradır. Buna göre Alinin gördüğü eşya aşağıdakilerden hangisidir?

- A. Buzdolabı
- B. Çamaşır makinesi
- C. Fırın

6.

"982" sayısıyla ilgili olarak söylenen ifadelerden hangisi yanlıştır?

- A. 8 rakamının basamak değeri 80'dir.
- B. Yüzler basamağı en büyük rakamdan oluşmuştur.
- C. 2 rakamının basamak değeri 20'dir.

7. "576 doğal sayısı ★ doğal sayısından büyüktür." cümlesindeki ★ yerine aşağıdaki sayılardan hangisi getirildiğinde ifade yanlış olur?

A. 499
B. 599
C. 508

| | | | | | |
|---|----|---|----|----|----|
| 3 | 18 | 4 | 24 | 5 | ☾ |
| 6 | 9 | 8 | ☀ | 10 | 15 |

Yukarıdaki örüntüde ☾ ve ☀ yerine hangi sayı gelmelidir?

A. 12 - 20
B. 20 - 25
C. 12 - 30

9. Aşağıdaki sayılardan hangisi 8 yüzlük, 0 onluk ve 5 birlikten oluşmuştur?


A. 805
B. 850
C. 508

10. "Dört yüz yetmiş beş" şeklinde okunan sayı aşağıdakilerden hangisidir?


A. 405
B. 475
C. 745

11. **345** 1) "345" sayısının okunuşu aşağıdakilerden hangisidir?


A) Üç yüz kırk beş
B) İki yüz beş
C) Üç yüz kırk

12.  2) "Dokuz yüz bir" sayısı aşağıdakilerden hangisidir?


A) 109 B) 901 C) 910

13.  3) Onlar basamağında "7" bulunan sayı aşağıdakilerden hangisidir?


A) 527 B) 725 C) 572

14.  6) "500+9" şeklinde çözümlenen sayı aşağıdakilerden hangisidir


A) 509 B) 590 C) 950

15.  7) "789" sayısının onlar basamağının basamak değeri kaçtır?

A) 700 B) 80 C) 9

16.  8) "524" sayısının yüzler basamağının basamak değeri ile onlar basamağının basamak değerinin farkı kaçtır?

A) 480 B) 580 C) 680

17.  4) Onlar ve birler basamağı "0" olan sayı aşağıdakilerden hangisidir?

A) 500 B) 501 C) 510

18.  "4 x yüzlük + 0 x onluk + 7 x birlik"

5) Yukarıda çözümlenmesi verilen sayı kaçtır?

A) 704 B) 407 C) 740

19. 9) "405" sayı için aşağıdakilerden hangisi doğrudur?

A) Birler basamağının basamak değeri 50 dir.
B) Rakamların toplamı 15 dir.
C) Çözümlenmesi 4 x yüzlük + 5 x birlik şeklindedir.

20. 10) Hangi sayının yüzler basamağı ile birler basamağı yer değiştirilirse sayı küçülür?

A) 525 B) 982 C) 289

21. 

11) Yukarıda onlar basamağının basamak değeri 40 olan kaç civciv vardır?

A) 2 B) 3 C) 4

22. 

12) Yukarıdaki "500" den büyük olan elmaları boyarsak kaç elma boyamış oluruz?

A) 3 B) 4 C) 5

23. "852 - 825 - 813 - 801"

16) Yukarıdaki sayıları küçükten büyüğe sıraladığımızda baştan ikinci sayı hangisidir?

A) 813 B) 825 C) 801

24. "123 - 153 - 188 - 102"

17) Yukarıdaki sayıları büyükten küçüğe sıraladığımızda baştan ikinci sayı hangisidir?

A) 102 B) 123 C) 153

25.

| | | |
|-----|-------|-----|
| 356 | | 159 |
|-----|-------|-----|

13) Yukarıdaki sayıların arasına **hangi** karşılaştırma sembolü konmalıdır?

A) $>$ B) $<$ C) $=$

26. 18) Aşağıdaki sayı bloklarından **hangisi** iki yüz kırk iki (242) sayısıdır?



27.

| | | | |
|----------|---|---|---|
| Rakamlar | 0 | 7 | 3 |
|----------|---|---|---|

14) Yukarıdaki rakamları kullanarak üç basamaklı en küçük sayı kaçtır?

A) 73 B) 730 C) 307

28.



19) Yukarıda sayı blokları verilen sayı **hangi** sayıdır?

A) 648 B) 645 C) 604

29.

| | | | |
|----------|---|---|---|
| Rakamlar | 3 | 5 | 7 |
|----------|---|---|---|

15) Yukarıdaki rakamları kullanarak yüzler basamağı 5 olan en büyük sayı kaçtır?

A) 357 B) 573 C) 537

30.

| | | | | | |
|-----------------|---|------------------|---|------------------|---|
| Onlar basamağı: | 0 | Yüzler basamağı: | 9 | Birler basamağı: | 6 |
|-----------------|---|------------------|---|------------------|---|

20) Yukarıda basamak adları verilen **hangi** sayıdır?

A) 960 B) 690 C) 906