



SAYI ÖRÜNTÜLERİ 2



Aşağıda verilen örüntünün kuralına göre boş bırakılan yerlere uygun sayıları yazınız.

53

65

Örüntünün Kuralı: 3 artar

35

20

Örüntünün Kuralı: 5 azalır

48

72

Örüntünün Kuralı: 6 artar

56

40

Örüntünün Kuralı: 4 azalır

250

400

Örüntünün Kuralı: 50 artar

540

520

Örüntünün Kuralı: 10 azalır

45

90

Örüntünün Kuralı: 9 artar

88

64

Örüntünün Kuralı: 8 azalır

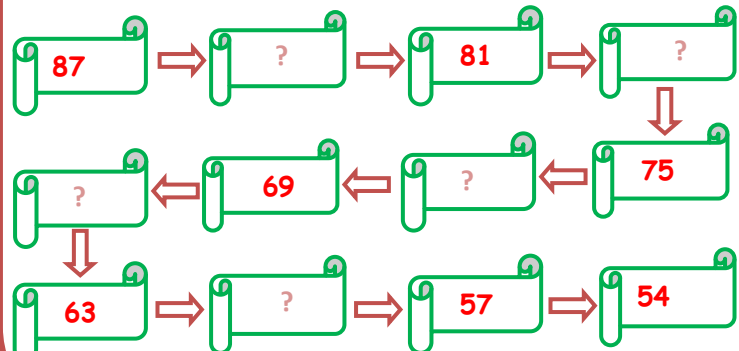
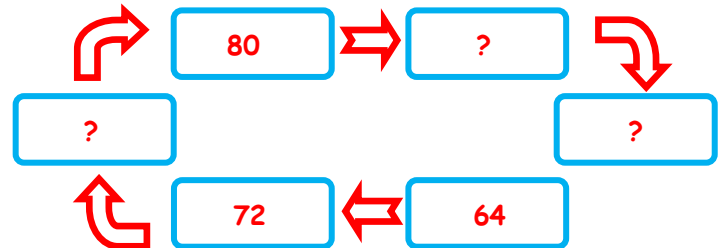
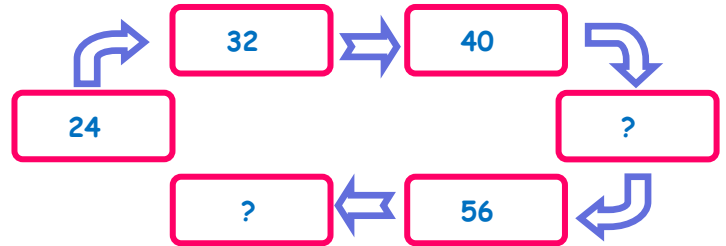
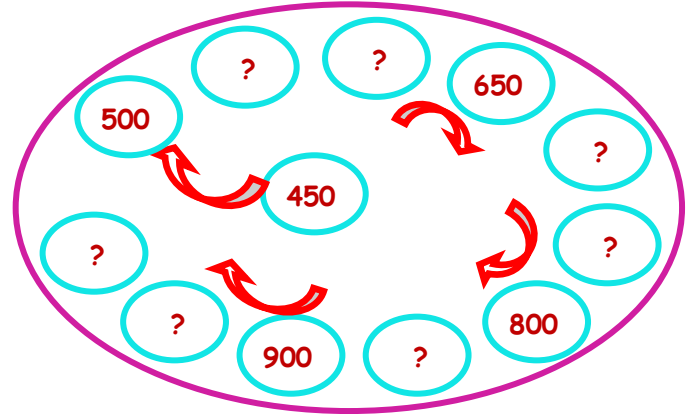
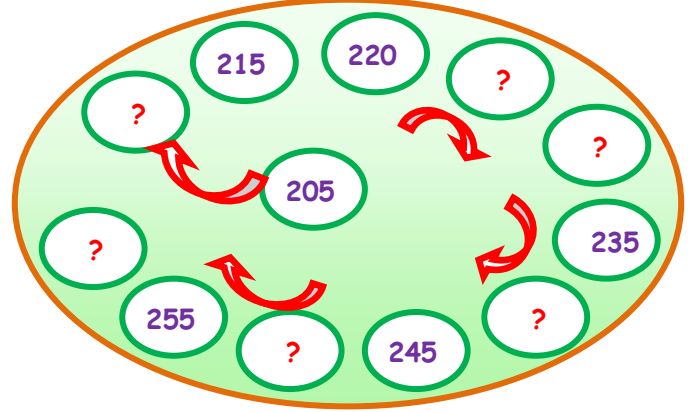
28

49

Örüntünün Kuralı: 7 artar

İskender07

Aşağıda verilen sayı örüntülerinin kuralına göre uygun sayıları yazınız.



Facebook grup = İskender07 (ilkokul etkinlik)