





GÖREV 1	GÖREV 2	GÖREV 3	GÖREV 4
Bölünen 24 ,bölen 4 ise bölüm kaçtır?	5 katlı bir apartmanın her katında 4 daire vardır. Apartmanda toplam kaç daire vardır?	35 balon 5 gruba ayrıldığında her grupta kaç balon olur?	Çarpanlardan biri 2 diğer çarpan ilk çarpanın 7 fazlası olduğuna göre çarpım kaçtır?
10 sayısının 4 katının 37 fazlası kaçtır?	90 sayısının 50 eksiği 5 bölündüğünde bölüm kaç olur?	 <p>Yukarıdaki saatte gösterilen zamanın yarım saat sonrası kaç gösterir?</p>	Saat 10.45 'te kitap okumaya başlayan Tuna yarım saat kitap okumuştur.Tuna kitap okumayı bıraktığında saat kaç gösterir?
Yaman 'ın 50 lirası vardır.Tanesi 3 lira olan pidelerden 5 tane alan Yaman ' ın kaç lirası kalır?	Cüzdanında 2 tane 10 lira,4 tane 50 kuruş ve 5 tane 1 lira olan Cemal 'in kaç lirası vardır?	Ece 'nin kumbarasında 34 lira vardır. Ece kumbarasına 5 tane 5 lira daha eklediğinde kaç parası olur?	 <p>Yukarıdaki para miktarının 58 lira eksiği kaçtır?</p>
18 cevizin çeyreği ile 24 cevizin yarısının toplamı kaçtır?	3 aydaki gün sayısından 5 haftadaki gün sayısı çıkarıldığında geriye kaç gün kalır?	Mert tanesi 4 lira olan kalemlerden 5 tane aldığına göre kaç lira ödemelidir?	Mart ayından başlayarak ileriye doğru 10 ay saydığımızda ,bu ay hangi mevsime aittir?
 <p>Yukarıdaki zamanın 2 saat 15 dakika sonrası saat kaç gösterir?</p>	 <p>Yukarıdaki hayvanların ayak sayıları toplamı kaçtır?</p>	30 sayısına yuvarlanan en küçük sayıyı 5 'e böldüğümüzde bölüm kaç olur?	Mehmet Bey 45 lirayı 5 torununa paylaştırmıştır. Her torununun kaç lirası olur?