



Aşağıdaki tabloda yer alan hayvanları ve sayılarını inceleyin. Çıkarma işlemlerinde gösterilen hayvanların sayılarını yazıp çıkarma işlemlerini yapalım ve verilen şifreyi çözelim.


							
9	8	7	6	5	4	3	2


O

 →


 →


Z

 →


 →


Ç

 →


 →


K

 →


 →


L

 →


 →


G

 →


 →


Ü

 →

 →

E

 →

 →

3	7	2
<input type="text"/>	<input type="text"/>	<input type="text"/>

5	1	4	0	6
<input type="text"/>	<input type="text"/>	<input type="text"/>	<input type="text"/>	<input type="text"/>