












Soruları görsel fiyatlarına göre cevaplayalım

En pahalı oyuncak hangisidir?

.....

En ucuz oyuncak hangisidir?

.....

Top, davul ve helikopterin toplamı kaç liradır?

.....

Bebek ,zürafadan kaç lira fazladır?

.....

Otomobil ile geminin farkı kaç liradır?

.....

## MINİ TEST



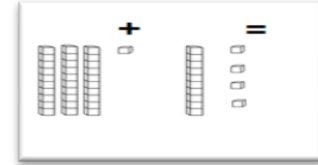
Yukarıdaki oyuncacı almak için 50 lira verilirse ne kadar para üstü alınır?

- A) ₺ 20 B) ₺ 30 C) ₺ 40

x	4	2
3		
5		

Tabloya göre sarı ve mavi bölüme hangi sayılar gelmelidir?

- A) 12,10 B) 6,12 C) 12,15



Onluk bloklarla gösterilen sayıların toplamı kaçtır?

- A) 55 B) 45 C) 43

Kırk beş	on yedi	21
17	yirmi bir	58
elli sekiz	45	Otuz beş

Tabloda hangi sayının okunuşu veya yazılışı verilmemiştir?

- A) 45 B) 35 C) 58

$$4 + \square - 6 = 6$$

$$12 - 5 + \square = 8$$

Kutucuklara gelecek sayıların çarpımı kaçtır?

- A) 9 B) 8 C) 7

Bölme işlemlerini yapalım.

$$\begin{array}{r} 8 \overline{) 4} \\ \hline \end{array}$$

$$\begin{array}{r} 18 \overline{) 2} \\ \hline \end{array}$$

$$\begin{array}{r} 32 \overline{) 4} \\ \hline \end{array}$$

Sayıları dörder geriye doğru yazalım.

Matematik Tekrar 29

64 - 60 - 56 - - - - -

80 - 76 - 72 - - - - -

40 - - - - -

52 - - - - -

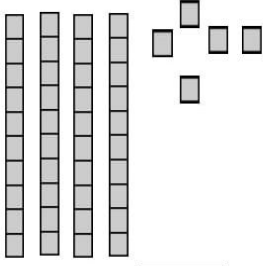
96 - - - - -

$$\begin{array}{r} 35 \overline{) 5} \\ \hline \end{array}$$

$$\begin{array}{r} 9 \overline{) 3} \\ \hline \end{array}$$

$$\begin{array}{r} 5 \overline{) 5} \\ \hline \end{array}$$

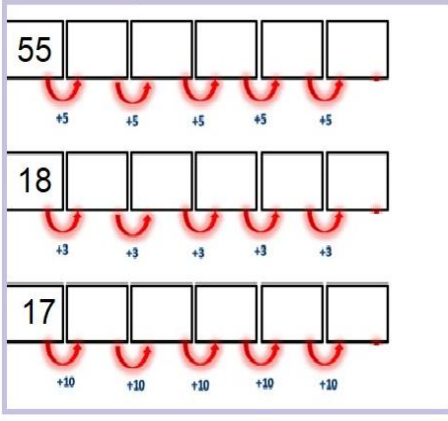
Sayıyı ve okunuşunu yazalım.




Sayı:

Okunuşu:

Sayı örüntülerini tamamlayalım.



Saatin kaçı gösterdiğini yazalım.




Öğleden Önce

Öğleden Sonra

Para miktarlarını yazalım.

Matematik Tekrar 29



=



=



=



=



=



=



= ₺



= ₺



= ₺